

地 理

(全卷满分 100 分,考试时间 75 分钟)

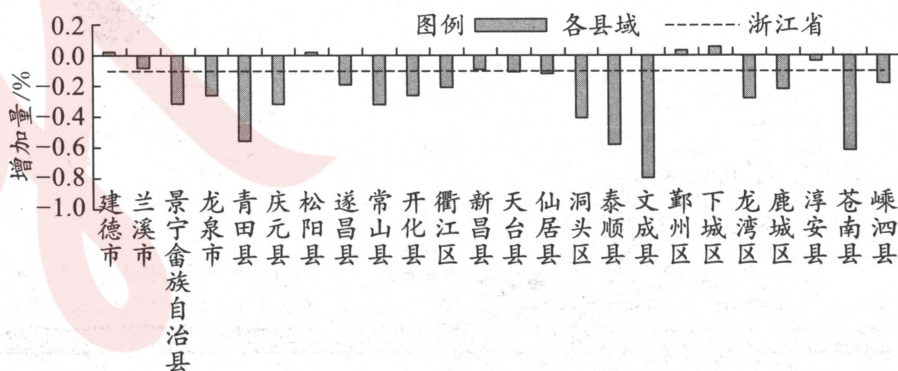
注意事项:

1. 答卷前,考生务必将自己的姓名、准考证号等填写在本试卷和答题卡相应位置上。
2. 作答选择题时,选出每小题答案后,用 2B 铅笔把答题卡上对应题目的答案标号涂黑;如需改动,用橡皮擦干净后,再选涂其他答案。答案不能答在试卷上。
3. 非选择题必须用黑色字迹的钢笔或签字笔作答。答案必须写在答题卡各题目指定区域内相应位置上;如需改动,先画掉原来的答案,然后再写上新答案;不准使用铅笔和涂改液。不按以上要求作答无效。
4. 考生必须保证答题卡的整洁。考试结束后,将试卷和答题卡一并交回。

第 I 卷(选择题,共 48 分)

一、单项选择题:本题共 16 个小题,每小题 3 分,共 48 分。在每小题给出的四个选项中,只有一项最符合题目要求。

2000~2020 年浙江省常住人口持续增长,但县域尺度出现局部人口收缩。收缩县域集中于浙西南山区、生态保护区及海岛,空间格局由带状收缩转为局部点状收缩,受县域内部推力与中心城市拉力共同作用。下图为浙江省及各县域 2010~2020 年出生率增加量。据此完成 1~3 题。



1. 下列关于浙江省县域人口的推测,合理的是
 - A. 出生率多为负值,人口增长缓慢
 - B. 出生率降低,生育意愿不高
 - C. 地形条件限制,人口大量外迁
 - D. 生态保护需要,人口异地安置
2. 2000~2020 年浙江省县域人口收缩空间格局由“带状”转为“点状”的关键因素是
 - A. 省域产业结构调整
 - B. 乡村振兴与区域发展
 - C. 交通条件大幅改善
 - D. 矿产资源的开发

3. 应对县域人口收缩,浙江省城市化发展应采取的合理措施是

- A. 新建城区,吸引迁出人口回流
B. 产业调整,发展劳动密集型产业
C. 资源整合,优化存量空间配置
D. 政策引导,限制人口向城市集聚

地理科普头部机构——星球研究所于2026年4月官宣落户成都音乐文创园,形成“北京+成都”双总部布局,其文创组和部分核心团队已迁至成都,未来将聚焦图书、文创、视频等多元内容形态的拓展。该园区已聚集超过800家音乐文创企业,构建“创作—版权—展演—衍生”全产业链,可为入驻企业提供定制化创作空间、数字文创专项政策、知识产权保护、人才培养机制和品牌推广等服务。据此完成4~5题。

4. 成都音乐文创园为星球研究所提供的核心服务中,能直接降低其运营成本的是

- ①定制化创作空间,减少场地租赁与改造投入 ②数字文创专项政策,降低企业税费负担
③音乐文创知识产权保护中心,减少侵权和维权成本 ④高校协同人才培养,降低员工招聘与培训成本

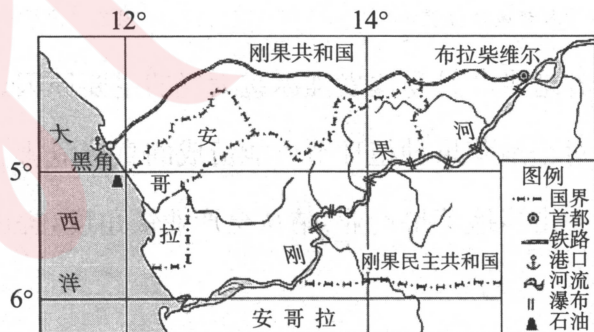
- A. ①②
B. ①③
C. ②③
D. ③④

5. 星球研究所采用“北京+成都”双总部空间布局模式,其主要目的是

- ①分散运营风险,增强企业稳定性 ②依托北京品牌与资源优势,借助成都拓展内容生产
③靠近不同区域市场,提升全国影响力 ④降低内部竞争,实现业务区域分割

- A. ①②③
B. ①②④
C. ①③④
D. ②③④

布拉柴维尔原是刚果河沿岸的小村落,1880年建城,设有码头。1934年,刚果—大西洋铁路通车后,成为水陆运输枢纽,来自周边国家的过境物资在此经铁路转运到黑角港(如下图)。1960年8月15日刚果共和国独立,布拉柴维尔成为首都,经济发展迅速。据此完成6~8题。



6. 早期,布拉柴维尔城市的兴起,主要得益于它是

- A. 铁路与水运连接点
B. 全国政治中心
C. 河运的起点或终点
D. 区域经济中心

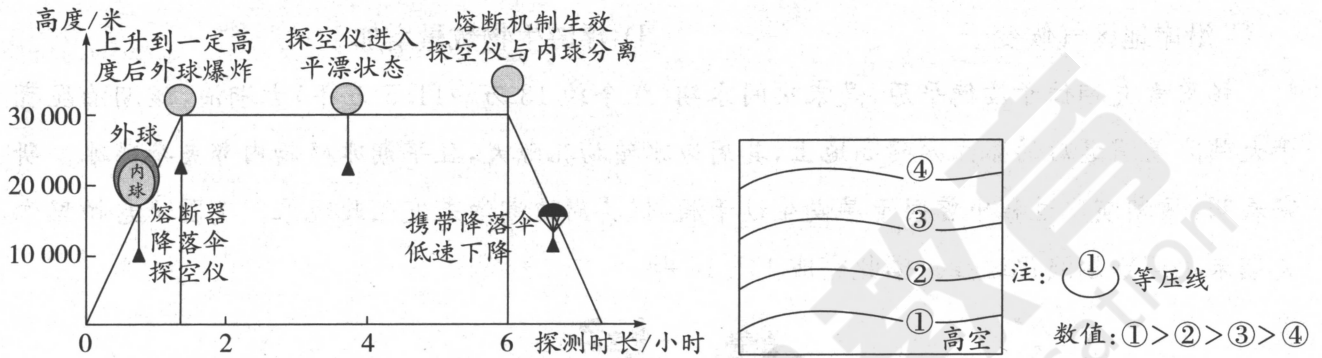
7. 在布拉柴维尔经铁路转运到黑角港的主要货品最有可能是

- A. 木材
B. 高档家具
C. 原油
D. 石化产品

8. 独立之日当天,与布拉柴维尔相比,黑角

- A. 白昼时间更长
- B. 正午日影更长
- C. 日出时刻更早
- D. 正午太阳高度更大

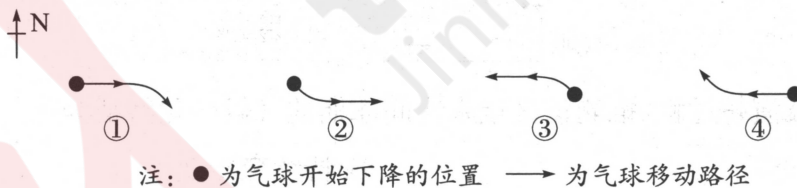
我国学者改进了一种“上升—平漂—下降”的往返平漂式探空技术,并于2019年春季在湖南省长沙市高空气象观测站开展实验。平漂气球搭载探空设备,可在升降、平漂全过程实时监测高空气温、气压、风、湿度等气象要素,并同步回传地面,为灾害性天气研判提供连续、精细化的高空气象观测数据。下图为该系统的工作过程示意图。据此完成9~10题。



9. 与气球上升阶段初期相比,平漂阶段气象观测特征判断正确的是

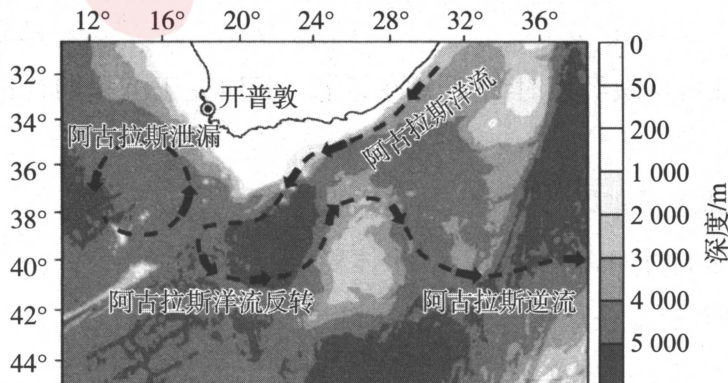
- A. 风向复杂多变
- B. 大气气压较高
- C. 天空云量较少
- D. 空气湿度较大

10. 平漂气球下降阶段受气流影响产生水平漂移。结合当日高空等压线分布(右图),推测气球下降过程最可能的水平漂移轨迹是



- A. ①
- B. ②
- C. ③
- D. ④

阿古拉斯洋流位于印度洋西南部,它狭窄、迅速而强大。它沿着非洲东海岸大陆架向西南流动,在折返处,流体产生能量强大的涡旋,将部分暖咸水释放至大西洋,形成阿古拉斯泄漏;另一部分向东折返,形成阿古拉斯逆流。下图为阿古拉斯洋流系统示意图。据此完成11~13题。



版权所有 盗版必究 严禁影印网传

11. 阿古拉斯洋流狭窄而迅速的主要影响因素是

- A. 东南信风 B. 地转偏向力 C. 海底地形 D. 密度差异

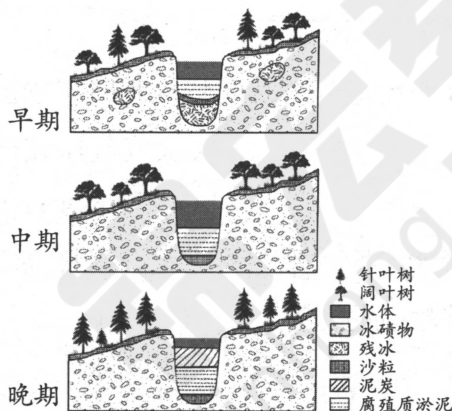
12. 阿古拉斯逆流

- A. 1月较强 位置偏南 B. 7月较强 位置偏北
C. 1月较强 位置偏北 D. 7月较强 位置偏南

13. 下列关于阿古拉斯泄漏对周边地理环境影响的推测,合理的是

- A. 水温垂直差异变小 B. 海气相互作用变弱
C. 沿岸地区气候变干 D. 浮游生物数量增加

帕里索夫湖位于波德平原,是末次间冰期(距今约13万~11.5万年)古湖泊,该湖泊发育于大陆冰盖消退后的孤立冰碛高地上,其周边冰碛物孔隙大,且早期冰碛物内部夹杂残冰。研究表明:该湖演化过程中曾因干旱发生过干涸,但其周边湖泊未发生此现象。下图示意帕里索夫湖末次间冰期演化过程。据此完成14~16题。



14. 根据图示植被演替过程,推测该区域末次间冰期的气候变化特征为

- A. 持续变暖变湿 B. 持续变冷变干
C. 先变暖湿,后变冷干 D. 先变冷干,后变暖湿

15. 与周边湖泊相比,帕里索夫湖更易干涸的主要原因是

- ①孤立冰碛高地,无稳定的地表径流补给 ②地下水位高于湖面,湖水补给地下水
③冰碛物孔隙大,湖水易下渗流失 ④蒸发量始终大于降水量
A. ①② B. ①③ C. ②④ D. ③④

16. 湖底沉积物的特征可反映沉积时期环境的变化。下列关于沉积物特征及其沉积环境的推测,合理的是

- A. 沙粒层形成于冰盖扩张期,冰川搬运作用强烈
B. 腐殖质淤泥层形成时期,湖泊水深大、水体稳定
C. 泥炭层形成时期,湖盆长期处于深水缺氧环境
D. 沉积物粒度由下至上逐渐变细,反映水动力增强

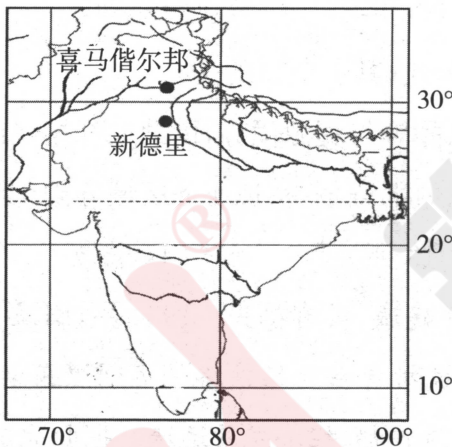
第Ⅱ卷(非选择题,共52分)

二、非选择题:本题共3个小题,共52分。

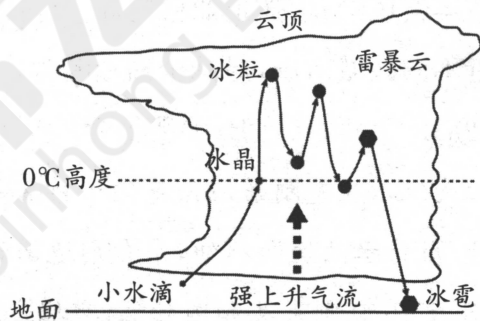
17. 阅读图文材料,完成下列要求。(18分)

材料一 喜马偕尔邦地处喜马拉雅山南麓,是印度优质苹果的主产区。该邦苹果产业以农户分散种植为主,产业链涵盖种植、采摘、分级、包装、冷藏、销售等环节,其中鲜果销售占比达80%以上。苹果花期集中在3月中旬至4月上旬,对气温与天气的变化极为敏感。2026年3月18~22日,受高空冷性西风槽异常南下影响,该区出现“断崖式”降温(24小时内气温骤降8~12℃),河谷地带爆发强冰雹,高海拔山区普降暴雪,极端天气持续约98小时,当地苹果产业的全产业链均受到不同程度的冲击。

材料二 下图为喜马偕尔邦地理位置示意图和冰雹的形成示意图。



图甲 喜马偕尔邦地理位置



图乙 冰雹的形成示意图

- (1)分析喜马偕尔邦河谷地带3月易爆发强冰雹天气的主要原因。(6分)
- (2)说明此次极端天气对当地苹果种植环节可能造成的直接危害。(4分)
- (3)针对极端天气频发冲击当地苹果产业,请从全产业链角度,提出产业优化发展的具体措施。(8分)

18. 阅读图文材料,完成下列要求。(16分)

北川河位于青海省,为黄河二级支流。流域内海拔2 228~4 595 m,年均降水量575 mm,年均蒸发量800~1 000 mm。受地势起伏影响,河水与地下水转换频繁。20世纪80年代以来,该流域大量选种小叶耐寒植被,取得良好的生态效益。下图为北川河流域位置与甲、乙两水文站地下水位示意图。

锦宏教育微信公众号：jh985211

锦宏教育客服微信：18117901643



地理答题卡

学校 _____

班级 _____

姓名 _____

座位号 _____

准考证号											
[0]	[0]	[0]	[0]	[0]	[0]	[0]	[0]	[0]	[0]	[0]	[0]
[1]	[1]	[1]	[1]	[1]	[1]	[1]	[1]	[1]	[1]	[1]	[1]
[2]	[2]	[2]	[2]	[2]	[2]	[2]	[2]	[2]	[2]	[2]	[2]
[3]	[3]	[3]	[3]	[3]	[3]	[3]	[3]	[3]	[3]	[3]	[3]
[4]	[4]	[4]	[4]	[4]	[4]	[4]	[4]	[4]	[4]	[4]	[4]
[5]	[5]	[5]	[5]	[5]	[5]	[5]	[5]	[5]	[5]	[5]	[5]
[6]	[6]	[6]	[6]	[6]	[6]	[6]	[6]	[6]	[6]	[6]	[6]
[7]	[7]	[7]	[7]	[7]	[7]	[7]	[7]	[7]	[7]	[7]	[7]
[8]	[8]	[8]	[8]	[8]	[8]	[8]	[8]	[8]	[8]	[8]	[8]
[9]	[9]	[9]	[9]	[9]	[9]	[9]	[9]	[9]	[9]	[9]	[9]

贴条形码区
(正面朝上 切勿贴出虚线框外)

[] 缺考

填涂 样例	正确填涂	注 意 事 项	1. 根据阅卷方式填写
	错误填涂		2. 选择题用2B铅笔填涂，非选择题用0.5毫米及以上黑笔书写
	<input checked="" type="checkbox"/> <input checked="" type="checkbox"/> <input checked="" type="checkbox"/> <input type="checkbox"/> <input type="checkbox"/> <input type="checkbox"/> <input type="checkbox"/> <input type="checkbox"/> <input type="checkbox"/>		3. 请在规定区域内作答

一、选择题 (每小题3分, 共48分) (考生须用2B铅笔填涂)

- | | | | |
|---|---|--|--|
| 1 <input type="checkbox"/> A <input type="checkbox"/> B <input type="checkbox"/> C <input type="checkbox"/> D | 5 <input type="checkbox"/> A <input type="checkbox"/> B <input type="checkbox"/> C <input type="checkbox"/> D | 9 <input type="checkbox"/> A <input type="checkbox"/> B <input type="checkbox"/> C <input type="checkbox"/> D | 13 <input type="checkbox"/> A <input type="checkbox"/> B <input type="checkbox"/> C <input type="checkbox"/> D |
| 2 <input type="checkbox"/> A <input type="checkbox"/> B <input type="checkbox"/> C <input type="checkbox"/> D | 6 <input type="checkbox"/> A <input type="checkbox"/> B <input type="checkbox"/> C <input type="checkbox"/> D | 10 <input type="checkbox"/> A <input type="checkbox"/> B <input type="checkbox"/> C <input type="checkbox"/> D | 14 <input type="checkbox"/> A <input type="checkbox"/> B <input type="checkbox"/> C <input type="checkbox"/> D |
| 3 <input type="checkbox"/> A <input type="checkbox"/> B <input type="checkbox"/> C <input type="checkbox"/> D | 7 <input type="checkbox"/> A <input type="checkbox"/> B <input type="checkbox"/> C <input type="checkbox"/> D | 11 <input type="checkbox"/> A <input type="checkbox"/> B <input type="checkbox"/> C <input type="checkbox"/> D | 15 <input type="checkbox"/> A <input type="checkbox"/> B <input type="checkbox"/> C <input type="checkbox"/> D |
| 4 <input type="checkbox"/> A <input type="checkbox"/> B <input type="checkbox"/> C <input type="checkbox"/> D | 8 <input type="checkbox"/> A <input type="checkbox"/> B <input type="checkbox"/> C <input type="checkbox"/> D | 12 <input type="checkbox"/> A <input type="checkbox"/> B <input type="checkbox"/> C <input type="checkbox"/> D | 16 <input type="checkbox"/> A <input type="checkbox"/> B <input type="checkbox"/> C <input type="checkbox"/> D |

二、非选择题 (共52分) (考生须用0.5毫米黑色字迹的钢笔或签字笔书写)

17. (1) (6分)

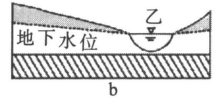
(2) (4分)

(3) (8分)

请在各题目的答题区域内作答, 超出答题区域的答案无效

请在各题目的答题区域内作答，超出答题区域的答案无效

18. (1) (6分)



(2) (6分)

(3) (4分)

19. (1) (6分)

(2) (6分)

(3) (6分)

请在各题目的答题区域内作答，超出答题区域的答案无效