

# 2024~2025 学年度上期高中 2024 级期末考试

## 历史

考试时间 75 分钟，满分 100 分

### 注意事项：

1. 答题前，考生务必在答题卡上将自己的姓名、座位号和准考证号用 0.5 毫米黑色签字笔填写清楚，考生考试条形码由监考老师粘贴在答题卡上的“贴条形码区”。
2. 选择题使用 2B 铅笔填涂在答题卡上对应题目标号的位置上，如需改动，用橡皮擦擦干净后再填涂其他答案；非选择题用 0.5 毫米黑色签字笔在答题卡的对应区域内作答，超出答题区域答题的答案无效；在草稿纸上、试卷上答题无效。
3. 考试结束后由监考老师将答题卡收回。

一、选择题：本题共 24 小题。每小题 2 分，共 48 分。在每个小题给出的四个选项中只有一项是符合题目要求的。

1. 王国维在《殷商制度论》中提出了“周人制度大异于商”的观点，并举出“一曰立子立嫡之制”等理由。据此推测，这里的“制度”可能是  
A. 王位世袭制      B. 宗法制      C. 郡县制      D. 行省制
2. 图 1 为某同学整理的思维导图。这一图示结构反映了当时中国的

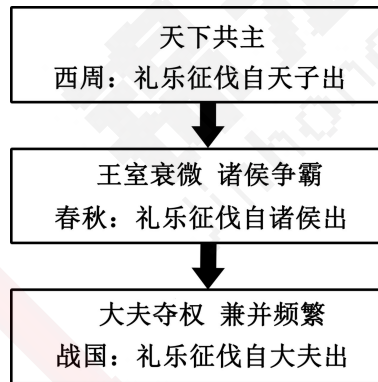


图 1

- A. 经济发展      B. 百家争鸣      C. 华夏认同      D. 社会转型
3. 汉武帝时期，“举贤良，自董仲舒以来，皆对策三道……当时未有黜落法，对策者皆被选，但有高下尔（注：区分人才水平高低）。”此后，郡国每岁荐举孝廉，由朝廷加以考核，任命为官，成为定制。这表明  
A. 察举选拔的策论环节意义不大      B. 西汉创立了人才选拔新机制  
C. 西汉的人事选拔权集中于中央      D. 新人才选拔制助推西汉强盛
4. 汉唐时期，由于欧亚各国对中国丝绸的刚需以及中国保持对外交流和交往的需要，“丝绸之路”形成。其形成使欧亚大陆东西方的人员、信息和物资得以顺畅交流。这表明“丝绸之路”是  
A. 东西文明交流的大动脉      B. 汉武帝派遣张骞着手开辟的  
C. 政府财政收入重要来源      D. “华夷一体”民族政策的结果

5.

表 1

时间	人口数 (单位: 万人)
唐太宗贞观二十三年 (649 年)	约 1 900
唐玄宗天宝元年 (742 年)	约 4 532
唐玄宗天宝十四年 (755 年)	约 5 291
唐玄宗上元元年 (760 年)	约 1 699
唐穆宗长庆元年 (821 年)	约 1 576

据表 1 可知, 唐朝人口的变化

- A. 受制于政局稳定和经济发展  
B. 与国家制度创新有直接关系  
C. 是两税法加重人民负担所致  
D. 受社会尚佛和人口政策影响
6. 唐太宗发现有一人以诈伪做官, 便下令处死。但负责审理此案的官员戴胄说: “法者, 国家所以布大信于天下; 言者, 当时喜怒之所发耳。陛下发一朝之忿而许杀之, 既知不可置之于法, 此乃忍小忿而存大信也。”唐太宗被迫收回成命, 并对他说: “法有所失, 公能正之, 朕何忧!” 据此可知
- A. 唐朝有依法治国的传统  
B. 皇权至上观念受到挑战  
C. 唐朝谏官制度真实高效  
D. 唐朝法律权威得到尊重
7. 历史学家认为, 隋唐以来的科举制度将士子凝聚成为一个统一的整体, 使得儒家价值观进一步成为国家意识形态, 论证了中华帝国制度的合法性, 从而使儒家获得了全面“建制化”的力量。其意在说明科举制促进了
- A. 帝国力量的整合化  
B. 儒家思想的世俗化  
C. 儒学观念的正统化  
D. 儒学复兴运动发展
8. 北宋的印刷业逐渐从手工作坊发展为专门的产业, 刻印种类丰富、风格新颖、关注需求、经营渠道多样, 逐渐形成了成都、开封、临安、建阳四大刻书中心。这主要得益于
- A. 中外交流日益频繁  
B. 专制集权制的强化  
C. 城市工商业的兴盛  
D. 通俗性文化的崛起
9. 辽、金时期, 契丹、女真民族成为统治民族, 他们不再认为自己是所谓“夷狄”, 辽金与两宋都在“天下一体”的框架之中。这
- A. 反映了华夏文化认同的加强  
B. 体现了各民族政治地位一律平等  
C. 巩固了统一的多民族封建国家  
D. 表明北方各民族已经完成了汉化
10. 元代, 中央“掌释教僧徒及吐蕃之境而隶治之”的机构是
- A. 理藩院  
B. 澎湖巡检司  
C. 宣政院  
D. 总理衙门
11. 明清时期的中外贸易中, “金太贵, 而不便小用; 米不能久而不便大用; 钱近实, 而易伪易杂; 钞太虚, 亦复有泡烂。是以白金(白银)之为币。”这可以用来说明
- A. 明清经济受国际形势影响  
B. 国家政策选择了白银货币化  
C. 明清货币制度出现了倒退  
D. 政府“赋役收银”成效显著
12. 乾隆二十二年(1757年), 清廷下令外国商船只允许在广州停靠贸易, 不得再进宁波, 不准进入浙江海口, 只开广州一口通商。这一规定
- A. 表明清政府的对外政策极具合理性  
B. 重在回应新航路开辟和西方殖民  
C. 顺应了工业文明下自由贸易的潮流  
D. 是自然经济对外部冲击的本能反应

13. 明清时期思想领域出现了“帝王为‘天下之大害’”“工商皆本”“经世致用”“个性自由”的主张。这是源于
- A. 商品经济发展的本质要求  
B. 中央集权制高度强化的反映  
C. 中西文化顺利交融的结果  
D. 资产阶级崛起的必然要求
14. 1842~1844年,英、法、美先后强迫清政府签订了《南京条约》《黄埔条约》《望厦条约》等一系列不平等条约。其根本目的是
- A. 破坏中国领土和主权完整  
B. 满足工业资本主义发展的需要  
C. 促进中国外交从理藩到近代  
D. 帮助中国走现代工业发展之路
15. 中英《南京条约》签订后……英国商人惊奇地发现,拥有3.6亿人口的中国,1853年人均消费英国棉纺织品只有0.75便士,而仅有14600人的洪都拉斯,却人均消费英国棉纺织品934.5便士,恰好是中国的1246倍。这反映出当时
- A. 中国生产力水平超越英国  
B. 自然经济具有顽强抵抗力  
C. 英国对华贸易具有依赖性  
D. 中国对外开放的港口太少
16. 有学者认为:一向被中国看不起的“倭寇”,发动一场战争,竟向中国索得巨款,割走国土,朝野上下,由此自信心丧失殆尽。这一战争
- A. 推动地主阶级开启了“自强”运动  
B. 促使无产阶级登上了政治舞台  
C. 加深中国半殖民地半封建社会程度  
D. 直接促进民主共和高潮的到来
17. 维新变法运动时期,报刊上频繁出现“托古改制”“穷则变,变则通,通则久”“兴民权”“设议院”“明定国是”等词汇。这表明当时
- A. 变法图强成为社会共识  
B. 政治变革的社会影响扩大  
C. 民主共和成为历史潮流  
D. 洋务派积极开展自救运动

18.

表2

颁行时间	制定者	宪法名称	特色
1908年	清政府	《钦定宪法大纲》	仿照日本宪法,预备立宪
1912年	中华民国临时参议院	《中华民国临时约法》	借鉴美国宪法,资产阶级民主主义宪法
1931年	中华苏维埃共和国	《宪法大纲》	工农民主专政

表2表明,近代中国的宪法建设

- A. 不断稳定和深入的发展  
B. 随中国社会性质而变化  
C. 维护了各阶级的利益要求  
D. 由借鉴西方到借鉴苏联
19. 图2是沈伯尘先生于1918年创作的一幅漫画。这表明当时




图2

- A. 人民生活艰难困苦  
B. 民族资本主义发展艰辛  
C. 封建义务日益废除  
D. 反帝反封成为国民共识
20. 1919年，吴虞发表《吃人与礼教》一文，提出“讲礼教的就是吃人的！”1920年，他在《新派文学之疑点》中提出，“不信古之爱心，是否会失去中国特有之文化？”引发了思想界知识分子的深入探讨。这反映出
- A. 儒家思想的统治地位动摇  
B. 传统儒家思想向新思想妥协  
C. 新文化运动逐步趋向理性  
D. 马克思主义成为时代的潮流
21. 历史学家陈旭麓认为，辛亥革命是一条分界线，在此之后帝王由人主、天子、君父变成了人民公敌，“敢有帝制自为者天下共击之”成为一种时代意识。他意在说明民国初年
- A. 民主共和政体得以确立  
B. 社会习俗得以全面改观  
C. 民主共和观念广泛传播  
D. 社会思想文化全面转型
22. 历史学家认为，“五四运动”唤醒了民众，使他们觉悟到封建社会的毒瘤，觉悟到挽救危亡必须民众自己努力更生，而努力更生必从思想教育做起。这重在强调“五四运动”具有
- A. 民族救亡的开创性  
B. 反帝反封建的彻底性  
C. 民主革命的转折性  
D. 民族民主意识的启蒙性
23. 图3是1929~1932年革命根据地形势图，形成了新的政治局面。由此可知

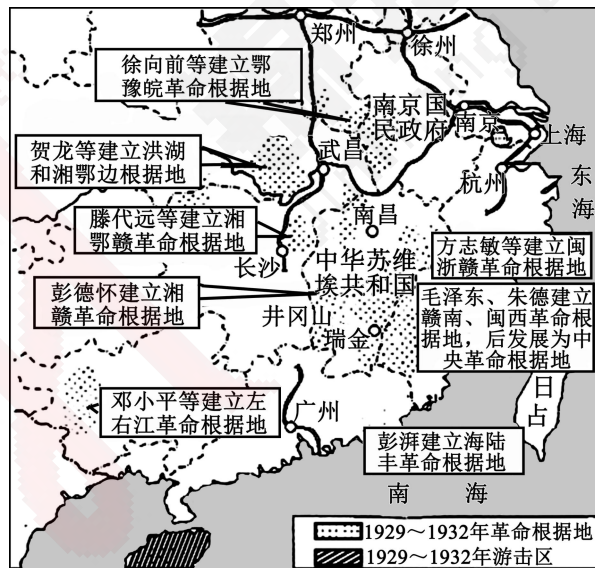


图3

- A. 毛泽东思想已经成为我党的指导思想  
B. 与国民大革命运动不存在内在的联系  
C. 国内的阶级矛盾是中国社会主要矛盾  
D. 联合地主阶级是当时中国革命的需要
24. 中国共产党曾在某一红色革命圣地召开了重要的会议，此次会议“挽救了党，挽救了红军，挽救了中国革命”。此次会议
- A. 制定了党的民主革命纲领  
B. 确定了实行土地革命的总方针  
C. 全力解决军事和组织问题  
D. 通过了关于国共合作问题的决议

二、非选择题：本题共 3 小题，共 52 分。

25. 工程建设“功在当代，利在千秋”。阅读材料，完成下列要求。（22 分）

材料一

表 3 春秋战国时期的部分水利工程

时间	国别	主持者	职位	名称	所在地	功能	作用
春秋	楚国	孙叔敖	令尹	芍陂	淮河流域	灌溉、防洪、航运等	灌溉面积达一万多公顷
战国	秦国	李冰	蜀郡太守	都江堰	长江流域	防洪、灌溉、航运	自流灌溉，使成都平原成为天府之国
战国	秦国	郑国	韩国水工	郑国渠	泾渭水系	灌溉	《史记》“关中为沃野，无凶年，秦以富强，卒并诸侯”
战国	魏国	西门豹	县令	西门豹渠	黄河下游	防洪、灌溉	《史记》“名闻天下，泽流后世，无绝已时……”

材料二

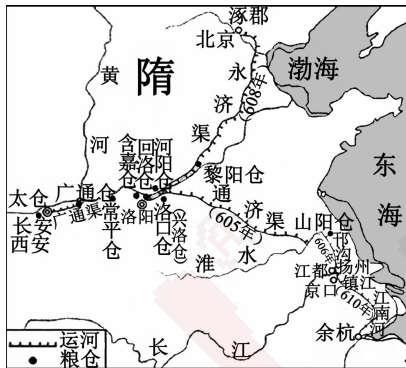


图 4 隋朝官仓分布图



图 5 唐朝官仓分布图

- 根据材料一，概括春秋战国时期水利兴修的特点，并结合所学知识指出当时水利事业发展的历史意义。（12 分）
- 根据材料二并结合所学知识，分析隋唐大力兴建官仓的有利条件。（8 分）
- 根据上述材料，结合所学知识，简要说明古代工程的现代价值。（2 分）

26. 阅读材料，完成下列要求。（20 分）

材料一

表 4

名称	中国共产党一大	中国共产党二大
党纲内容概要	中国共产党的奋斗目标是推翻资产阶级的政权，建立无产阶级专政，消灭资本家私有制……归社会公有，实现社会主义和共产主义。	党的最高纲领是：组织无产阶级，用阶级斗争的手段，建立劳农专政的政治，铲除私有财产制度，渐次达到一个共产主义社会。 党的最低纲领，即党在民主革命阶段的纲领是：消除内乱，打倒军阀，建设国内和平；推翻国际帝国主义的压迫，达到中华民族完全独立；统一中国为真正的民主共和国。

材料二

中国共产党大多数领导人不赞同马林的主张，认为国民党是一个资产阶级政党，共产党员加入进去，就有丧失自己独立性的危险。……1922年，中国共产党中央执行委员会在杭州西湖举行会议，会议决定在孙中山改组国民党的条件下，由共产党少数负责人先加入国民党，同时劝说全体共产党员以个人名义加入国民党。

——摘自中共中央党史研究室《中国共产党历史（第一卷）上册》

- (1) 根据材料一，指出中国共产党纲领的变化并分析其原因。（8分）
- (2) 根据材料二，指出中国共产党对待国民党态度发生的变化，并结合所学知识分析变化的意义。（8分）
- (3) 综合上述材料，从两次变化中，说明中国共产党人的优秀品质。（4分）

27. 历史探究：历史图片承载大量的历史信息。阅读材料，完成下列要求。（10分）

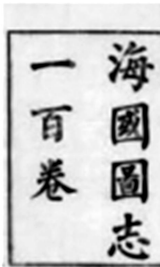


图6 魏源像和《海国图志》百卷本书影



图7 《天朝田亩制度》和《资政新篇》书影



图8 《新学伪经考》《孔子改制考》书影和康有为、梁启超合影



图9 孙中山的画像和题词




图10 《青年杂志》和《共产党宣言》

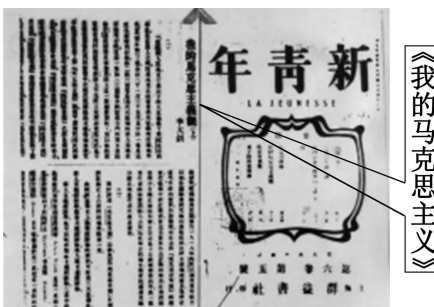


图11 《新青年》

（注：1920年8月，陈望道翻译的《共产党宣言》出版，这是马克思主义经典著作在中国出版的第一个中文全译本。）

请任选三幅图片，提炼一个主题，并结合所学知识进行阐释。（要求先列出三幅图的番号，再提炼出一个主题并阐释，阐释要求紧扣主题，持之有据，逻辑清晰）