

2025 届高三部分重点中学 12 月联合测评 历史试题

考试时间:2024 年 12 月 13 日 10:30—11:45 试卷满分:100 分 考试用时:75 分钟

注意事项:

1. 答卷前,考生务必将自己的姓名、准考证号填写在答题卡上。
2. 回答选择题时,选出每小题答案后,用铅笔把答题卡对应题目的答案标号涂黑。如需改动,用橡皮擦干净后,再选涂其他答案标号。回答非选择题时,将答案写在答题卡上。写在本试卷上无效。
3. 考试结束后,将本试卷和答题卡一并交回。

一、选择题:本题共 15 小题,每小题 3 分,共 45 分。在每小题给出的四个选项中,只有一项是符合题目要求的。

1. 距今 6 000 年左右,在河南、陕西和山西交界处形成了仰韶文化的庙底沟类型(以花瓣纹彩陶为典型特征,如图 1)。随后,庙底沟类型扩展到整个仰韶文化区,并且在辽河流域的红山文化、黄河下游地区的大汶口文化、长江中游地区的大溪文化和长江下游太湖流域的崧泽文化都出现花瓣纹彩陶。这一史前时期



图 1

- A. 文化共同体已初步形成 B. 南北文化协同发展
C. 区域文化冲突融合加速 D. 早期国家形态初显
2. 汉代江南城市的发展阶段及其情况如表 1 所示:

表 1

发展阶段	发展情况
早期	西汉初期吴王刘濞统治下快速发展。出现了吴县这一都会城市
中期	西汉中期至东汉晚期以前发展平缓。城市数量没有大的增长;行政级别没有大的变动;城市功能发展缓慢
晚期	东汉末期快速发展。新的郡县大量增设;城市数量急剧上升;城市建设进入高潮;城市行政级别变动剧烈

据表 1 可知,影响汉代江南城市发展的主要因素是

- A. 自然环境的变迁
B. 政治局势的变化
C. 江南土地的开发
D. 北方民族的南迁
3. 中国古代早期,北方游牧民族匈奴、鲜卑等流行使用金银器,而在中原地区并不流行。唐代以来,金银器皿猛然间成为雅贵人士的独有审美品,其中,陕西西安出土的金银器皿最为丰富。这主要体现出唐代
- A. 胡汉文化的融合
B. 奢侈之风的盛行
C. 中外交往的密切
D. 思想观念的变迁
4. 中唐以前,子孙相承的田产要由各级官府以永业田的名义进行“授受”。宋代,国家不再进行田地授受,开垦屯田时,不准侵占民田;兴修水利工程时,政府会给予田地被占用的小农不同形式的补偿,或偿付地价,或以官田拨还小农。据此可知,唐宋时期
- A. 农民赋役负担明显减轻
B. 农民依附地位逐渐削弱
C. 农村商品经济发展较快
D. 土地兼并现象得到遏制
5. 明代后期的史学领域私修当代史繁兴,光是“成部的史书来说,就有 200 种左右”,如《国朝献征录》《名山藏》《皇明史概》《昭代明良录》《国史纪闻》等。这从侧面体现出明代后期
- A. 西学东渐影响扩大
B. 经世思想初步萌发
C. 社会经济较为繁荣
D. 统治危机不断加深
6. 图 2 为清朝咸丰、同治时期地丁银征收示意图。该图可用于说明

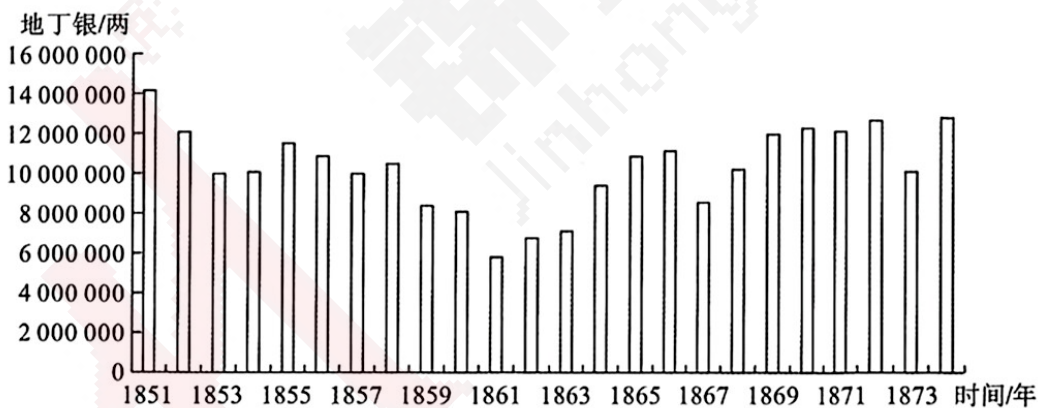


图 2 咸丰、同治时期地丁银征收示意图

- A. 太平天国运动沉重打击清朝统治
B. 洋务运动推动近代社会经济发展
C. 列强侵华导致自然经济日益瓦解
D. 清政府通过改革开辟新赋税来源
7. 1904 年,蒋观云在《新民丛报》第 3 卷上发文指出,中国必须重视悲剧演出,“今欧洲各国,最重莎翁之曲,至称之为惟神能造人心,惟莎翁能道人心。而莎翁著名之曲,皆悲剧也……夫剧界多悲剧,故能为社会造福,社会所以有庆剧也……而欲保存剧界,必以有益人心为主,而欲有益人心,必以有悲剧为主”。这表明
- A. 戏剧具有近代思想启蒙功能
B. 文艺复兴思潮渐成社会主流
C. 文学革命重在革新封建意识
D. 中西文化贯通成为社会共识
8. 1940 年 1 月,毛泽东在《新民主主义论》中指出,革命的目的在于“建设一个中华民族的新社会和新国家”,“不但要把一个政治上受压迫、经济上受剥削的中国,变为一个政治上自

由和经济上繁荣的中国,而且要把一个被旧文化统治因而愚昧落后的中国,变为一个被新文化统治因而文明先进的中国”。毛泽东此论

- A. 分析了社会主义革命的必然性
- B. 坚定了基层民众坚持抗战的信念
- C. 坚持了中国民主革命基本方向
- D. 奠定了马克思主义中国化的基础

9. 中国某一时期农村各阶级占有耕地情况如表 2 所示。据表 2 可知

表 2

	农村各阶级户数的比重/%	农村各阶级占有耕地的比重/%
贫雇农	52.2	47.1
中农	39.9	44.3
富农	5.3	6.4
地主	2.6	2.2
合计	100.0	100.0

- A. 土地改革基本完成
- B. 农业集体化初见成效
- C. 农村贫富差距扩大
- D. 土地分配制度不合理

10. 2001 年,美国总统小布什称中国是美国“潜在的战略竞争者”。“9·11”事件后,美国称中国为“反恐合作伙伴”。此后,美国总统奥巴马提出“美中两国在一些领域出现竞争关系”;美国总统特朗普将中国列为“最大的战略竞争对手”。中国对美外交的关键是

- ①保持对美战略定力
- ②展现对外交往自信
- ③维护周边地区安定
- ④改革国际治理体系

- A. ①②
- B. ①③
- C. ②④
- D. ③④

11. 公元前 323 年,亚历山大去世,亚历山大帝国陷入混战。帝国逐渐分裂为北非的托勒密埃及王国、西亚的塞琉古王国和希腊本土的马其顿王国三个主要国家(如图 3)。据此推知,希腊化时代在文化方面的主要特征是

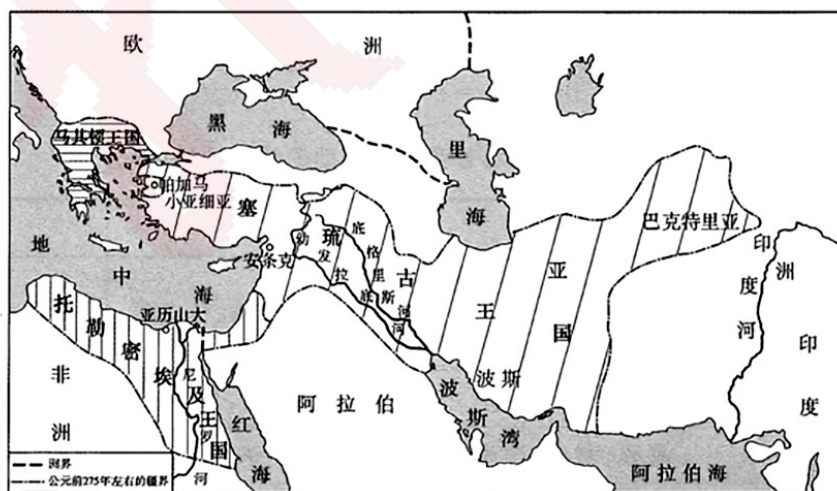


图 3 公元前 275 年左右的希腊化世界

- A. 希腊文化在世界占据主导地位
- B. 东西世界初现文化交融格局
- C. 区域文化与希腊文化碰撞交流
- D. 希腊城邦成为新的文化中心

12. 中世纪的欧洲,伯爵来自大贵族家族,拥有完整的军事权、司法权和财政权,他们通过自己的家族和地区上的地主进行统治;国王可以在伯爵领地中任命主教和修道院长,建立受国王保护的、伯爵和附庸不能进入的、不能征税和施行法律的“特区”。据此可知
- A. 国王对伯爵实行了有效管理 B. 伯爵完全掌握了地方政权
C. 完善的中央地方政府已建立 D. 国王与伯爵争夺地方权威
13. 1733年,卡西尼二世开始组织编辑新的地图,该图以测量员收集的信息(对领土空间的量化统计与数理信息采集)为基础,得到波旁王朝的大力支持;1744年,《新法国地图》出版,图中不仅包含整个帝国边界的细节,还有法国所有重要城市与村庄的位置。《新法国地图》的出版表明
- A. 地图的制作有利于欧洲殖民扩张 B. 地图进步推动民族意识的觉醒
C. 技术应用在国家治理中作用增强 D. 科技进步拓宽了民众世界视野
14. 1862年美国国会正式通过“莫里尔赠地学院法”,规定联邦政府根据在1860年选出的每州国会议员人数,按每名国会议员3万英亩土地的标准,向各州赠与相应面积的土地。各州利用拍卖土地筹集资金,至少创办并维持一所设有农业和机械工艺课程的学院。这一举措旨在
- A. 推动美国西部的领土扩张 B. 加强政府对经济的干预
C. 遏制南部奴隶制度的扩展 D. 通过教育改进农业生产
15. 联合国非洲经济委员会的年度报告每年选择不同的相关主题:2014年为“机动的工业政策”,2015年为“贸易与工业化”,2016年为“绿色工业化”,2017年为“城镇化与工业化”。这表明,非洲国家
- A. 积极推进经济多元化 B. 加快融入世界市场
C. 充分利用劳动力资源 D. 努力化解城乡对立

二、非选择题:本题共4小题,共55分。

16. 【明清晋商的商贸区域】(14分)

材料

表3 明清时期晋商商贸活动的扩展区域(部分)

区域名称	区域范围	商贸中心	商贸特点
北方边贸区	东至宣府,西至延绥,北至恰克图,南至长城	九边重镇、恰克图	以边贸、茶马互市为主
京津商贸区	北京、天津、河北	北京、天津	以颜料业、烟草为主
两湖商贸区	湖北、湖南、江西	汉口	以茶叶为主
淮扬商贸区	江苏、安徽	扬州	以盐业为主
沿海金融区	上海、浙江、福建	上海	以金融业为主
西北边贸区	新疆、甘肃、宁夏	乌鲁木齐	以茶业为主

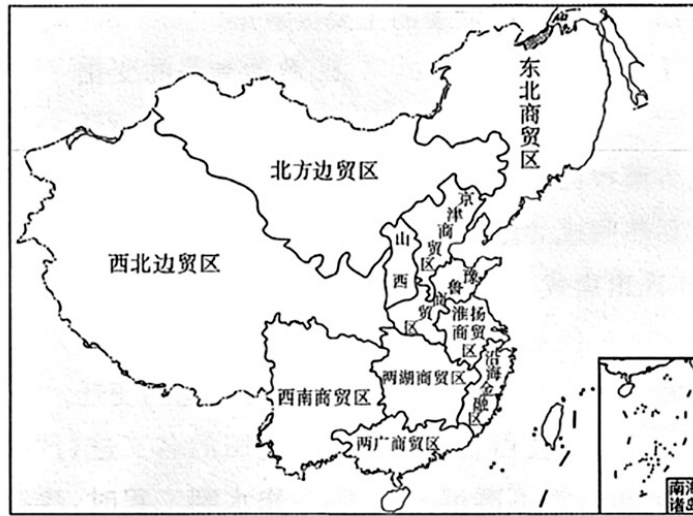


图 4

——摘编自王尚义、牛俊杰、任世芳《论晋商商贸活动的地理区域划分及扩展机制》

- (1) 根据材料并结合所学,概括推动明清时期晋商商贸活动区域扩展的主要因素。(8分)
- (2) 根据材料并结合所学,说明明清时期区域经济发展与城市化的联系。(6分)

17. 【中国的和平外交】(14分)

材料一 1961年成立的二十四国非殖民化特别委员会是专门负责处理非殖民化问题的联合国实体。1972年3月8日,黄华以中国常驻联合国代表的名义致函特委会主席萨利姆,指出,“众所周知,香港、澳门是属于历史上遗留下来的帝国主义强加于中国的一系列不平等条约的结果。香港和澳门是被英国和葡萄牙当局占领的中国领土的一部分,解决香港、澳门问题完全属于中国主权范围内的问题,根本不属于通常的所谓殖民地范畴,因此不应列入反殖宣言中适用的殖民地地区的名单之内”。对此,特委会于1972年6月15日通过决定,向联合国大会提出报告,建议从殖民地名单中删去香港、澳门。1972年11月8日,联大以99票对5票通过决议,认可了特委会的报告。自此,香港和澳门在国际上摘掉了“殖民地”的帽子。

——摘编自黄庆、王巧荣主编《中华人民共和国外交史(1949—2012)》

材料二

表 4

时间	中国外交大事记
1980年	加入国际农业发展基金、世界知识产权组织
1983年	正式恢复在国际劳工组织的活动;加入联合国世界旅游组织;派出特命全权裁军事务大使常驻日内瓦
1984年	成为国际原子能机构理事会成员国
1985年	国际法学者倪征燠担任国际法院法官
1988年	正式申请加入联合国维持和平行动特别委员会
1989年	首次参加联合国纳米比亚过渡时期协助团,帮助纳米比亚实现从南非独立的进程
1990年	首次向联合国停战监督组织派出5名军事观察员
2000年	向联合国东帝汶过渡行政当局派遣15名民事警察
2006年	当选联合国人权理事会首届成员
2014年	中国疾病预防控制中心移动实验室检测队赴塞拉利昂开展埃博拉出血热检测工作

- (1)根据材料一并结合所学,说明 1972 年中国政府致函“特委会”,反对承认香港和澳门殖民地的地位的历史背景及实质。(8分)
- (2)根据材料并结合所学,运用 21 世纪以来中国参与多边外交与全球治理的相关史实,围绕“中华文明的和平性”展开论述。(6分)

18.【英国窗税的征收与废除】(15分)

材料一 窗税(window tax)是 1696 年威廉三世在位期间,英国政府开征的税项。1696 年的法令规定,所有英格兰、威尔士等地的房屋及将要建造的房屋,除房税外,还要根据窗户的数量缴纳窗税。法令明确规定窗税由居住人或占用者支付,而非由出租或转让房屋的房东承担。由于法令中没有关于封死窗户的规定,所以人们纷纷封死窗户来避税。此后,英国政府多次提高窗税。自窗税开征以来,“空气和阳光都不再免费”。窗税所造成的令人震惊的苦难可以在卫生委员会的报告以及统计调查员、医生和牧师的证词中得到体现,所有人的证词都一致反对这种税收所带来的显著不公。

材料二 19 世纪 30 年代,英国公共健康运动发轫,窗税不再被视为普通的税收,而是对健康的税收。住在光线和通风不足的房子的人,更容易感染斑疹、伤寒、天花和霍乱。人们纷纷谴责危害公共健康的窗税。判断一所房屋有多少扇窗,需入户评估,因为在房屋外面无法看到屋后的窗户或天窗,而人们痛恨评估员侵犯隐私。如果有警役或其他教区官员陪同进行评估,更会引起反感。窗税按窗户或采光口的数量而不是窗户的大小征收,富人可以在自己的大房子里建造所允许的最大尺寸的窗户来避税,而穷人由于房屋面积较小及财力有限等因素只能尽可能多地封死窗户。自 19 世纪 40 年代起,议会陆续通过了《大都市建筑法》《消除公害和疾病预防法》《公共健康法》以促进公民健康,但窗税诱使人们建造光线和空气供应不足的房屋,成为改善民众健康的巨大障碍。1851 年,窗税最终被废除。

——以上材料均摘编自赵秀荣《再论 19 世纪英国废除窗税的原因》

- (1)根据材料,指出英国社会反对窗税的原因。(8分)
- (2)根据材料并结合所学,概述窗税的征废与英国民主政治和社会经济发展进程的联系。(7分)

19.【中国世界历史体系的构建】(12分)

材料 研究中国世界历史学的发展历程,就会发现关于世界历史学话语体系的探讨从近代中国世界史研究萌生以来,一直持续至今。

表 5

时期	代表人物和作品
19 世纪中期	林则徐、魏源、徐继畲、姚莹、梁廷柎等先进知识分子,编撰完成《四洲志》《海国图志》《瀛寰志略》《康輶纪行》《海国四说》等作品
19 世纪末 20 世纪初	《印度灭亡战史》《亚细亚西部衰亡史卷》《西力东侵史》《俄国蚕食亚洲史略》《世界殖民史》《法兰西革命史》《美国独立史》《美国立国原理》
20 世纪 20 年代	张仲和的《西史纲要》以“纯用提纲挈领之法……养成读者对于学科之系统观念”;王纯一的《西洋史要》以唯物史观为指导撰写
20 世纪 30—40 年代	翦伯赞《历史哲学教程》分析了世界历史进程中各民族的交互作用;周谷城《世界通史》特别着重世界各地的相互关联

——摘编自董欣洁《论新时代中国世界历史学话语体系的构建》

根据材料,任选角度,结合所学知识,自拟论题,展开论述。(要求:观点明确,史论结合,表述成文)