

泸州市高2021级第二次教学质量诊断性考试

文科综合能力测试

注意事项：

1.本试卷分选择题和非选择题两部分。答题前，考生务必将自己的姓名、准考证号填写在答题卡上，并在规定位置粘贴考试用条形码。

2.回答选择题时，每小题选出答案后，用2B铅笔把答题卡上对应题目的答案标号涂黑。如需改动，用橡皮擦干净后，再选涂其他答案标号，写在试卷上无效。

3.回答非选择题时，将答案写在答题卡上，写在试卷上无效。

4.考试结束后，将答题卡交回，试卷自己保存。

一、选择题：本题共35个小题，每题4分，共140分。在每个小题给出的四个选项中，只有一项是符合题目要求的。

东莞，位于广东省中南部，珠江三角洲东部。东莞在历史上就是一个重要的手工业品集散地和对外贸易口岸。改革开放后，东莞成为最早的经济特区之一，大量外资涌入东莞，各类企业云集，制造业尤其发达，有“世界工厂”之称，成为中国经济发展最成功的城市之一。近些年来，大量工厂迁离甚至倒闭，人口大量流出，很多厂房变成空壳房。据此完成1~3题。

1.改革开放之初，东莞成为最早经济特区之一的优势条件是

- A.优越的地理位置
B.广阔的消费市场
C.先进的科学技术
D.丰富的工业原料

2.近些年来，大量工厂迁离东莞的主要因素是

- A.市场
B.交通
C.成本
D.技术

3.东莞工业“涅槃重生”的措施是

- A.降低成本，扩大生产规模
B.调整结构，企业转型升级
C.完善交通，拓展销售渠道
D.美化环境，增强市场竞争

通过太阳能、风力等可再生能源发电进行电解水制取的氢能(氢气)称为“绿氢”，氢能是一种来源丰富、绿色低碳、应用广泛的二次能源，储存和运输氢能存在泄漏和爆炸的风险，目前，我国氢能运输以公路运输为主。“西氢东送”管道是我国拟建的首条跨省区、大规模、长距离的绿氢输送管道，西起内蒙古自治区乌兰察布市，东至北京市的燕山石化，管道建成后，将用于替代京津冀地区现有化石能源制氢及交通用氢，大力缓解我国绿氢供需错配问题。据此完成4~6题。

4.与石化能源制氢相比，“绿氢”制取的突出优点是

- A.成本低廉
B.原料丰富
C.方便快捷
D.零碳排放

5.目前，管道没有成为我国氢能主要运输方式的原因是

- A.运输成本高
B.运输技术高
C.运输距离远
D.机动灵活差

6.“西氢东送”工程将利于北京

- A.优化能源消费结构
B.缩短氢气输入距离
C.降低氢气使用成本
D.缓解交通拥挤状况

12. 下图是我国2022年和2023年全国城乡居民人均可支配收入与人均消费支出的相关统计数据, 据此可以推断出

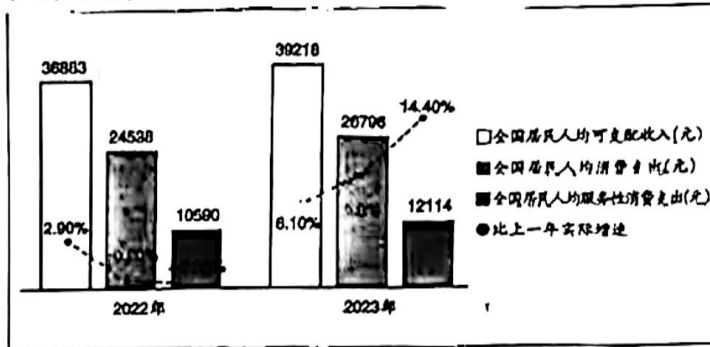
- ①我国居民收入增长的基础有所夯实
 ②我国居民人均实体商品消费有所减少
 ③促消费政策效果显现, 消费潜力加快释放
 ④我国城乡居民恩格尔系数均在不断下降

A. ①③

B. ①④

C. ②③

D. ②④



13. 国内某汽车企业与合作伙伴强强联手, 基于在各自领域掌握的资源 and 核心竞争力, 高度融合跨产业领域的基础科学和前沿技术, 形成产学研投全链路闭环, 助推尖端科技快速落地。这有利于该企业

- ①缩短研发周期, 节约核心技术研发成本
 ②高效整合各方资源, 增强前瞻技术研发能力
 ③通过联合重组, 形成互补发展的新优势
 ④加快科技成果转化, 提高产品的市场竞争力

A. ①③

B. ①④

C. ②③

D. ②④

14. 个税递延型养老保险, 是一种根据个人意愿完全由个人投保, 并可享受一定个税优惠政策的养老保险, 保费可在税前列支, 并在养老金积累阶段免税, 领取养老金时再行缴税。个税递延型养老保险发挥作用的路径是

- A. 减轻个税负担→激发购险需求→满足人们养老需求→延缓我国老龄化趋势
 B. 减轻个税负担→激发购险需求→促进保险业发展→完善多支柱的养老保险体系
 C. 保费税前列支→多交个人所得税→激发购险需求→扩大社会保险的覆盖面
 D. 保费税前列支→增加应税所得→激发购险需求→提高个人养老保障水平

15. 据国家统计局数据, 2023年全国高技术产业投资增长10.3%。其中, 高技术服务业、高技术制造业投资分别增长11.4%、9.9%。科技成果转化服务业、电子商务服务业、航空航天器及设备制造业投资分别增长31.8%、29.2%、18.4%。由此可见, 我国

- ①营商环境不断优化, 创新活力持续增强
 ②经济加快转型升级, 投资效益不断提升
 ③新旧动能加速转换, 制造强国稳步推进
 ④投资规模不断扩大, 经济结构持续优化

A. ①③

B. ①④

C. ②③

D. ②④

16. 我国首部专门性的未成年人网络保护综合立法《未成年人网络保护条例》于2024年1月1日起施行。《条例》规定“网络游戏服务提供者应当通过统一的未成年人网络游戏电子身份认证系统等必要手段验证未成年人用户真实身份信息。网络产品和服务提供者不得为未成年人提供游戏账号租售服务。”这一规定

- ①有利于改善未成年人的上网条件
 ②能规范经营行为, 保护未成年人个人信息
 ③旨在健全未成年人网络防沉迷制度
 ④有助于营造促进未成年人身心健康的网络环境

A. ①②

B. ①③

C. ②④

D. ③④

17. 2023年9月, 国务院印发的《提升行政执法质量三年行动计划(2023-2025年)》提出, 要全面落实行政执法公示制度、执法全过程记录制度、重大执法决定法制审核制度, 探索建立涉企行政执法案件经济影响评估制度。上述要求意在

- ①规范行政执法行为, 提高执法效率
 ②完善执法工作机制, 打造法治政府
 ③提升行政执法质量, 树立政府权威
 ④严格行政执法程序, 保护人民权益

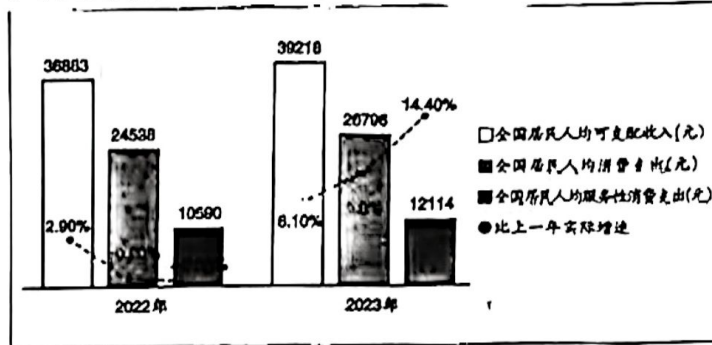
A. ①②

B. ①③

C. ②④

D. ③④

12. 下图是我国2022年和2023年全国城乡居民人均可支配收入与人均消费支出的相关统计数据, 据此可以推断出



- ①我国居民收入增长的基础有所夯实
- ②我国居民人均实体商品消费有所减少
- ③促消费政策效果显现, 消费潜力加快释放
- ④我国城乡居民恩格尔系数均在不断下降

- A. ①③
- B. ①④
- C. ②③
- D. ②④

13. 国内某汽车企业与合作伙伴强强联手, 基于在各自领域掌握的资源 and 核心竞争力, 高度融合跨产业领域的基础科学和前沿技术, 形成产学研投全链路闭环, 助推尖端科技快速落地。这有利于该企业

- ①缩短研发周期, 节约核心技术研发成本
- ②高效整合各方资源, 增强前瞻技术研发能力
- ③通过联合重组, 形成互补发展的新优势
- ④加快科技成果转化, 提高产品的市场竞争力

- A. ①③
- B. ①④
- C. ②③
- D. ②④

14. 个税递延型养老保险, 是一种根据个人意愿完全由个人投保, 并可享受一定个税优惠政策的养老保险, 保费可在税前列支, 并在养老金积累阶段免税, 领取养老金时再行缴税。个税递延型养老保险发挥作用的路径是

- A. 减轻个税负担→激发购险需求→满足人们养老需求→延缓我国老龄化趋势
- B. 减轻个税负担→激发购险需求→促进保险业发展→完善多支柱的养老保险体系
- C. 保费税前列支→多交个人所得税→激发购险需求→扩大社会保险的覆盖面
- D. 保费税前列支→增加应税所得→激发购险需求→提高个人养老保障水平

15. 据国家统计局数据, 2023年全国高技术产业投资增长10.3%。其中, 高技术服务业、高技术制造业投资分别增长11.4%、9.9%。科技成果转化服务业、电子商务服务业、航空航天器及设备制造业投资分别增长31.8%、29.2%、18.4%。由此可见, 我国

- ①营商环境不断优化, 创新活力持续增强
- ②经济加快转型升级, 投资效益不断提升
- ③新旧动能加速转换, 制造强国稳步推进
- ④投资规模不断扩大, 经济结构持续优化

- A. ①③
- B. ①④
- C. ②③
- D. ②④

16. 我国首部专门性的未成年人网络保护综合立法《未成年人网络保护条例》于2024年1月1日起施行。《条例》规定“网络游戏服务提供者应当通过统一的未成年人网络游戏电子身份认证系统等必要手段验证未成年人用户真实身份信息。网络产品和服务提供者不得为未成年人提供游戏账号租售服务。”这一规定

- ①有利于改善未成年人的上网条件
- ②能规范经营行为, 保护未成年人个人信息
- ③旨在健全未成年人网络防沉迷制度
- ④有助于营造促进未成年人身心健康的网络环境

- A. ①②
- B. ①③
- C. ②④
- D. ③④

17. 2023年9月, 国务院印发的《提升行政执法质量三年行动计划(2023-2025年)》提出, 要全面落实行政执法公示制度、执法全过程记录制度、重大执法决定法制审核制度, 探索建立涉企行政执法案件经济影响评估制度。上述要求意在

- ①规范行政执法行为, 提高执法效率
- ②完善执法工作机制, 打造法治政府
- ③提升行政执法质量, 树立政府权威
- ④严格行政执法程序, 保护人民权益

- A. ①②
- B. ①③
- C. ②④
- D. ③④

18. 共建“一带一路”10年来,取得了丰硕的成果。截止目前,中国已与150多个国家、30多个国际组织签署了200多份合作文件,与沿线国家的货物贸易额翻了一番,对沿线国家的直接投资增长了80%,为沿线国家创造了42.1万个就业岗位。共建“一带一路”取得丰硕成果的原因在于
- ①符合了沿线国家合作、发展的现实需求 ②中国的国际地位和话语权在日渐增强
③坚持共商共建共享,得到了各国高度认同 ④顺应经济全球化趋势,不断增强经贸合作
- A. ①③ B. ①④ C. ②③ D. ②④
19. 春节蕴含着中国人民的共同价值理念,寄托着对家庭和和睦的向往、对美好生活的期盼。2023年12月,第78届联合国大会通过决议,将春节确定为联合国假日,获得联合国会员国和联合国秘书处工作人员的热烈欢迎和踊跃支持。春节正式成为联合国假日
- ①表明联合国倡导多元、包容的文化价值理念
②提升了中华优秀传统文化价值和国际影响力
③有助于世界不同文明间交流互鉴、融合发展
④能更好地展示中华文化的独特魅力和优越性
- A. ①② B. ①③ C. ②④ D. ③④
20. “津门十景”之一的天津古文化街拥有大量人文景观、历史景观以及独特民俗风情,汇集了一大批老字号店铺,以其特有的中国味、天津味、古味、文化味吸引着各方游客,成为让全国乃至世界各地了解天津民俗、感受天津民风、体验天津历史文化的最佳场所。从中得到的启示是
- ①厚重的历史底蕴是文化传播和发展的前提
②以产业化形式介入是发展地域文化的最佳方式
③充分彰显地域文化特色满足人民美好生活需要
④坚定文化自信是推动文化高质量发展的最大底气
- A. ①② B. ①④ C. ②③ D. ③④
21. 毛泽东同志是马克思主义中国化的伟大开拓者,他曾说,“对于建设社会主义的规律的认识,必须有一个过程。必须从实践出发,从没有经验到有经验,从有较少的经验,到有较多的经验,从建设社会主义这个未被认识的必然王国,到逐步地克服盲目性、认识客观规律、从而获得自由,在认识上出现一个飞跃,到达自由王国。”该观点从一个侧面告诉我们
- ①认识的发展是一个不断推翻原有认识的过程
②坚持肯定与否定的统一才能推动认识的发展
③在实践中获得更多经验是探索规律的方法路径
④认识的发展是一个从渐进走向统一的变化过程
- A. ①③ B. ①④ C. ②③ D. ②④
22. 生成式人工智能正引领着各个领域的变革,对医疗健康、科学研究等起着积极的推动作用。但由此带来的信息偏见和歧视、个人信息泄露等伦理法律风险也大大增加。据此,有学者建议,必须确保其应用符合法律法规和伦理原则,避免潜在的负面影响。从哲学上看,能支持该建议的理由是
- ①事物的性质是由主要矛盾决定的 ②主次矛盾在一定条件下相互转化
③矛盾具有同一性,矛盾双方相互贯通 ④同一矛盾的每个侧面各有其特点
- A. ①② B. ①④ C. ②③ D. ③④
23. 为促进城市绿色低碳发展,回应市民关切,某市创新提出以原厂老工业遗址生态恢复为核心,多部门在园区规划、设计阶段提前对接沟通,打造“生态阻隔、生态恢复、绿色评估、应急响应”“3+1”绿色管控体系,使原有污染场地变身“城市绿肺”,让百姓称赞叫好。该场地管理模式
- ①立足关键部分促进城市绿色低碳发展
②综合考虑了各部分各要素之间的相互作用
③以思想观念的创新为先导助力城市环境治理
④是顺应人民期盼、实现城市绿色发展的基本途径
- A. ①② B. ①④ C. ②③ D. ③④

- 24.《礼记·王制》谈到诸侯方国官职设置云：“大国三卿，皆命于天子。……次国三卿，二卿命于天子，一卿命于其君……小国二卿，皆命于其君”，这一情况一直延续到春秋中期。据此可知，当时
- A. 社会转型特征明显
 - B. 形成了以王室为中心的权力体系
 - C. 贵族政治色彩浓厚
 - D. 呈现出中华文明多元一体的格局
- 25.《月令》是古人对时令经验的总结，记载着天象、物候、气象等自然事物的变化；汉武帝时，《礼记·月令》被立为经学，涉及君主施政、祭祀等内容，原有的刻度时间意义已经渐次模糊。这一变化的主要目的是
- A. 政府总结农业生产经验
 - B. 强化儒学的正统地位
 - C. 强调帝王统治的合法性
 - D. 丰富人们的时间认知
- 26.宋朝户籍分主户和客户。主户指拥有土地、缴纳赋税的税户，客户指没有土地的佃户。北宋初，客户占总人口的40%，到1072年客户所占比例下降到30%，主户人口所占比例也就相应上升了。对此现象解释合理的是
- A. 统治者增加财政收入的一种手段
 - B. 政府“不抑兼并”政策的结果
 - C. 封建国家对农民的人身控制松弛
 - D. 商品经济发展冲击政府政策
- 27.下表是某一学者对明末至晚清部分传统书目与新学书目所著录的西书进行的分类统计。

部分传统书目与新书目收录种类、数量表

西书种类	书目类型	传统书目		新学书目		
		绝缴同文经	四库全书总目	增版东西学书录	译书经眼录	西学书目问答
文、史地类		6	7	149	173	40
科技类		12	14	325	42	128
宗教类		5	8	5	3	0
政法类		0	0	34	71	22
学科类		0	0	190	77	19
总计		25	29	703	366	209

由表可知

- A. 时人具备一定世界眼光
 - B. 明清时期科技发展迅速
 - C. 晚清政府积极改革政治
 - D. 西学东渐成为思想潮流
28. 1842年8月29日，《南京条约》在英舰“康华丽”号上正式签署。英方为此专门绘制了《〈南京条约〉的签订与钤印》一图(下图)，作者在画面结构、人物形象等方面都进行了精细设计。这些设计《南京条约》的签订与钤印



1. 居于画面正中位置的人物是中方负责签约的钦差大臣耆英，但在他头顶的正上方绘着一幅英国女王的肖像画。
2. 画面前景左下侧绘有一个文件箱，点明了“签约”的主题，右下侧绘有一只小狗，象征忠诚。

- A. 反映英国谋求对华商品输出
- B. 具有强烈的政治意涵
- C. 真实再现当时条约签订场景
- D. 打破了传统夷夏观念

29. 辛亥革命后的短短几个月内,全国就出现各种政治党团 200 多个。在民国初年国会竞选中,各政党除了利用行政干涉外,还竞相采用各种非法手段把持选举。1913 年,过分相信合法的议会斗争功用的宋教仁遇刺身亡。由此可知,民国时期

- A. 政党政治缺乏有效运作基础
b. 精英政治阻碍了政治转型
C. 北洋军阀内部派系纷争加剧
D. 资产阶级政党局限性初显

30. 大兴纱厂是近代石家庄第一家大型民族纺织企业。1947 年 11 月中国共产党接管,在加强公营管理的过程中重新调查与分析其资本性质。此后,双方多次协商促使大兴纱厂在中华人民共和国成立前后几个月内又实现由公营向私营的转变。这一做法

- A. 有利于巩固革命统一战线
B. 具有社会主义革命的特征
C. 有效缓解企业的劳资矛盾
D. 体现新民主主义经济政策

31. 1949—1966 年,普通劳动者以英雄模范形象登上党报版面,其模范事迹被写入广播稿,甚至被拍摄成电影、创作成文学和戏剧作品,这反映出

- A. 文艺创作主体的多样化
B. 民主政治建设成效显著
C. 经济建设路线逐渐成熟
D. 政府强化民众政治认同

32. 德摩斯是由自然聚落演化而成的、雅典人世代定居生活的地方基层社会单位。克里斯提尼按照内陆、城区和海滨 3 个地区将德摩斯划分成 30 个三一区,再从各地区抽选 1 个三一区组成部落,同时允许氏族、胞族以及祭司职务保持祖传的习惯。这表明克里斯提尼改革

- A. 兼具革新性和保守性
B. 推动雅典城邦体制的形成
C. 完善了基层治理体系
D. 平衡氏族贵族与公民利益

33. 1500 年葡萄牙人首次来到巴西时,他们将印第安人的形象描述为“单纯懵懂的原始人”;16 世纪中期,葡萄牙人眼中印第安人“食人族”野蛮形象开始占据主位;后来,又将印第安人描述为“懒惰者”,须由黑人取代。这些现象反映了

- A. 世界市场的最终形成
B. 印第安人的形象变化
C. 巴西社会结构逐步转变
D. 欧洲资本原始积累完成

34. 下表为英国从印度进口的棉纺织品数量(1701—1780 年)。这一现象

年份	数量
1701—1705	1170881
1716—1720	2173287
1771—1775	4764589
1776—1780	6706013

- A. 标志着英国经济思想的转变
B. 推动了英国的技术革新进程
C. 反映了英对印贸易出现逆差
D. 源于英国“世界工厂”地位

35. 美国的非洲研究最早兴起于传统黑人大学并由非洲裔学者主导,在主流学术界则处于边缘位置。从 20 世纪 50 年代开始,在联邦政府和私人基金会的全力支持下,与非洲相关的高校地区研究中心、学术协会和学术期刊纷纷成立,非洲研究也就此成为美国地区研究的重要组成部分。这一变化

- A. 表明美国解决了种族歧视现象
B. 得益于非洲民族意识的觉醒
C. 有利于推动国际关系的民主化
D. 与美国国家战略需求相适应

二、非选择题：共 160 分。第 36-42 题为必做题，每个试题考生都要必须作答。第 43-47 题为选做题，考生根据需求作答。

(一)必做题：共 135 分。

36.(22分)阅读图文材料，回答下列问题。

新疆吐鲁番盆地光热资源丰富，是我国葡萄的主要生产基地，吐鲁番葡萄现已成为我国地理标志保护产品。为了改变过去以制干为主的方式，当地政府大力推广“春提早”“秋延晚”鲜食葡萄品种种植，生产反季节鲜食葡萄，并积极鼓励村民不断促进线上销售产品。图 3 为吐鲁番盆地及其周边地区等高线地形图。

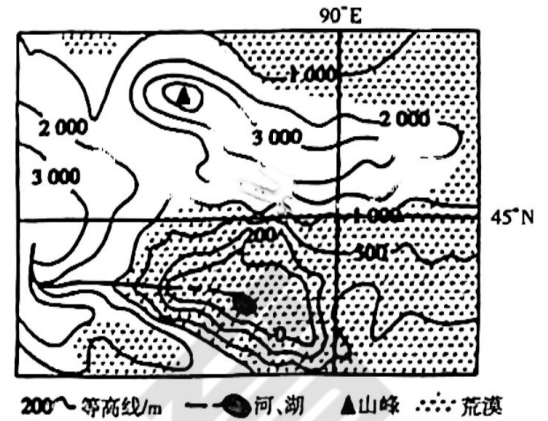


图 3

(1)分析当地推广“春提早”“秋延晚”鲜食葡萄品种种植有利条件。(8分)

(2)简述当地发展“春提早”“秋延晚”鲜食葡萄种植的经济效益。(4分)

(3)说明线上销售对促进当地果农种植“春提早”“秋延晚”鲜食葡萄的作用。(4分)

(4)指出当地持续大力发展“春提早”“秋延晚”鲜食葡萄种植需要注意的问题。(6分)

37.(24分)阅读图文材料，回答下列问题。

材料一：玛珥湖是火山口湖的一种类型，是因水灌入火山口，导致局部水蒸气过多，排不出去，进而产生爆炸所形成，区别于其它火山口湖的特点是平地爆发，蒸汽、泥石同时喷发，湖面海拔较低，水深数 10 米。广东省湖光岩玛珥湖形成于距今 14~16 万年前，湖水面积 2.3 平方公里，湖深 446 米，其中湖底沉积物 420 米且保存自然完整，湖面低于海平面，湖域封闭，不受外界水系干扰，是世界最大的湿玛珥湖。湖光岩玛珥湖地质遗迹具有典型性、完整性特点，是同类湖泊的典型代表。图 4 为湖光岩玛珥湖地理位置、图 5 为湖光岩玛珥湖地质构造垂直剖面示意图。

材料二：有学者对到达玛珥湖最深处附近的沉积物粒径粗细变化进行了调查研究，并通过实验验证了沉积物粒径粗细变化的主要形成原因是：当玛珥湖湖泊水位变化时，与湖泊水搬运作用有关；当玛珥湖湖泊水位稳定时，与径流搬运作用有关。

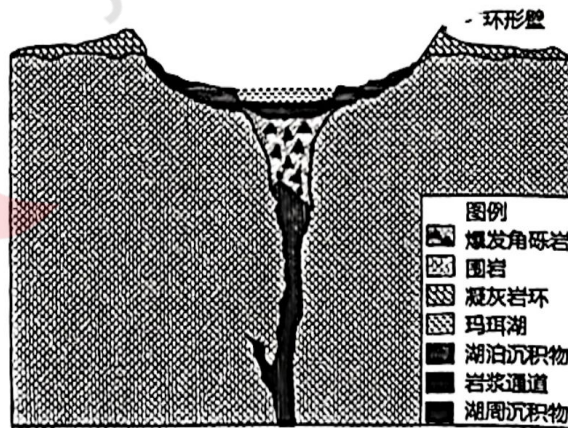
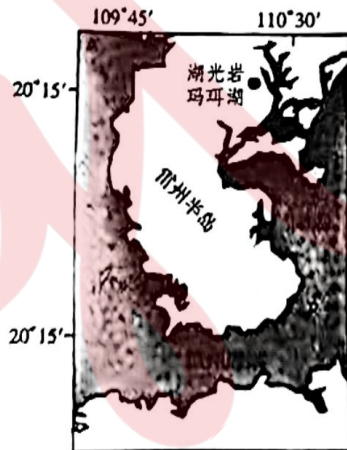


图 4 湖光岩玛珥湖地理位置 图 5 湖光岩玛珥湖地质垂直剖面示意图

(1)指出湖光岩玛珥湖属于典型玛珥湖的有力证据。(6分)

(2)分析湖光岩玛珥湖湖泊沉积物深厚且保存自然完整的原因。(8分)

(3)请为湖光岩玛珥湖的地理研学旅行设计研学项目。(4分)

(4)说出玛珥湖水位变化时到达湖泊最深处附近的沉积物粒径粗细变化并解释原因。(6分)

38. (14分)阅读材料,完成下列要求。

银发经济是向老年人提供产品或服务,以及为老龄阶段做准备等一系列经济活动的总和 涵盖衣食住行、文教娱乐、医养康护等多个领域。目前我国银发经济规模总量在7万亿元左右,占GDP比重约6%。近年来,随着人们收入增长和社会保障水平的不断提高,老年人群开始越来越追求社交的个性化与便利化、消费的品质化与多元化,在智能化康养设备、助老服务及健康管理等方面需求显著增加。预计到2035年,银发经济规模将达到30万亿元左右,占GDP比重约10%。

近日,我国首个以“银发经济”命名的政策文件《关于发展银发经济增进老年人福祉的意见》发布,总体要求“着力培育高精尖产品和高品质服务模式,让老年人共享发展成果、安享幸福晚年”。

实现银发经济高质量发展,必须培育新质生产力。新质生产力是创新起主导作用,摆脱传统经济增长方式、生产力发展路径,符合新发展理念的先进生产力质态。它由技术革命性突破、生产要素创新性配置、产业深度转型升级而催生,以全要素生产率大幅提升为核心标志。

结合材料并运用经济知识,分析我国银发经济发展的趋势及其对银发产业新质生产力的驱动作用。(14分)

39. (12分)阅读材料,完成下列要求。

2024年中央一号文件强调,推进乡村全面振兴要“以提升乡村产业发展水平、建设水平、治理水平为重点”。

近年来,各地突出党建引领促乡村振兴,在实践中进行了一系列富有成效的探索。铁岭市将区域分布较近、资源禀赋相似的村整合起来,依据现有产业基础和发展空间,建立“跨村产业联合党委”,使党的政治优势、资源优势下沉乡村,帮助搞好产业规划、引进项目、争取外部支持,建成了果蔬种植、畜禽养殖、乡村旅游等27个特色产业,形成了以强带弱、抱团发展的新格局。北京湖门村不断创新基层党组织协商议事新模式,搭建“村民议事厅”,将关乎民生福祉、影响邻里关系的“大事”“难事”放在议事会上与村民协商解决,激活了基层治理的“感应末梢”。上海白沙村推行“红色细胞”行动,依托党员民主测评、党组织审核等形式,迅速动员全村100多名党员积极参与生活家园建设,基本形成了“垃圾不落地”“河道有人管”“公园有人护”的农村新景象。

结合材料并运用政治生活知识,分析在乡村振兴中应如何发挥党建引领作用。(12分)

40. (26分)阅读材料,完成下列要求。

十九世纪三四十年代,在无产阶级反对资产阶级、争取自由解放斗争的历史条件下,马克思主义应运而生。它创造性地揭示了人类社会的发展规律,为实现无产阶级和全人类的解放指明了方向。

马克思主义传入中国后,毛泽东曾强调,“使马克思主义在中国具体化,使之在每一表现中带着必须有的中国的特性”。为此,我们党在长期革命、建设实践中,始终把马克思主义基本原理同中国具体实际相结合,不断推进实践基础上的理论创新,为党和人民事业发展提供了科学理论指导。

进入新时代,习近平在强调坚持“第一个结合”的基础上,明确提出了“第二个结合”,即把马克思主义基本原理同中华优秀传统文化相结合。中华优秀传统文化蕴含的天下为公、民为邦本、自强不息、厚德载物、亲仁善邻……等思想,同科学社会主义的价值主张具有高度契合性。二者可以双向奔赴、彼此成就,用中华优秀传统文化涵养马克思主义,用马克思主义激活中华优秀传统文化,使马克思主义成为中国的,使中华优秀传统文化成为现代的。

马克思主义所具有的实践性、开放性等理论品格,要求它必须同我国的具体实际和文化土壤紧密结合,这不仅是习近平文化思想的显著内涵,也是马克思主义永葆旺盛生命力的根本所在。

(1)与中国的具体实际和文化土壤紧密结合,是马克思主义永葆旺盛生命力的根本所在。结合材料并运用哲理的知识对此加以分析。(12分)

(2)运用文化生活知识,结合材料分析新时代坚持“第二个结合”对建设文化强国的意义。(10分)

(3)习近平文化思想对推动文化繁荣、建设文化强国意义深远。泸州是中国国家历史文化名城,拥有红色、长江、白酒和康养四大特色文化。请你就如何推动泸州文化建设提两条合理化建议。(4分)

41.(25分)阅读材料,完成下列要求。

材料一 唐前期敦煌文化的内容极其丰富,西汉以来几百年的发展为敦煌奠定了深厚的文化基础,丝绸之路的畅通,使得众多商胡到来和定居,又为这里带来了域外文化的精髓,儒学、佛学、道学和其他外来宗教学说在这里交相辉映。随着生产力的提高和生活条件的改善,这一时期的莫高窟在形象塑造上,深受大唐积极健康的审美情趣影响,绘画的人物皆是丰盈润泽,健硕强壮;壁画内容不再追求苦行清修,转而宣扬天国的欢乐和现世的幸福,画面用色多浓郁华丽,与早期的古朴沉稳恰成对比,创作出的艺术品具有极强的生命力。
——据杨宝玉《敦煌史话》

材料二 1900年5月,引起世界轰动的藏经洞被发现,部分当地官员认识到洞内文物价值,希望运到省城兰州保存,但时局混乱,甘肃省政府以无暇筹措运费为由,拒绝这一提议。1907年后,西方国家派出的“探险队”先后进入敦煌掠走大量敦煌文物、破坏敦煌壁画遗迹,大量敦煌文物就此流散世界各地,一度造成了“敦煌在中国,敦煌学在外国”的局面。1944年,国民党政府在文化届和社会舆论的强烈呼吁下,成立了敦煌艺术研究所,在不受国民党政府重视、经费支绌、条件艰苦的情况下,开始担负起了保护和研究莫高窟的重任。
——据宁可、郝春文《敦煌的历史和文化》

材料三 1949年,中国人民解放军解放敦煌,随后将敦煌艺术研究所更名为敦煌文物研究所,直接由中央文化部领导,增加人员编制,扩大工作范围。1961年,莫高窟被列入第一批全国重点文物保护单位。1984年,敦煌文物研究所扩建为敦煌研究院,成为目前世界最大的敦煌相关研究实体,经过学人的努力逐渐形成了“敦煌在中国,敦煌学在世界”的局面。1987年,敦煌莫高窟被联合国教科文组织列入《世界遗产名录》。改革开放以来,敦煌和莫高窟在丝绸之路上再度放出光辉,世界学者络绎不绝,旅游者接踵于道。如今,人们正在领略着这份丰富绚烂的文化财富,整理研究,吸收运用。
——据樊锦诗、赵声良《灿烂敦煌》

(1)根据材料一并结合所学知识,概括唐前期敦煌文化的特点。(6分)

(2)根据材料三,并结合所学知识,分析20世纪以来影响敦煌学发展的主要因素并加以说明。(14分)

(3)根据上述材料并结合所学知识,谈谈你对文化遗产与保护的认识。(5分)

42.(12分)阅读材料,回答问题。

材料 亨廷顿和巴林顿·摩尔都很重视革命与现代化之间的关系。亨廷顿认为,革命是一种有限历史现象,它是现代化的产物,革命是政治参与的爆炸性的极端事例,是政治参与和政治制度化之间矛盾的产物。革命对现代化也有促进作用,革命所带来的政治认同、道德更新和权威重建对于现代化都具有积极意义。巴林顿·摩尔通过对现代化的比较研究,揭示了现代化是复合模式的过程,不同国家现代化的道路是不同的,革命暴力在现代化过程中扮演著积极的角色在通向民主道路中,暴力革命是重要的一环,不同的革命类型会产生不同的现代化后果。
——据坚刚《中国的革命与现代化》

根据材料并结合所学知识,围绕“革命与现代化”拟定一个主题,并加以阐释。(要求:主题明确,史论结合,逻辑严谨)

(二)选做题:共25分。请考生从43、44两道地理题,从45、46、47三道历史题中每科任选一题作答,如果多选,则每科按所做的第一题计分。

43.(10分)【选修3——旅游地理】

在平遥古城夜间旅游的人越来越多,2019年3月,首批26台智能机器人导游(如图6所示)在平遥古城内正式投入使用。这些外表可爱的机器人,可以为游客提供24小时不间断的旅游服务,不仅可以伴随游客随走随讲,还可以充当代步工具,供游客骑行,每台机器人导游都处于联网状态,可以在线搜索游客的提问,并且还设置有防撞系统,当检测到和其他游客距离小于50厘米时,就会暂停前进。机器人导游逐渐受到人们的青睐。

分析机器人导游为游客提供的旅游体验。



图6

44.(10分)[选修6——环境保护]

某中学组织学生对抚仙湖北部水质进行研学考察,抚仙湖位于云贵高原,是我国最大的深水型淡水湖泊,是国家一类饮用水源地。流域较封闭,水体更新慢、水温全年温差不大,全年平均水温 17°C 左右,最高达 22°C 左右,最低达 12°C 左右。图7为抚仙湖流域示意图。

推测抚仙湖北部最可能出现的生态环境问题,并说明学生们选择在抚仙湖北部进行研学考察的原因。



图7

45.(15分)[历史上重大改革回眸]阅读材料,完成下列要求。

材料 孝文帝在位时期,认为既有的法律不完善导致奸吏任意出入人罪,于是“诏中书令高闾集中秘书官等修改旧文,随例增减”,他本人更是直接参与了法律的制定。太和五年(公元481年),孝文帝下诏:“其五族者降止同祖,三途止一门,门诛止身”,北魏特有的门房之诛被废除。孝文帝认为:“三千之罪,莫大于不孝”。

孝文帝时期建立了中华法系很有特色的制度:存留养亲制度,即犯有死罪的人,在其尊亲属尚在又无人供养时,允许该人奉养至其尊亲属死亡,然后再执行刑罚。太和八年(公元484年),孝文帝也仿照汉族实行俸禄制度,“给百官绢粟有差”。随后将法律最初规定的“枉法十匹,义赃二百匹大辟”改为了“义赃一匹,枉法无多少皆死”。北魏的法制建设为中华法系的正式形成起了重要的奠基作用。

——摘编自魏志静《北魏孝文帝法律改革述评》

(1)根据材料并结合所学知识,概括孝文帝法律改革的特点。(7分)

(2)根据材料并结合所学知识,简要评价孝文帝的法律改革。(8分)

46.(15分)[20世纪的战争与和平]阅读材料,完成下列要求。

材料 “低烈度战争”的概念是里根上台后在美苏“冷战”的大背景下所提出的,在1987年6月15日签署的国家安全决定指令27号文件《针对低烈度战争的国家政策与战味》文件中指出:低烈度战争是相互竞争的国家或团体之间的政治—军事对抗,其程度低于常规战争并且又高于国家间通常的和平竞争,它涉及彼此对立的原则及意识形态的对抗,它的范围从颠覆破坏直到武力的使用,实施的手段包括了政治、经济、情报及军事等方面。它通常发生在第三世界国家,但牵涉到地区性及全球性的安全。

1979年9月,尼加拉瓜桑地诺民族解放阵线通过武装斗争,推翻亲美独裁的索摩查王里根政府自上台之初,开始了对尼加拉底反政府武装长达7年的支持与援助。在这一过程中,里根政府综合运用了包括经济、政治、外交及军事手段在内的各种措施,使得尼加拉瓜政权接受了在1990年举行国际监督下的全国大选,并最终使得亲苏的桑解阵丧失了政权。

——刘长新《里根政府“低烈度战争”理论探析》

(1)根据材料并结合所学知识,概括说明美国所实施的低烈度战争的特征。(6分)

(2)根据材料并结合所学知识,分析低烈度战争与“冷战”政策的异同及影响。(9分)

47.(15分)[中外历史人物评说]阅读材料,完成下列要求。

材料 第一次世界大战的爆发打破了欧美列强在华的均势格局。日本乘机侵略中国的同时,鼓吹“大亚细亚主义”论调,引发中国激烈回应。李大钊于1917年—1919年先后发表多篇文章,认为国家无论大小还是强弱,全都应该视为对等的,不是任由日本一强独霸。实现亚洲被压迫国家“民族解放”是对亚洲“作基础根本改造”的首要任务,实现民族自决才能结成“大联合”,建构“亚洲联盟”。他特别说明,“亚细亚是我们划出改造世界先行着手的一部分,不是亚人独占的舞台”。李大钊还勾勒了实现世界大同的路线图,由一国组成联邦,进而建立洲内联邦,继而三大洲建立“世界联邦”,最终实现“世界大同”,而实现社会主义革命,建立真正的民主制度,是实现世界大同的基本条件。这就是李大钊为“人类命运共同体”思想提供了其追求的最高目标,即“人类一体”与“世界大同”。

——摘编自杜品《从“亚洲联邦”到“人类一体”:李大钊对“人类命运共同体”思想的先期探索》

(1)根据材料并结合所学知识,概括李大钊组建“人类命运共同体”的基本原则。(7分)

(2)根据材料并结合所学知识,分析李大钊对“人类命运共同体”思想进行先期探索的原因。(8分)