

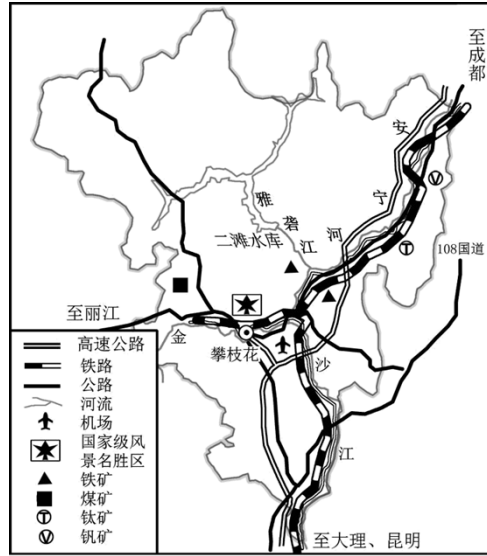
文科综合能力测试

注意事项:

- 1. 答卷前, 考生务必将自己的姓名、准考证号填写在答题卡上。
2. 回答选择题时, 选出每小题答案后, 用铅笔把答题卡对应题目的答案标号涂黑。
3. 考试结束后, 将本试卷和答题卡一并交回。

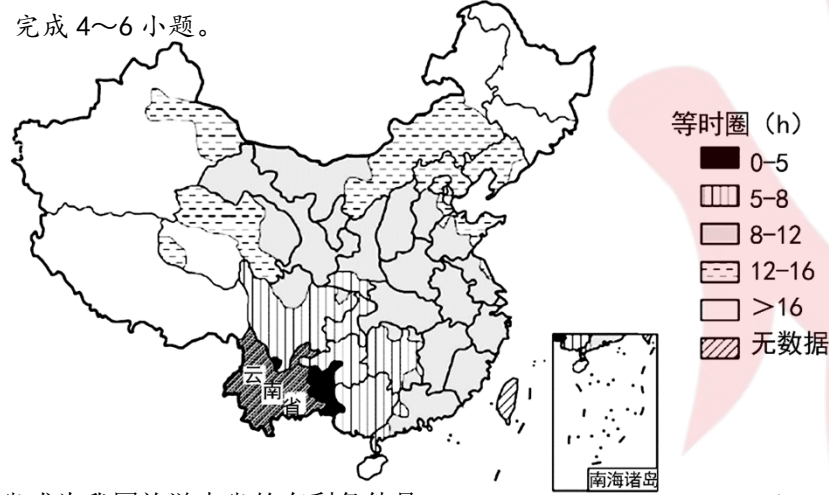
一、选择题: 本题共 35 小题, 每小题 4 分, 共 140 分。在每小题列出的四个选项中, 只有一项是符合题目要求的。

“候鸟式”养老是当今兴起的一种新型养老模式。不少北方老年人选择冬季到南方的城市居住、旅游, 北方天暖后再回到原地居住。2010 年起, 攀枝花大力发展“阳光康养产业”, 目前已成为我国“候鸟式”养老的热点城市之一。右图示意攀枝花位置图。据此完成 1~3 题。



- 1. “候鸟式”养老可能 ()
A. 加剧流出城市的老龄化
B. 缓解流入城市的老龄化
C. 增加流出城市的就业机会
D. 增加流入城市的就业机会
2. 大力发展“阳光康养产业”之初, 攀枝花面临的困难是 ()
A. 空气质量 B. 交通条件
C. 接待能力 D. 政策支持
3. “候鸟式”养老热点城市的打造, 将使攀枝花 ()
A. 城市等级提升 B. 迁出人口增多
C. 产业转型升级 D. 人地矛盾缓解

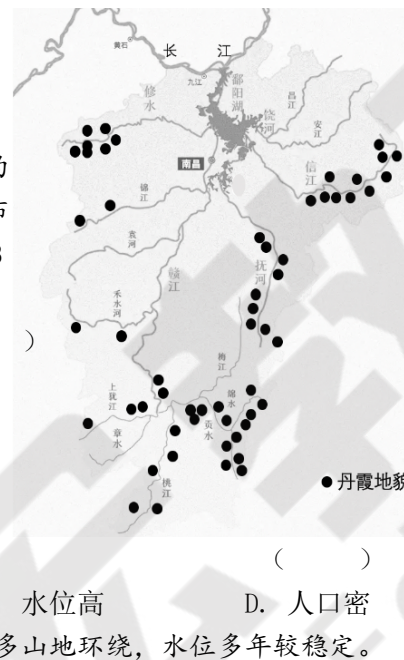
云南省是我国旅游大省, 但长期滞后的交通基础设施严重制约了云南省旅游业的进一步发展。自 2016 年云南省首条高铁开通以来, 该省高铁版图急速扩张, 为当地旅游业发展带来崭新机遇。下图示意在现有高铁下全国各地到云南省旅游等时圈。完成 4~6 小题。



- 4. 云南省成为我国旅游大省的有利条件是 ()
① 旅游资源丰富 ② 高铁发展较快
③ 客源市场广阔 ④ 地理位置优越
A. ①② B. ②④ C. ③④ D. ①③

- 5. 随着高铁的开通及发展, 可能会导致云南省旅游客源市场 ()
A. 5~8 等时圈的范围缩小
B. >16 等时圈的范围缩小
C. 省外游客超过省内游客
D. 随着距离增加游客减少
6. 高铁版图急速扩张除了促进旅游业发展外, 还会使云南省 ()
A. 区域经济均衡发展
B. 成为重要铁路枢纽
C. 生产要素流动加快
D. 加快省内人口西迁

丹霞地貌是红色砂砾岩在地质作用下形成的以陡崖坡为特征的红层地貌, 江西省丹霞地貌分布较广。右图为江西省丹霞地貌分布图, 完成 7~8 小题。



- 7. 形成图示区域丹霞地貌的地质作用过程是 ()
A. 变质作用、地壳下降、风力侵蚀
B. 岩浆活动、地壳抬升、流水侵蚀
C. 沉积作用、地壳抬升、流水侵蚀
D. 沉积作用、地壳下降、流水沉积
8. 鄱阳湖周边区域没有丹霞地貌分布的原因是 ()
A. 流速缓 B. 土壤厚 C. 水位高 D. 人口密
甲、乙两湖泊位于伊朗和阿富汗边境, 周边多山地环绕, 水位多年较稳定。下图示意湖泊所在区域相关信息。完成 9~11 题。



- 9. 两湖泊的咸淡判定正确的是 ()
A. 甲咸水湖, 乙咸水湖
B. 甲淡水湖, 乙咸水湖
C. 甲淡水湖, 乙淡水湖
D. 甲咸水湖, 乙淡水湖
10. 关于 a 河流叙述正确的是 ()
A. 甲流向乙 B. 流速较快
C. 流量较大 D. 河水较咸
11. 若在 a 河流域大量种植小麦, 以下变化最可能发生的是 ()
A. 甲湖盐度升高 B. 乙湖蒸发减少
C. 乙湖沉积加大 D. 水土流失加剧

12. 2023 年 8 月 29 日, 华为官方推出“先锋计划”, 以 6999 元提前开售 Mate60Pro 且即时售罄。华为 Mate60Pro 是全球首款支持卫星通话的大众智能手机, 即便没有网络信号覆盖, 也可以直接拨打和接听卫星电话, 不仅在性能和摄影方面表现出色, 还搭载了最新的麒麟 9000S 芯片和鸿蒙 4.0 操作系统, 让用户体验到更流畅的操作和更高效的多任务处理。9 月 14 日, 华为宣布, 全新一代折叠屏旗舰华为 MateX5 起售价为 12999 元, 顶配价格为 16999 元。材料中蕴含的

- ()
① 依托自主开发提高社会劳动生产率, 使商品价值增加
② 依托自主创新提高商品的使用价值, 扩大了商品需求
③ 个别劳动时间大于社会必要劳动时间, 商品价值增加
④ 优质优价符合生产者的利益追求, 能够获得更多利润
A. ①② B. ①③ C. ②④ D. ③④
13. 与国有投资相比, 民间投资创业、创新功能强大, 投资效率较高, 但抗风险能力相对较弱。国家发改委强调支持民间资本参与重大项目, 民营经济发展局加强相关政策统筹协调, 推动民间投资回稳向好并实现高质量发展。关于推动民间投资, 下列推导正确的是 ()
① 深化要素市场化改革 → 加快建设全国统一大市场 → 拓宽民间投资领域 → 让民间资本“会投”
② 深化市场准入制度改革 → 加快破除各类隐形壁垒 → 营造公平透明竞争环境 → 让民间资本“敢投”
③ 落实落细税费支持政策 → 降低民营企业融资成本 → 提高企业投资扩产积极性 → 让民间资本“愿投”
④ 推广“信易贷”等服务模式 → 促进资金流向民营企业 → 解决企业资金问题 → 让民间资本“能投”
A. ①② B. ①③ C. ②④ D. ③④
14. 小李父亲在国企上班每月工资为 8000 元, 当月理财利息收入 1600 元, 母亲在外资企业上班每月工资 6000 元, 小李大伯经营村里承包土地获月收入为 2000 元。小李二伯流转土地承包经营权获月收入 900 元, 小李奶奶 80 多岁且残疾, 有高龄补贴、残疾补贴、养老金等月收入 1500 元。下列对小李一家月收入分配理解正确有 ()
① 按劳分配收入 10000 元
② 按劳动要素分配收入 8000 元
③ 财产性收入共计 4000 元
④ 劳动性收入共计 16000 元
A. ①③ B. ①④ C. ②③ D. ②④
15. “卖惨营销”是商品宣传的一种常见策略, 其手段包括打情怀牌、苦情牌等, 靠刺激消费者的情绪博取同情, 进而将情绪转化为销量。其本质属于虚假宣传, 只能暂时误导消费者, 长此以往只会自砸招牌、毁了商誉。为消除这种乱象 ()
① 政府应采取有效措施克服市场调节的盲目性, 建立公平竞争环境 ()
② 要切实加强社会诚信建设, 建立健全社会征信体系
③ 相关组织要加强内容管理, 依法合规经营, 承担社会责任
④ 国家要以行政手段为主, 强化监督执法, 提高违法的成本
A. ①② B. ①④ C. ②③ D. ③④
16. 全球三分之二的贸易与供应链直接相关。2023 年 12 月 2 日, 首届中国国际供应链促进博览会在北京闭幕。515 家中外企业和机构参展, 签署协议 200 多项, 涉及金额 1500 多亿元。研究表明, 全球供应链参与度每提高 1%, 则全球人均收入水平提高 1% 以上。在某些西方国家“断链”的背景下, 举办首届链博会对世界经济复苏有积极作用。这表明中国 ()
① 把增强供应链韧性作为中国与世界经济复苏的重要手段
② 是世界经贸领域深化多边主义合作与对外开放的推动者
③ 以供应链合作为基础, 构建并推动多边主义的外交理念
④ 在供应链建设中既注重开放与合作, 又强调独立与自强
A. ①② B. ①④ C. ②③ D. ③④

17. 近年来,某地综合行政执法局结合工作实际,在执法工作中做到“六先一后”,即敬礼在先、尊称在先、亮证在先、指出违法事实在先、说服教育在先、讲清处罚依据在先、处罚决定在后。执法人员践行以人民为中心的执法理念,于服务中执法,采取摆事实、讲道理的“情理结合”工作法,减少当事人抵触心理,取得了严格执法与文明管理双赢的效果。该地综合行政执法局的做法()

- ① 优化了执法方式,让行政执法有力度更有温度
- ② 做到了依法行政,旨在进一步提升政府的权威
- ③ 坚持了文明执法,有利于维护群众的合法权益
- ④ 完善了执法程序,实现了政府职能的根本转变

A. ①③ B. ①④ C. ②③ D. ②④

18. 2024年1月11日至14日,全国政协专题调研组赴广西壮族自治区,围绕“推进人口高质量发展”开展调研,听取地方情况介绍,与相关部门互动交流。调研组还围绕“学习贯彻习近平生态文明思想,促进产业绿色低碳转型”听取在桂全国政协委员和相关部门意见建议。这表明全国政协()

- ① 履行民主监督职能,对经济生活重要问题开展调查研究
- ② 积极参政议政,开展专题调研,发挥协商民主独特优势
- ③ 发挥亲密友党作用,凝聚社会共识,推动科学民主决策
- ④ 发挥专门协商机构作用,为美丽中国建设贡献政协力量

A. ①② B. ①③ C. ②④ D. ③④

19. 2023年12月13日,习近平结束对越南国事访问,此次访问中不拘一格的茶叙外交成为一大亮点。“茶”字拆开,就是“人在草木间”,人与人之间难免会有磕碰,国与国之间亦是如此,但茶之道正是在于存异尚和,只要秉持“和而不同”的理念,就可以找到最大公约数。未来,要继续以茶道智慧滋养两国关系。中越双方应()

- ① 秉持相互信任、相互尊重的精神妥善处理分歧问题
- ② 立足国际政治经济新秩序,携手深化两国务实合作
- ③ 不断夯实两国民意和社会基础,寻求发展利益共识
- ④ 推动构建中越命运共同体,切实维护两国盟友关系

A. ①③ B. ①④ C. ②③ D. ②④

2024年是农历甲辰龙年。阅读材料,完成20~21题。

20. 2024年中央广播电视总台春晚吉祥物“龙辰辰”的设计融入了我国5件珍贵文物元素,其中龙脊和龙腹纹取自西周何尊的扉棱和云雷纹,龙鳍的灵感源于唐代鎏金走龙挺拔雄健的背脊。这不仅饱含着传统文化中生肖龙的意蕴和美感,也展现出中华民族昂扬向上的精气神。吉祥物“龙辰辰”()

- ① 是中华民族整体风貌和精神特征的集中体现
- ② 体现了中华传统文化是艺术创作灵感的源泉
- ③ 是优秀传统文化传承和发展的一种物化形式
- ④ 展现了中华文化具有强大的生命力和连续性

A. ①② B. ①④ C. ②③ D. ③④

21. 2024年龙年到来,一句新的流行祝福语“龙行龘龘,前程朙朙”开始在社交媒体上流行起来。“龘”(dá)字通常用于形容龙飞翔时迅速而强劲的样子,象征着力量和速度,而“朙”(lǎng)字则较为罕见,常用来形容辉煌、广阔的意境。在“龙行龘龘,前程朙朙”这句话中,它们共同营造了一种强烈的向上和积极向前的氛围,寓意着在新的一年里,每个人都能如龙一般强大,前程似锦。



对此下面说法错误的是()

- ① “龙”在现实中并不存在,是人们凭空想象出来的
- ② 如同“万事如意、一帆风顺”一样很多祝福语都带有主观唯心主义色彩
- ③ 存在决定思维,思维反映存在,二者相互依存
- ④ 祝福语能给人以力量,以鼓舞,有利于人们生产生活

A. ①② B. ①③ C. ②④ D. ③④

22. “问题是事物矛盾的表现形式。”2023年9月,习近平在新时代推动东北全面振兴座谈会上指出,新时代全面振兴东北需要坚持问题导向,冷静分析制约东北发展的主要问题及其原因,科学把握形势,发挥比较优势,探索符合自身实际的高质量发展道路。坚持问题导向的哲学依据是()

- ① 矛盾贯穿于事物发展过程的始终,要以矛盾的普遍性为依据辨别事物
- ② 主次矛盾在一定条件下相互转化,要同等对待事物发展中的主次矛盾
- ③ 事物发展不同阶段存在不同矛盾,要紧密切合实际具体分析事物矛盾
- ④ 主要矛盾对事物发展起决定作用,要着重解决事物发展中的主要矛盾

A. ①② B. ①④ C. ②③ D. ③④

23. 漫画《新旧之弈》警示我们()

- ① 文化发展要坚持辩证否定观,切忌简单粗暴
- ② 价值判断的正确性依赖于价值选择的合理性
- ③ 在文化建设过程中要坚持正确价值观的指引
- ④ 文化与经济相互融合,必须敢于否定,勇于创新

A. ①③ B. ①④ C. ②③ D. ②④



24. 三星堆作为长江中上游地区中华古代文明的杰出代表,先后出土了大量青铜容器,这些青铜器在制作工艺上采用了与中原青铜容器相同的铸造法“泥模块铸法”,在一些纹饰与装饰性图案上更与长江中游湖北、湖南等地青铜器相似。由此可知()

- A. 长江流域与黄河流域文明同源
- B. 华夏文明具有多元一体的特征
- C. 新时期时代形成华夏认同观念
- D. 中原文明的影响辐射范围广泛

25. 战国后期,荀子曾到秦国,并在《强国》篇中写道:“入境,观其风俗,其百姓朴,其声乐不流污,其服不挑,甚畏有司而顺,古之民也。及都邑官府,其百官肃然,莫不恭俭、敦敬、忠信而不格,古之吏也。”这反映出()

- A. 秦国变法改革颇有成效
- B. 秦国深受儒家思想影响
- C. 吏治清明是统一的保障
- D. 荀子提倡隆礼重法思想

26. 北宋初年,宋太祖屡幸国子监祭礼拜谒孔子,重视名儒的社会影响,奖励书院,大倡读书风气。宋太宗更是“锐意文史”“以文化成天下”,深明“教化之本,治乱之源”的治国之道。以上做法()

- A. 确立儒学官方正统的地位
- B. 推动了官僚政治的发展
- C. 建立了较完整的教育体系
- D. 适应了维护统治的需要

27. 清代以来,原本人烟稀少的广大山区,因为“老林初开,包谷不粪而获”和番薯“备荒第一物”的特性,玉米、番薯等栽种遍野,“生齿日繁”,“棚民租山垦种,阡陌相连,将山土刨松,一遇淫霖,沙随水落,倾注而下,溪河日淤,不能容纳。”这一现象()

- A. 缓和了人口增长的社会矛盾
- B. 推动社会经济的均衡发展
- C. 一定程度导致自然灾害增多
- D. 促进了农产品商品化发展

28. 百日维新期间康有为在上奏光绪的《请君民合治满汉不分折》中提及“民族”两字,他指出“近者欧美,尤留意于民族之治,凡语言政俗,同为国民,务合一之”。据此可知,康有为()

- A. 旨在传播西方民族国家思想
- B. 致力于消除满清贵族特权

C. 对民族的认识有现代的一面 D. 抛弃了华夷之辩的旧思想

29. 下表为光绪三十二年(1906年)部分省岁入与庚子赔款摊派比较(单位:万库平两)。该表可以用来说明()

省份	岁入额	摊派偿还额	摊派所占岁入比重	省份	岁入额	摊派偿还额	摊派所占岁入比重
直隶	5747000	1300000	22%	甘肃	564000	300000	53%
安徽	3349000	1500000	45%	湖北	2479000	2100000	85%
江苏	23269000	3300000	14%	四川	4842000	2900000	60%
浙江	6985000	2100000	30%	山东	5452000	1500000	27%

- A. 经济发展水平决定摊派比重
- B. 列强对华侵略方式发生变化
- C. 辛亥革命的爆发及发展进程
- D. 晚清近代化发展的阻力来源

30. 1934年在江西瑞金召开的第二次全国工农兵代表大会上,毛泽东在《我们的经济政策》这一报告中指出“保证无产阶级对于农民的领导,争取国营经济对私人经济的领导”“现在我们的国民经济,是由国营事业、合作事业和私人事业这三方面组成的。”这体现出当时根据地()

- A. 努力为战略转移做准备
- B. 团结各阶层共同抗日
- C. 以经济建设为工作中心
- D. 具有新民主主义特征

31. 新中国建立初期,包括《人民日报》在内的各级各类党报,大力推动机关、工厂、学校、商店的群众读报工作,到1950年5月,人民日报版已在全国组织了2101个读报小组,右图是1954年盛锡福帽厂党支部副书记在休息时间给工人读报的照片。“读报组”的推广()



- A. 加强了民众对新中国的政治认同
- B. 凸显了社会主义制度的优越性
- C. 满足了人民群众的文化娱乐需求
- D. 极大推动了建国初期扫盲工作

32. 政厅公餐是古典时期雅典城邦一项重要的政治制度,它是城邦授予公民或外邦人的最高荣誉之一,为城邦做出巨大贡献是他们获得这份荣誉的原因。对于雅典公民来说,在政厅参加终身公餐是一份荣誉,让雅典人人为之追逐。古代雅典这一举措()

- A. 实现了公民和外邦人的平等
- B. 扩大了雅典民主政治的范围
- C. 是雅典人文精神的重要体现
- D. 旨在强化对城邦的集体意识

33. 1565年,菲律宾的西班牙殖民者在一份所需物品清单中列有“在中国交易用的银元和优质银条”,称这些物品“对于维持他们在菲律宾的活动非常重要”,希望能用从美洲驶往菲律宾的“首班船尽快送达”。由此可知()

- A. 中国处于世界贸易的中心
- B. 殖民活动引发欧洲价格革命
- C. 新航路推动世界联系增强
- D. 世界贸易格局逐渐发生变化

34. 1795年英国画家詹姆斯·吉尔雷创作《光明驱散黑暗》(右图),绘画左上角的金色太阳上写有“大众、国王、贵族”,而中间的希伯来语词汇意为智慧,英国首相小皮特站在战车上驱散阻挡英国前进的黑暗势力。这幅作品()



- A. 体现了英国代议制特点
- B. 讽刺英国民主政体不完善
- C. 具有现实主义绘画风格
- D. 适应了工业革命发展需要

35. 1945-1951年艾德礼工党政府执政期间,对英国大工业包括钢铁、煤炭、铁路、航空、电信和英格兰银行,实行国有化。1944-1946年戴高乐临时政府通过没收或赎买政策,将能源、银行、保险等行业的一些大型私人企业收归国有。这反映战后西方国家()

- A. 加强了金融的国际协调
- B. 强化了国家的宏观调控

C. 放弃市场经济运行机制

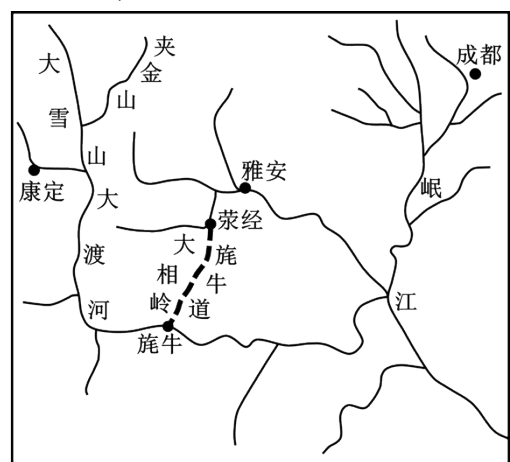
D. 认同社会主义经济体制

二、非选择题: 共 160 分。第 36~42 题为必考题, 每个试题考生都必须作答。第 43~46 题为选考题, 考生根据要求作答。

(一) 必考题: 共 135 分

36. 阅读图文材料, 完成下列问题。(24 分)

荣经县, 隶属四川省雅安市, 为旄牛道(川藏茶马古道)必经之地。荣经黑砂器色泽浑厚, 质地古朴, 以本地特有的一种高岭黏土(俗称白善泥, 不含有毒有害元素)混和煤灰, 经过 1000℃以上的高温烧制而成, 一直沿用历史一留下来的手工作坊生产方式, 工序复杂, 烧制考究。荣经黑砂器历史悠久, 尤以“荣经砂锅”盛名遐迩, 一度曾与江苏“宜兴紫砂壶(器)”齐名天下。但 20 世纪 90 年代中后期生产逐渐萎缩。近年来荣经县引进知名工艺美术大师参与设计, 丰富产品类型, 并将荣经黑砂器与著名的蒙顶山茶整合推广, “茶砂共存”或“茶砂一体”的理念得以不断推广并付诸实施, 又再次受到人们的青睐。2008 年, 荣经黑砂器传统手工制作技艺被列入国家非物质文化遗产。截止 2016 年, 荣经县已注册砂器网店 20 家, 砂器一条街销售门市 50 家, 和茶马古道旅游配套的相关服务项目也已顺利展开。下图甲示意荣经和旄牛道位置略图, 图乙为荣经黑砂器。



甲



乙

(1) 分析古代荣经地区生产黑砂器的区位优势(6 分)。

(2) 推测进入九十年代中后期以后, 荣经砂器生产逐渐萎缩的原因(6 分)。

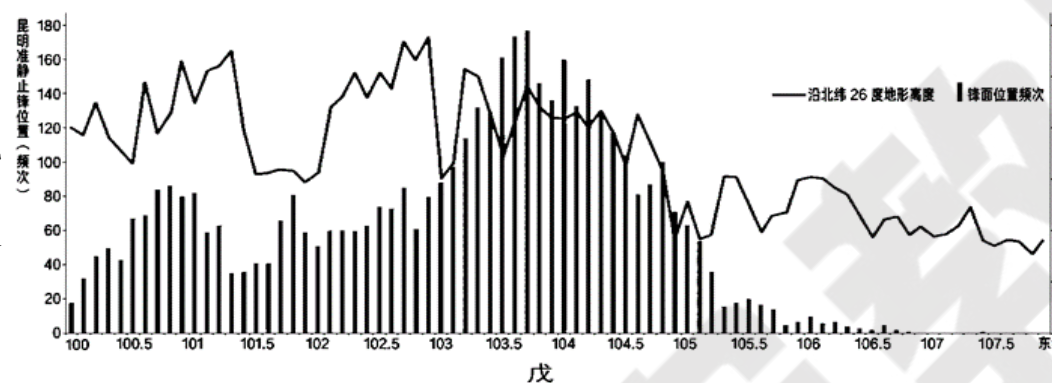
(3) 从资源、生态和环境方面, 说出长久以来的黑砂器生产可能给当地带来的危害(6 分)。

(4) 简述近年来荣经县为黑砂器产业可持续发展而采取的措施(6 分)。

37. 阅读图文材料, 完成下列问题。(22 分)

在云贵高原中部, 每年冬春时节, 北方南下的冷气团和西南方来的暖气团, 在高大地形的东侧坡面上形成对峙状态“静止”下来, 即昆明准静止锋。锋面并非静止不动, 无论是在空间上还是时间上的分布都有一定的规律性。由于冷气团的厚度很难超过 2000m, 地形成为了冷空气向西扩张的阻力, 西南暖气团来到冷气团受阻区域与之相遇, 受阻的区域就成为了准静止锋锋面出现频次最高的区域。昆明准静止锋根据太阳辐射的变化对同一区域而言, 还有“昼伏夜出”(昼伏即东退, 夜出即西进)的特点。图丙、丁是昆明准静止锋锋面

位置和锋面形成示意图, 图戊是昆明准静止锋沿北纬 26 度分布位置频次图。



- (1) 根据图戊, 从经度角度描述准静止锋位置分布频次特征(6 分)
(2) 从地形角度分析准静止锋分布在频次最高区域和最低区域的原因。(6 分)
(3) 根据太阳辐射分析昆明准静止锋在丙图示意的区域“昼伏夜出”的原因。(4 分)
(4) 某些年份一股新的强冷空气南下补充时, 锋面迅速向西南方向移出云南。判断此时锋的类型和云南的天气特征。(6 分)

38. 阅读材料, 完成下列要求。(16 分)

材料一 随着 2022 年北京冬奥会的举办, 人们参与冰雪运动的热情日益高涨。据有关机构预测, 中国冰雪产业的市场规模正发生着巨大变化(如下图)。



(1) 结合材料一, 分析图表反映的经济信息。(4 分)

材料二 2023 年入冬以来, 哈尔滨成为冰雪旅游“顶流”。冰雪旅游业火爆的背后是高质量发展的行动。哈尔滨市政府抓住后冬奥“3 亿人上冰雪运动”和“大众冰雪旅游时代”的契机, 统筹规划了冰雪季七大板块百余项冰雪活动, 利用微信、抖音等策划了“逃学企鹅”、“万人蹦迪”等高流量活动引爆旅游市场。

相关部门开展冰雪旅游“百日行动”。通过数字化提升城市基建和景区建设水平; 重视批评、意见和建议, 放在“显微镜”下研究、解决、改进; 协调公安消防、交通应急、市场监管、宣传网信等部门加大护游力度、加大宣传; “以客为先、以客为尊, 以客为友、以客为亲”, 成为市民的自发行动, 展现了东北人的真诚、热情。

哈尔滨正积极筹备 2025 年亚冬会和建设中国——上海合作组织冰雪体育示范区, 全力打造“冰雪文化之都·双亚冬举办城”的国际化一流冰雪旅游目的地。

(2) 结合材料二, 运用经济生活的有关知识, 分析哈尔滨市政府是如何以高质量发展推动冰雪旅游市场火爆的。(12 分)

39. 阅读材料, 完成下列要求。(12 分)

实施乡村(社区)“法律明白人”培养工程, 是全国“八五”普法规划 4 个专项工程之一。“法律明白人”通常具有较好法治素养和一定法律知识, 经过法治培训, 能够积极开展法治宣传, 带头参与乡村治理。“法律明白人”针对农村常见问题开展法治宣传和矛盾纠纷调解等工作, 在教育引导群众办事依法、遇事找法、解决问题用法、化解矛盾靠法方面发挥着越来越重要的作用。把“法言法语”转化成“乡音土话”, 让村民真正听得懂、学得会、用得上; 及时排查微风险、化解微矛盾, 让小事不出村、大事不出镇; 进村入户了解情况、收集群众法律需求, 让基层治理更精准……“法律明白人”日益成为群众身边的政策法律宣传员、矛盾纠纷化解员、社情民意信息员、法治实践引导员。截至 2023 年 9 月底, 全国已培育“法律明白人”394 万余名, 基本实现“法律明白人”在每个行政村的全覆盖。结合材料, 运用《政治与法治》的知识, 分析实施乡村(社区)“法律明白人”培养工程对推进基层治理体系和治理能力现代化的意义。

40. 2023年10月7日至8日,全国宣传思想文化工作会议在北京召开。会议最重要的成果就是首次提出了习近平文化思想。阅读材料,完成下列要求。

材料一 贯彻习近平文化思想要在真学真懂真信真用、深化内化转化上下功夫。“深化”就不能仅仅满足于“学过了”,而要自觉在理论武装上求深入,思想认识上有新提高。“内化”就不能仅仅满足于“学懂了”,而要真正内化为崇高的理想信念和正确的价值追求,内化为与人民群众同呼吸、共命运、心连心的真挚情感。“转化”就不能仅仅满足于“学好了”,而要切实转化为促进发展的措施。

材料二 习近平文化思想要求巩固壮大奋进新时代的主流思想舆论,着力提升新闻舆论传播力、引导力、影响力、公信力。

国家广播电视总局着眼新时代新的文化使命,在准确把握工作坐标定位基础上履职尽责。坚持意识形态属性,扛起政治责任,推出《中国智慧中国行》等新闻节目,正面宣传中国制度、理论、道路和文化,向世界展现新时代的中国形象;坚持公共服务属性,以人民需求和社会价值为导向,抓好弘扬中华优秀传统文化、彰显中华民族现代文明的作品创作;坚持技术产业属性,用先进技术赋能行业发展,为人民群众提供高品质多样化的视听内容与服务。

(1)结合材料一,运用“求索真理的历程”的知识,说明在“深化、内化、转化”上下功夫所蕴含的哲学道理。(12分)

(2)结合材料二,运用文化生活知识,分析国家广电总局是如何提升新闻舆论“四力”的。(12分)

41. 阅读材料,完成下列要求。(25分)

材料一 西晋末年,持续十六年之久的“八王之乱”尚未完全止息,内迁少数民族军事贵族又起兵反晋,掀起了一场争夺北方统治权的血战,使黄河流域遭到空前惨重的破坏,造成“千里无烟爨之气,华夏无冠带之人”。北方人民只得离开故土,逃亡异乡,形成历史上空前的移民浪潮……西晋末年以来北方人口的迁移浪潮,如果从西晋元康八年算起,历东晋一代,至刘宋大明八年为止,大约持续了160余年。这期间,南渡人口约共有90万,占南朝全境人约540万的1/6,占西晋北方诸州及徐之淮北约700万的1/8。移民浪潮移植了盛行于中原的士族门阀制度,并按魏晋模式在江南地区重建汉族封建政权,并实行若干适应当时形势需要的政策与措施,如侨州郡县制、土断制等,既安顿了北方移民,也促使移民土著化。

——摘编自童超《东晋南朝时期的移民浪潮与土地开发》

材料二 15世纪发现新大陆后,世界人口迁移规模开始扩大。当时的国际移民大多具有资本主义性质。先是西班牙、葡萄牙,接着是荷兰,而后英国、法国开始了开拓美洲的殖民政策。起初,西班牙和葡萄牙殖民者到新大陆的目的主要是掠夺金银财宝,他们占领美洲的巴西、墨西哥等地后,迁入的移民为数不多。一是,因为这两个国家当时的人口很少,比如葡萄牙人口只有150万,不可能提供大量移民。二是,为了独霸美洲的财富,葡萄牙和西班牙的统治者对其他国家的移民施加各种限制。三是,欧洲其他国家的人口当时也不是很多,还未感到人口压力,后来迁到北美的移民,主要是英格兰人、苏格兰人、爱尔兰人、德国人和法国人。最初的移民多是推行殖民统治的殖民者和士兵,接着是一批贫苦劳动者,他们中间有的为了逃避封建压迫和宗教迫害,有的纯粹为了谋生,当然,也有些是为了发财致富冒险来到美洲的。

——摘编自田方、陈一筠主编《国外人口迁移》

(1)根据材料,并结合所学知识,概括魏晋南北朝时期移民的特点,并分析其影响。(12分)

(2)根据材料二并结合所学知识,说明与南宋移民相比,16—18世纪欧洲各国移民美洲的不同之处,并分析这一移民现象产生的影响。(13分)

42. 阅读材料,完成下列要求。(12分)

材料 报刊作为大众传媒的重要形式,起到了传播信息的重要作用。大众报刊在中国近代出现并迅速发展。下表所示为近现代部分报刊及其重要文章节选。

时间	文章节选
1916年 《新青年》	吾可敬可爱之青年诸君乎,倘自认为二十世纪之新青年,头脑中必斩尽涤绝彼老者壮者及比诸老者壮者腐败堕落青年之做官发财思想,精神上别构真实新鲜之信仰,始得谓为新青年而非旧青年,始得谓为真青年而非伪青年。
1937年 《大公报》	中国建国之基础已定,全民族将立于一线上,不容阵线之分立。察最近数月尤其最近数月之发展,证明中国已具备现代国家之基础,即大多数国民能自动的表示其爱国之热诚……‘九·一八’以来,惊涛骇浪,猛袭而来,直至五年后之今日,始得断然表现其新国家面目于世界舆论之前,时虽过晚,而要为中国一大进步也。
1955年 《人民日报》	一九五五年是我国第一个五年计划建设具有决定意义的一年。今年基本建设的工作量将远比过去任何一年为多……苏联政府帮助我国建设的一百四十一项重点工程,已经开工的今年将进入最紧张的施工阶段。这个新的年度在农村合作化方面也是关系重大的。为了完成一九五五年的建设任务,我们必须加强计划性。
1978年 《光明日报》	马列主义、毛泽东思想之所以有力量,正是由于它是经过实践检验了的客观真理,正是由于它高度概括了实践经验,使之上升为理论,并用来指导实践……而理论到底是不是正确地指导了实践以及怎样才能正确地指导实践,一点也离不开实践的检验。

根据材料并结合中国近现代史知识,围绕“报刊”拟定一个论题,并予以阐述。(要求:论题明确,史论结合;表述成文,叙述完整;逻辑严密,条理清晰)

(二) 选考题:共25分。请考生从2道地理题、2道历史题中每科任选一题作答。并用2B铅笔在答题卡上将所选题目对应的题号方框涂黑。按所涂题号进行评分,不涂、多涂均按每科按答第一题评分;多答按每科所答第一题评分。

43. 【地理——选修3:旅游地理】(10分)

“圣地巡礼”,指动漫作品爱好者前往与其爱好作品具有地缘相关性的地域观光,并在过程中感受作品相关文化氛围的旅游活动。某街区为某动漫作品的

取景原型地,为推广“圣地巡礼”游,该街区举办了为期一个月的巡礼活动,该活

分类	具体项目
视觉凝视	在展馆举办动漫原画展
	在展馆悬挂动漫角色道具
	广场晚间播放与动漫作者故乡相关的影片
将某知名连锁便利店暂时改名为动漫里的便利店,店内贩卖动漫相关商品	
听觉凝视	举办一场动漫配音演员访谈及见面会运用互动投影技术,使游客走过展馆内特定的地板时会绽放动漫效果的波纹
触觉凝视	运用互动投影技术,使游客走过展馆内特定的地板时会绽放动漫效果的波纹
味觉凝视	贩卖动漫主题食品
嗅觉凝视	贩卖动漫主题香水

动备受动漫作品爱好者欢迎,但仍有部分爱好者反馈真实性和体验性不足。下表示意巡礼活动项目。

说明该街区“圣地巡礼”活动项目设计的局限性。

44. 【地理——选修6:环境保护】(10分)

黄河铜鱼,俗称鸽子鱼,是半洄游性鱼类,喜欢栖息于河湾及底质多砾石、水流较缓慢的水体中。每年春季洄游至石质河床、水流较急的河段产卵、孵化。黄河铜鱼肉质细嫩鲜美,具有很高的经济价值和较好的养殖前景。近年来,天然的黄河铜鱼种群现状极其濒危。

分析黄河铜鱼濒危的原因并提出保护措施。

45. 【历史——选修1:历史上重大改革回眸】(15分)

材料 亚历山大二世的改革推动了俄国地方自治的发展,实际上地方自治和城市自治的雏形在16世纪中叶就已经形成。从19世纪中叶起,俄国自由派作为一支独立的政治力量登上历史舞台,要求建立地方自治机关来平衡权利,同时要求实行君主立宪制。这一时期,地方事务由国家 and 地方共同管理,双方权限范围没有明确划分,这使得两者产生矛盾冲突。1864年1月1日,俄国政府正式颁布了《关于省级和县级地方自治机关条例》。该条例对省、县地方自治机关管辖的事务进行了总体规定,包括地方经济、国民教育、社会救济、财产保险、工商业发展等方面。依据这一法案规定,省、县地方自治机关可在国民教育、医疗卫生及农业等国民经济领域广泛开展活动,其活动对俄国社会生活产生了重要影响,促进了国民教育的普及,使俄国人口的文化水平得到提高,提高了俄国民众参与地方事务的意识。但在改革过程中,中央与地方的矛盾日益凸显,截止19世纪70年代末,仅有34个省建立地方自治机关。

——摘编自徐晓凤《1864年俄国地方自治改革法案研究》

(1)根据材料并结合所学知识,指出俄国推行地方自治改革的背景。(8分)

(2)根据材料并结合所学知识,概括俄国实施地方自治改革的影响。(7分)

46. 【历史——选修4:中外历史人物评说】(15分)

材料 魏征(580年—643年),字玄成,汉族,唐巨鹿人,幼时失父,家境虽然贫困,但好读书、有大志。隋朝末年,魏征参加了反隋武装,后加入到李建成的部下,玄武门之变后,跟随李世民,先担任谏议大夫,后逐渐成为丞相。魏征在前人思想的总结上,给予重新概括以及有效的整合,系统地提出了一些治国思想,对于当时来说,具有一定的现实以及创新意义。魏征认为统治者应该要牢记前车之鉴,“居安思危,戒贪以俭”。在使用民力上,应该适可为止,“薄赋敛,轻租税”“含养百姓”。统治者应该亲近君子,注重考查官员个人品德,同时以君臣互信、尊重臣子、公平赏罚的原则推动明君贤臣政治佳话的实现。魏徵还具有直言敢谏和廉洁自律的政治品质,在唐朝及唐朝之后都产生持续性影响,唐朝及之后的统治阶级对魏徵的治国理念和品德修养持肯定赞赏的态度,魏徵在政治上取得的成就也

深为后人追慕，是一代代文人士子追求政治理想道路上的楷模。

——摘编自王筱惠《魏征治国理念研究》

(1) 根据材料并结合所学知识，概括魏征治国思想的内容。(8分)

(2) 根据材料并结合所学知识，归纳魏征的历史贡献。(7分)



锦宏教育
Jinhong Education