

高 2024 届二诊模拟文科综合测试

考试时间：150 分钟 总分：300 分

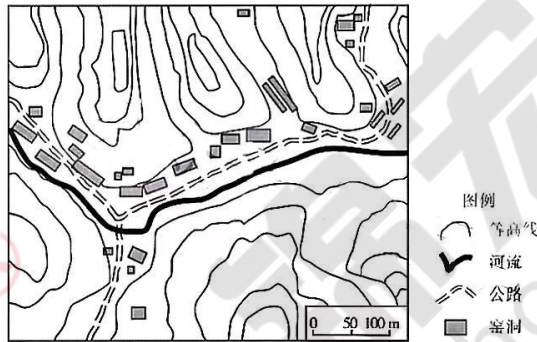
第 I 卷

本卷共 35 题，每题 4 分，共 140 分。在每题给出的四个选项中，只有一项是最符合题目要求的。

宜兴紫砂陶始于北宋，使用紫砂泥料制胚，采用传统柴烧技艺烧制而成，其色泽变化多端、自然古朴，备受人们青睐。近些年来，现代汽烧炉灶取代了传统柴烧技艺，温度和时间易于控制，产品质量更加易于把控，但是色彩不够丰富。据此完成 1~2 题。

1. 北宋宜兴紫砂陶产品色泽变化多端是因为（ ）
 - A. 天气多变
 - B. 温度不稳定
 - C. 燃料不足
 - D. 生产过程繁杂
2. 近些年来，现代汽烧炉灶取代传统柴烧技艺的主要生态效益（ ）
 - A. 减少大气污染
 - B. 扩大就业机会
 - C. 提高烧制技艺
 - D. 保护森林资源

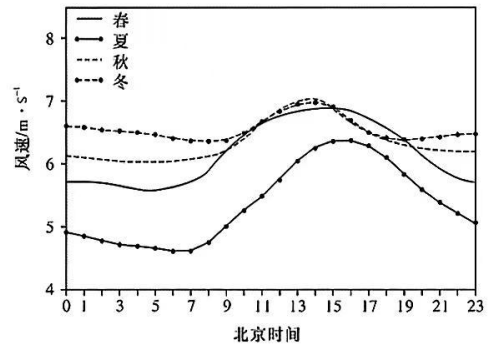
窑洞是黄土高原上广泛分布的传统民居。陇东庆阳当地居民完整保留了传统窑洞的居住形式，具有十分独特的民俗文化和民族风情。下图示意陇东庆阳左家畔村黄土窑洞分布。据此完成 3~5 题。



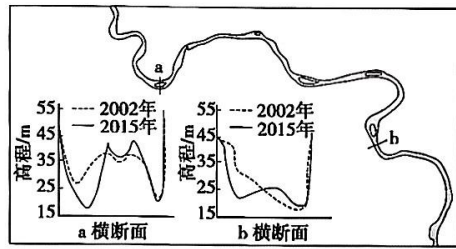
3. 庆阳左家畔村黄土窑洞沿河谷布局的理由是（ ）
 - A. 土质疏松
 - B. 就地取材
 - C. 气候湿润
 - D. 交通便利
4. 黄土窑洞可能存在的问题是（ ）
 - A. 通风效果差
 - B. 建筑面积小
 - C. 修建成本高
 - D. 危险系数大
5. 解决黄土窑洞存在问题的合理措施是（ ）
 - A. 增大窗户面积
 - B. 窑洞上开天窗
 - C. 抬高窑洞地基
 - D. 洞口开向西北

“风光水火储一体化”以大型火电或水电基地为基础，采取风能、太阳能、水能、煤炭等多种能源发电互相补充，适度增加一定比例储能，对各类能源进行统筹。下图为某省四季平均风速日变化曲线图。据此完成 6~8 题。

6. 该省风力发电的最佳季节是（ ）
 - A. 春季
 - B. 夏季
 - C. 秋季
 - D. 冬季
7. 在“风光水火储一体化”发电项目设计中，对电网起调峰作用的是储能设施与（ ）
 - A. 水电站
 - B. 火电站
 - C. 风力电站
 - D. 光伏电站
8. 建设“风光水火储一体化”项目最有优势的省份是（ ）
 - A. 黑
 - B. 川
 - C. 内蒙古
 - D. 浙



长江流域某河段受上游水库运行、“清水”下泄影响，2015年枯水期最低水位呈下降趋势。下图示意该河段及河段内2个水文站的横断面(河床剖面)。据此完成9~11题。



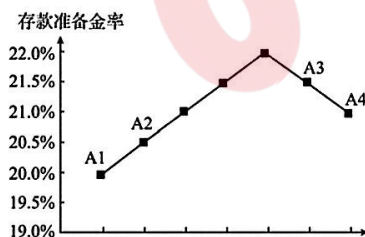
9. 造成该河段枯水期最低水位下降的主要原因是 ()
- A. 上游水库蓄水 B. 河段蒸发加剧 C. 河流下切侵蚀 D. 流域降水减少
10. 上游水库建成后，该河段枯水期沉积物颗粒数量变化及原因是 ()
- A. 增多 水量减少，沉积作用增强 B. 增多 水流速度加快，侵蚀作用增强
- C. 减少 水量增加，侵蚀作用增强 D. 减少 河床变深，与下游高差减小
11. 该河段枯水期常出现新增浅滩碍航现象，为维持枯水期河流航道的正常运行，可采取的措施是 ()
- A. 丰水期放水冲淤，扩展航道宽度 B. 加固河漫滩边坡，稳定航道宽度
- C. 流域内植树造林，减少泥沙淤积 D. 跨流域调水入江，增加河流流量

12. 中小企业发展指数是反映中小企业经济运行状况的综合指数。2023年一季度，中国中小企业发展指数为89.3，比上季度上升1.3点，且达到了2021年二季度以来最高水平。结合图中小企业发展指数各分项指数的状况，我们可以推断，当前我国中小企业 ()

分项指数	2022年第四季度	2023年第一季度	涨幅
宏观经济感受指数	96.5	99.9	↑ 2.5
综合经营指数	95.4	97.4	↑ 2.0
市场指数	79.9	81.3	↑ 1.4
成本指数	112.7	113.4	↑ 0.7
资金指数	100.6	101.3	↑ 0.7
劳动力指数	105.3	106.3	↑ 1.0
投入指数	81.7	83.2	↑ 1.5
效益指数	73.0	74.6	↑ 1.6

- ①发展信心继续回升 ②效益状况有所改善 ③经营成本略微下降 ④产业结构优化升级
- A. ①② B. ①③ C. ②④ D. ③④
13. 近年来，我国许多地方大力发展“土特产”，让“小产业”成为大支柱。比如，陕西洛川县打造集销售、包装、物流于一体的苹果现代产业园，2022年苹果总收入达70亿元；在广东新会，陈皮产业已形成药、食、茶、健、文旅等上百个系列品种，相关产业规模上百亿元。两者成功的共同点在于 ()
- ①扩大特色农产品生产规模，提升农产品附加值 ②运用科技提高农业劳动生产率，实现降本增效
- ③注重品牌建设，增强区域特色产品市场竞争力 ④延伸和拓展农业产业链，培育经济发展新动能
- A. ①② B. ①④ C. ②③ D. ③④

14. 存款准备金是指金融机构为保证客户提取存款和资金清算需要而准备的在中央银行的存款，中央银行要求的存款准备金占其存款总额的比例就是存款准备金率。下图为某国大型金融机构近两年存款准备金率变化情况。对此解读正确的是 ()



- ①从A1到A2：优化银行信贷结构，更好服务实体经济
- ②从A1到A2：降低银行的流动性，防范化解金融风险
- ③从A3到A4：提高银行贷款利率，增加银行经营收入
- ④从A3到A4：扩大银行放贷规模，缓解企业融资困难
- A. ①③ B. ①④
- C. ②③ D. ②④

15. 2024年2月，国家相关部门下发2023年增发国债第三批项目清单，共涉及项目2800多个，安排国债资金近2000亿元，主要包括以京津冀为重点的华北地区等灾后恢复重建和提升防灾减灾能力，自然灾害应急能力提升工程等，甘肃、青海灾后恢复重建等领域。此举对我国经济产生的影响传导正确的是（ ）

- ①增加地方减灾救灾领域的财政支出 ②保障地方防灾减灾等重点工程建设
③中央加大对地方政府财政转移支付 ④提升避险能力，维护人民生命安全
A. ①→②→④→③ B. ①→③→②→④ C. ③→①→②→④ D. ③→④→①→②

16. 2023年Y市望鱼镇沙坪村村委会推行党员定向联系群众制度，动员全村110多名党员，先后走访基层群众3000余户次，收集村务意见建议100余条，化解矛盾纠纷80余起，多渠道公开村务事项超过100条，群众满意率达90%以上。这一举措的作用在于（ ）

- ①丰富基层治理形式，提升乡村治理效能 ②完善权力监督体系，促进基层政权履职
③发挥党员模范作用，践行党的根本宗旨 ④创新基层自治组织，提高民主管理水平
A. ①② B. ①③ C. ②④ D. ③④

17. 2023年全国人大修订的立法法规定，全国人大常委会工作机构根据实际需要设立基层立法联系点，深入听取基层群众和有关方面对法律草案和立法工作的意见。省、自治区、直辖市和设区的市、自治州的人大常委会根据实际需要设立基层立法联系点，深入听取基层群众和有关方面对地方性法规、自治条例和单行条例草案的意见。上述规定意在（ ）

- ①厘清中央和地方立法权边限，维护国家法治统一 ②保障公民立法权，提升我国社会治理法治化水平
③完善立法的体制机制，推进民主立法、科学立法 ④发展全过程人民民主，夯实法治国家的社会基础
A. ①② B. ①④ C. ②③ D. ③④

18. 2022年以来，某市大力推动民族工作创新，取得了积极成效。市乡村振兴局选派的驻村工作队，扎实推动民族地区高质量发展；市交通运输局统筹推动农村公路建设，民族地区建制村100%通硬化路；市科技局将民族地区“科技创新+乡村振兴”纳入全市科技体制改革三年行动计划。上述举措的积极作用在于（ ）

- ①夯实民族团结的物质基础 ②促进各民族交往交流交融
③保障少数民族群众自治权 ④消除各民族间的发展差距
A. ①② B. ①③ C. ②④ D. ③④

19. 2023年9月，习近平总书记深刻阐释了教育家精神的具体内涵，即心有大我、至诚报国的理想信念，言为士则、行为世范的道德情操，启智润心、因材施教的育人智慧，勤学笃行、求是创新的躬耕态度，乐教爱生、甘于奉献的仁爱之心，胸怀天下、以文化人的弘道追求。教育家精神（ ）

- ①丰富了中华民族精神的基本内涵 ②承袭了我国的传统教育教学理念
③彰显了教育工作者的初心和使命 ④提供了队伍建设的基本遵循
A. ①② B. ①③ C. ②④ D. ③④

20. 近年来，设立在街道、社区中的公益图书馆，免费为周边居民提供了学习、阅读、休闲的便利，打通了公共图书资源供给的“最后一公里”，成为附近居民尤其是年轻人的新宠。此举意在（ ）

- ①提高居民素养，推动社会精神文明建设 ②发展文化事业，保障人民基本文化权益
③繁荣文化市场，满足人民美好生活需要 ④创新文化体制，引领文化建设前进方向
A. ①② B. ①③ C. ②④ D. ③④

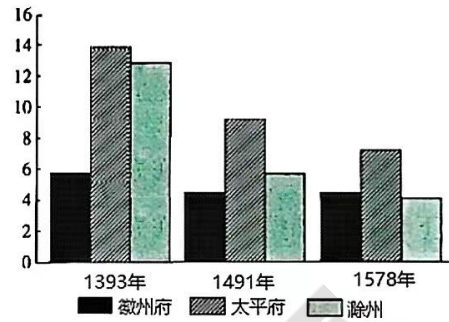
21. 2024年2月7日，我国第五个南极考察站秦岭站正式开站，该站填补我国在太平洋扇区长期观测的空白，从1984年我国首次南极考察至今，近四十年的考察研究，40次考察队出征，攻克了一个个难关，填补了一项空白，一代又一代考察队员接力奔向南方。对此认识正确的是（ ）

- ①量的持续积累必然引起事物的飞跃 ②事物变离离不开人主观能动性的发挥

27. 右图为明代安徽部分府州人均田地数统计（单位：亩）。

这反映出，该地区（ ）

- A. 人地矛盾不断加剧
- B. 土地兼并现象严重
- C. 农业生产出现衰退
- D. 可用耕地逐步减少



28. 下表是不同时期中国学者对于“中国”的解释。这反映出（ ）

著作	作者	时期	观点
《中国论》	石介	北宋	“居天地之中者曰中国，居天地之偏者曰四夷”
《清朝文献通考》	张廷玉	清朝	“中土居大地之中，瀛海四环”
《海国图志》	魏源	晚清	中国之所以为中央之国，并非地理居中，而是由于“谓其天时适中”（地球的温带）

- A. 官方对世界局势认知逐渐清晰
 - B. 中国中心观念开始确立并完善
 - C. 士人阶层已抛弃华夷尊卑心理
 - D. 晚清时传统的中国观发生变化
29. 鸦片战争后，先进的中国人努力寻找救国之路，出国留学逐渐形成热潮。20 世纪初，有志青年大多选择学习社会政治学说和军事专业，而民国初年大多选择工程、农林、医学、物理、化学等专业。这一变化的主要原因是（ ）
- A. 人们对西方文化认识加深
 - B. 官员选拔制度的变化
 - C. 第二次工业革命深刻影响
 - D. 建设新型国家的需要
30. “工合运动”是抗战时期以合作社方式在大后方从事工业生产的群众性经济互助救亡运动。工合组织协会先后组成了二千多个生产合作社，其业务涵盖制革、造纸、制瓷、针织、棉纺、机器、化工等各种门类。该运动的发展（ ）
- A. 奠定了抗战胜利的物质基础
 - B. 推动了战时工业的内迁进程
 - C. 积累了发展国营经济的经验
 - D. 加速了官僚资本的恶性膨胀
31. 1982 年，深圳政府率先实行价格闯关，调高主要农副产品收购价格，扩大差价，对企业下放定价权和实行一定幅度的浮动价格。这项制度（ ）
- A. 建立起社会主义市场经济体制
 - B. 全面开启了城市经济体制改革
 - C. 改变了所有制形式和分配制度
 - D. 打破了计划经济管理体制束缚
32. “要式口约”是当事人双方自愿通过口头问答而达成的正式契约。但是罗马法禁止赌博，因此，关于赌博所赢金额的“要式口约”无效。这表明，罗马法（ ）
- A. 注重保护个人权利
 - B. 推崇诚信的价值观
 - C. 具有人治主义色彩
 - D. 关注社会精神文明
33. 亚瑟王传说是公元 5 世纪时的英格兰国王，他是否真实存在过，至今尚有争议。但他的事迹在 12 世纪以后被吟游诗人不断地传颂，其中公认的集大成作品为 15 世纪的《亚瑟王之死》，在这些作品中他被塑造为统一不列颠群岛的具有骑士精神的完美君主。这一现象（ ）
- A. 反映了英国人民强化王权的愿望
 - B. 体现资产阶级的时代诉求
 - C. 适应了民族国家意识形成的需要
 - D. 深受文艺复兴运动的影响

34. 马克思、恩格斯指出：资本主义大工业打破了中世纪自然经济的地区分割、闭关自守状态，形成了统一的世界市场；资本主义生产已不是一国范围的生产，资本家剥削的也不只是本国工人；各国资产阶级基于共同利益，在反对无产阶级方面是彼此一致和相互支持的。这一论断（ ）

- A. 丰富了无产阶级专政学说
- B. 强调了各国支持法国巴黎公社的合理性
- C. 突出了阶级斗争的残酷性
- D. 揭示了全世界无产者联合斗争的必要性

35. 1964年勃列日涅夫上台后，施行“缓和”外交政策。成功组织了“欧洲安全与合作会议”，顺利解决了欧洲边界问题和柏林危机问题。美国受困于越南战争，也提出了“和平演变”的战略。这说明（ ）

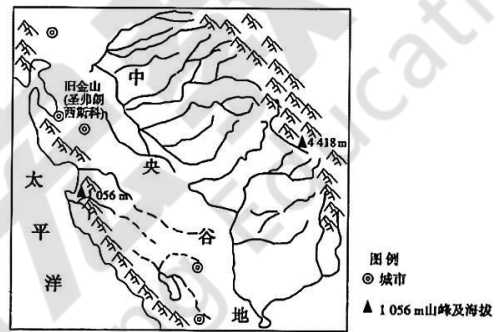
- A. 和平与发展成为时代主流
- B. “冷战”方式有了新内容
- C. 美苏由对峙走向合作
- D. 苏攻美守局面的形成

第II卷

本卷包括必考题和选考题两部分。第36~42题为必考题，每个试题考生都必须作答。第43~47题为选考题，考生根据要求作答。

36. 阅读图文材料，完成下列要求。(24分)

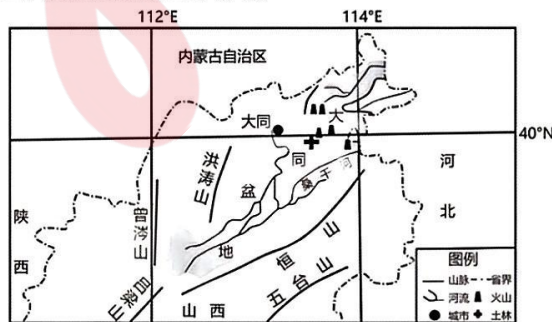
美国加州位于美国西部，中央谷地土壤肥沃，发达的灌溉技术使其成为美国第一大农产品生产州，其水果、蔬菜、坚果产量占美国总产量的一半以上，该地还是世界是最优质车厘子的产区之一，但是受水果本身的特征影响，该地水果采摘依然需要大量的劳动力。右图示意加州地形。



- (1) 从地质作用的角度，分析中央谷地土壤肥沃的原因。(6分)
- (2) 加州是美国著名的水果、蔬菜之乡，简析加州盛产优质果蔬的有利气候条件。(6分)
- (3) 与美国相比，说明中国水果的市场优势。(6分)
- (4) 提出缓解加州水果采摘时期劳动力缺乏的有效措施。(6分)

37. 阅读图文材料，完成下列要求。(22分)

土林是一种由河湖相土状堆积物塑造的如塔如林的地貌。大同土林是我国土林地貌发育最典型的地区之一，因位于地平线以下而闻名。大同土林由千姿百态的土柱、土岭、土台等地貌组成，其物质来源复杂，颜色、岩性各异。土林中植被稀疏，低矮的草本植物可将土林顶部的土体固结在一起。一种特有的灌木——树梅，枝叶繁茂，根系发达，对土林的形成和消亡起重要作用。推测再过几百年，大同土林会烟消云散，化作满沟沙砾。下图示意大同土林地理位置及土林景观。



- (1) 据材料推测大同土林沉积物的来源。(6分)
- (2) 据材料简述大同土林形成的地质过程。(6分)
- (3) 试以自然环境的整体性原理,分析树梅在土林的形成和消亡过程中所起的作用。(6分)
- (4) 结合土林的发育过程,为保护大同土林提出合理建议。(4分)

38. (14分) 阅读材料,完成下列要求。

2024年2月,“科技小院”一词首次写入中央一号文件。

河北省曲周县是典型的浅层咸水型盐渍化低产地区。2009年,中国农业大学在该地探索成立科技小院,把课堂和实验室搬到田间地头,以“研究生+农民+合作社+产业”的运作模式帮助农民解决农业生产中的具体问题。当地政府集中流转土地,将其交给种植大户和合作社运营,由科技小院提供技术支持。科技小院在当地推广“三密一疏”小麦耕作模式,配合北斗导航无人驾驶技术,使小麦亩均增产50公斤;依托当地蛋鸡养殖企业打造“龙头企业+养殖小区+绿色品牌”,引进全链条技术实现蛋鸡绿色养殖;创造出如田间观摩会、科技广播等形式多样的农技推广方法,培养了大批“知农爱农”新型人才;高产高效技术采用率大幅提升,增加农民收入4000万元以上。曲周县走出了一条高校与农村深度融合、科技与产业紧密联结的新路子,找到了撬动乡村振兴的新支点。

结合材料,运用经济生活所学知识,分析说明曲周县“科技小院”是如何助力乡村振兴的。(14分)

39. (12分) 阅读材料,完成下列要求。

党的二十大报告指出,要积极发展基层民主,健全党组织领导的基层群众自治机制。

某区推动将党的领导和党的建设写入居民自治组织、业主委员会、物业公司等章程规则,落实社区各类组织向党组织述职、重大事项汇报制度,推行区、街道、社区党建工作联席会议机制,强化基层党组织在城乡基层各类组织中的领导作用。

摸索建立了“325”基层治理工作机制,即发挥社区党组织轴心作用、基层网格主力军作用、提升群众助力效能,强化社区三种耦合力量;依托“群众汇报会”和“协商议事会”两个居民自治平台,进一步激活社区微细胞,提升自治新动能;坚持为民、便民、安民,推进“民忧菜单”、完善“民情地图”、制定“民意闹钟”、设立“民声板凳”、交付“民心钥匙”等五大基层治理项目,将治理重心下移到小区、服务触角延伸至楼栋,切实解决居民实际需求,让广大群众切实感受到党的温暖。

结合材料,运用政治生活知识,说明构建党建引领的基层治理格局对提升基层治理效能的意义。(12分)

40. (26分) 阅读材料,完成相关要求。

习近平文化思想提出:“中华优秀传统文化是中华民族最独特的精神标识和最重要的精神命脉,要推动中华优秀传统文化创造性转化和创新性发展。”

材料一 2023年11月,央视打造的《宗师列传·唐宋八大家》成为传统文化类节目的又一大亮点。节目创造性地把视角放到了宗师们“千古名篇”诞生的背后故事,以八位文化宗师波澜壮阔的人生故事为线索,通过“沉浸式实景演绎+电影化拍摄+XR创新呈现”的节目模式,揭秘一代宗师磅礴跌宕的人生故事,直击传承千载的“唐宋名篇”诞生的历史瞬间。整季节目打造近200个实体场景,以电影级的高质感,生动还原了八位宗师的生活场景。多位专家学者组成探访团,首次完成古装实景穿越,古今“双向穿越”的巧思,为观众营造了“文心相通、古今共鸣”的文化磁场,实现传统与现代的有机衔接。专家与主持人一起现场讲解,为观众带来生动注释,带领观众一同探寻一代宗师信念与追求的起点,让观众真切了解到《马说》《师说》《原道》《醉翁亭记》等传世名篇诞生的伟大瞬间。观众通过节目领略到诗词歌赋的魅力,感受到古人对生活的热爱和对理

想的追求，唤醒了植根于观众心中的文化记忆，让古文化的魅力得以焕发新的生机。

材料二 人民至上，既是对马克思主义人民立场和人民群众观点的高度凝练概括，更是中华优秀传统文化民本思想的承传与创新。《尚书·五子之歌》记载“民惟邦本，本固邦宁”，孟子呼吁“得民心者得天下”。历经时代更迭，董仲舒提出“天立王以为民”，黄宗羲认为“天下为主，君为客”，直到孙中山提出“三民主义”政治主张，传统民本思想体系更加完善。中国共产党人接过历史的接力棒，始终以人民群众为社会实践的主体、社会物质财富和社会精神财富的创造者、社会变革的决定力量，以马克思主义政党为人民维护自身根本利益而由其中先进分子组成的政治集团，坚持来自人民、植根人民，贯彻人民的意志，忠实为人民服务，紧紧依靠人民去创造历史伟业。坚持人民至上，是新时代新征程中国共产党继承和弘扬中华优秀民本思想，带领依靠全体人民实现中华民族伟大复兴。

(1) 该节目是推动中华优秀传统文化创造性转化和创新性发展的成功案例，运用文化生活知识并结合材料一分析其成功的原因。(10分)

(2) 结合材料二，运用社会存在和社会意识辩证关系的知识，说明中国共产党人在新时代让传统“民本”思想彰显时代价值的意义。(12分)

(3) 某校将开发以传承中华优秀传统文化为主题的系列校本课程，请你按照下列要求为该校设计两项相关课程。(4分)

(要求：简要写出课程名称及其主要内容。示例：国家博物馆之旅：介绍国家博物馆的珍宝及其背后的故事，并开展研学实践。)

41. 阅读材料，完成下列要求。(25分)

材料一 拜占庭人不仅继承了罗马帝国中央集权制的政治遗产，以罗马帝国正统继承者的身份保持了一帝国的政治体制，而且在皇帝专制统治、《罗马民法大全》等诸多方面坚持了欧洲地中海上古政治遗产，并有所发展。为了治理众多古代族群，帝国政府始终维系着庞大且完善的官僚国家体制，其核心是集政治经济、军事外交、社会司法、宗教文化各种最高权力于一身的皇帝专制中央集权。7世纪至12世纪推行军区制，以农兵制、军政合一为重要特点，并由将军对行政区域及其军队进行管理，对扭转拜占庭危急局势起了重要作用。拜占庭人成功打造了包括整个东欧世界的拜占庭文明圈，并将各个斯拉夫族群纳入其中，其影响至今犹存。

——摘编自陈志强《欧洲中古史视阈中的拜占庭帝国》

材料二 隋唐统治者系统地总结了秦汉以来的旧制，革弊创新，极大地加强了国家的控制能力，从而使皇权进一步加强。唐朝完备三省六部制、科举制，监察机构和制度趋于完善，在内地地方实行道州县三级制，在边疆设立都护府、都督府进行管理，在少数民族地区实行羁縻州府制度，唐玄宗开元年间改行募兵制，军队职业化、专业化，设立节度使，制定《武德律》《贞观律》等，很重视礼制的建设，直接促成了中华法系的形成。唐人对传统文化、少数民族文化以及外来文化都抱有包容的态度，从而造就了光辉灿烂的唐文化，传入日本、朝鲜等东亚国家，形成一个以中国为文化源的中华文化圈。

——摘编自曹大为、赵世瑜等主编《中国大通史》

(1) 根据材料一、二并结合所学知识，概括拜占庭帝国与唐朝在国家治理上的异同。(15分)

(2) 根据材料一、二并结合所学知识，简析拜占庭帝国与唐朝国家治理共同的历史价值。(10分)

42. 阅读材料，完成下列要求。(12分)

材料 国际组织是现代国际生活的重要组成部分，是国际社会为了适应国家之间的交往日益频繁，交往的领域和地区不断扩大而成立的国际性组织。

19 世纪中期以来部分重要国际组织一览表

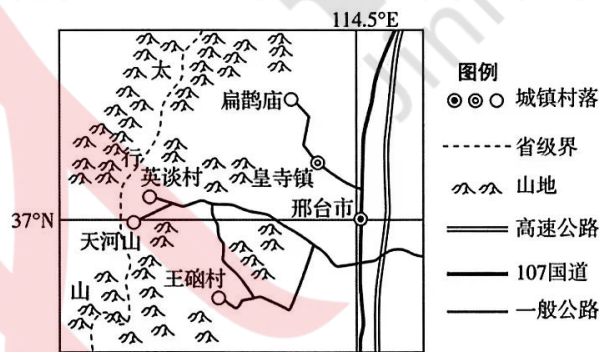
名称	成立时间	宗旨/职能
国际电信联盟	1865 年	促进全球电信发展
万国邮政联盟	1874 年	组织和改善国际邮政业务
国际汽车联合会	1904 年	推动汽车工业发展
国际公共卫生局	1907 年	全球疾病预防与控制事务
国际联盟	1920 年	维护世界和平、和平解决国际争端
国际民用航空组织	1944 年	促进全世界民用航空安全、有序的发展
联合国	1945 年	维护世界和平
世界银行	1945 年	促进经济恢复和发展
国际货币基金组织	1945 年	稳定各国汇率
世界卫生组织	1948 年	使全世界人民获得尽可能高水平的健康
石油输出国组织	1960 年	亚非拉石油生产国协调石油政策、反对西方石油垄断
不结盟运动	1961 年	第三世界国家争取民族独立，反对霸权主义
世界贸易组织	1995 年	促进贸易自由化

从表中提取两项或以上相互关联的信息，围绕“国际组织”，自拟一个论题，并结合所学知识予以阐述。
(要求：论题明确、史论结合、逻辑严密、表述通畅。)

(二) 选考题：共 25 分。请考生从 2 道地理题、3 道历史题中每科任选一题作答。如果多做，则每科按所做的第一题计分。

43. [地理选修 3：旅游地理] (10 分)

王硖村地处河北省邢台市沙河市西南部，太行山东麓，以古石楼群闻名于世。全村现存完好的古院落 130 余处，石楼建筑面积达 72000 多平方米，有大小楼房 100 多栋，房屋 2000 多间，这里的古石楼建筑融合了南北风格，是我国目前保存较为完整的古代建筑群落之一。下图示意王硖村的地理位置。



简述王硖村在发展旅游业的过程中应如何保护古村落。

44. [地理——选修 6：环境保护] (10 分)

“夏秋一水连天，冬春荒滩无边”，独特的湖泊湿地景观和生态格局，使得鄱阳湖湿地植被群落在空间上沿地面高程梯度呈明显的地带性分布，成为候鸟理想的越冬地。据统计，鄱阳湖受入湖河流和长江干流影响，历史上多年平均年入湖沙量大于多年平均年出湖沙量，表现为淤积状态。但 2001 年以后，由于三峡工程的建成和湖区采砂活动等的影 响，鄱阳湖年出湖沙量明显超过年入湖沙量，表现为净冲刷状态。

分析 2001 年以后鄱阳湖年出湖沙量超过年入湖沙量的原因及其对湖区越冬候鸟的危害。

45. 【历史——选修1:历史上重大改革回眸】(15分)

材料 辽朝建立时,正值中原地区战乱频仍,“幽涿之人多亡入契丹”。“阿保机率汉人耕种”,“汉人安之,不复思归”。落后的畜牧业经济,越来越不能适应辽朝在政治、军事上的要求及对被征服地区的统治。辽圣宗(在位时间 983~1031年)即位后,积极进行农业改革。他多次下诏,令“诸道州长吏督民”,规定“军中无故不得驰马,及纵诸军践南境桑果”,使民人皆以耕粟为本;统和七年(989年)辽圣宗发布了“禁部从伐民桑梓”的命令,“诏诸军官毋非时畋猎妨农”。他下令将官帐奴隶改编为部民,对于降服的外族,不再编为宫帐奴隶,直接置部统治;命以移民、募民以及许民“请业荒地”等办法,招徕闲散劳动力,扩大耕地面积,并规定凡垦荒者在一定年限内可免除赋税,从而恢复了因战争而遭破坏的农业经济。

——摘编自黄吉连《辽圣宗改革促进契丹农业发展和进步》

- (1) 根据材料并结合所学知识,概括辽圣宗农业改革的主要内容。(8分)
- (2) 根据材料并结合所学知识,分析辽圣宗农业改革的意义。(7分)

46. 【历史——选修3:20世纪的战争与和平】(15分)

材料 1914年爆发第一次世界大战之时,资本主义大国已发展到帝国主义阶段。交战方均以重新瓜分世界和争夺全球霸权为最终目标。由于时代背景的变化,长期阵地战的僵局摧毁了他们速战速决的侥幸心理,长期消耗的总体战又将各国的全部国力及其殖民帝国也卷入其中,使整个社会基础受到了空前重创。大战的爆发和战争的长期化,使全世界饱受战乱之苦的普通大众对和平社会有强烈的期待,导致世界和平运动大大发展。与此同时,几乎所有交战国和中立国的政治家都认为“欧洲协调”已崩溃,应建立一个国际常设组织来防止战争爆发。正如华尔脱斯所说:“各国必须找出某种办法来保证以后不会再有这种事发生。这就是促使国际联盟成立的有效的原动力和动机。”

——摘编自徐蓝《第一次世界大战与欧美和平运动的发展》

- (1) 根据材料并结合所学知识,概括一战后和平运动发展的历史背景。(8分)
- (2) 根据材料并结合所学知识,简析一战后和平运动发展的影响。(7分)

47. 【历史——选修4:中外历史人物评说】(15分)

材料 陈光甫,江苏镇江人,早年留学美国,1915年创办上海商业储蓄银行。他一开始就把“注重储蓄”放在首位,以社会大众为服务对象,彻底告别“官商”办银行的传统,同时还推出了诸多中国首创的银行新服务,使其银行迅速发展壮大。陈光甫非常注重向民族工业放款,以利其发展,张謇的大生集团,荣宗敬、荣德生的申新集团都是其放款大户,并曾帮助申新纱厂渡过最严重的危机。1935年,国民政府实施币制改革,陈光甫受邀赴美与财政部斡旋,达成“白银协定”,以利于稳定法币信用,也为国民政府储备了抗战的财力。1938年底,陈光甫再赴美国,与美国商人达成“桐油贷款协议”和“华锡借款协议”,获得5000万美元贷款,用于购买汽车和改善滇缅公路运输,并采购了大量军需物资。国民政府致电陈光甫说:“借款成功,全国兴奋。从此抗战精神必益坚强,民族前途实利赖之。”

——摘编自邹高《“中国摩根”陈光甫》等

- (1) 根据材料,概括陈光甫在金融业领域的贡献。(9分)
- (2) 根据材料并结合所学知识,说明陈光甫身上所蕴含的精神品质。(6分)