

## 成都石室中学高 2024 届“一诊”模拟考试

## 文科综合能力测试

## 注意事项：

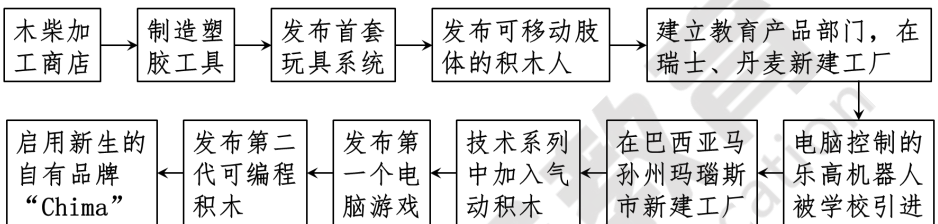
1. 答卷前，考生务必将自己的姓名、准考证号填写在答题卡上。

2. 回答选择题时，选出每小题答案后，用铅笔把答题卡对应题目的答案标号涂黑。如需改动，用橡皮擦干净后，再选涂其他答案标号。回答非选择题时，将答案写在答题卡上，写在本试卷上无效。

3. 考试结束后，将本试卷和答题卡一并交回。

**一、选择题：本题共 35 小题，每小题 4 分，共 140 分。在每小题列出的四个选项中，只有一项是符合题目要求的。**

乐高积木发源于丹麦，历史悠久，在欧洲和北美发展水平较高。乐高积木可以构建出许多不同的形态，让全世界的积木爱好者为之着迷。2016 年，乐高公司在我国浙江开设其在亚洲的第一座玩具工厂。下图为乐高公司的发展历程示意图。完成下面 1~3 小题。

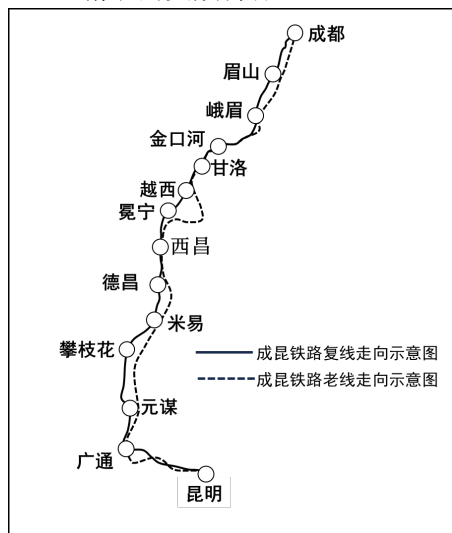


1. 乐高公司在我国建厂的主要目的是 ( )
  - A. 节省劳动力成本
  - B. 扩大市场范围
  - C. 方便采购原材料
  - D. 节约运输成本
2. 推测乐高积木在亚洲流行时间晚于欧洲和北美主要是因为其在亚洲 ( )
  - A. 受电子游戏冲击
  - B. 技术标准不达标
  - C. 科技创新能力低
  - D. 品牌认知度较低
3. 与其他玩具相比，乐高积木很难被复刻主要是由于 ( )
  - A. 高昂的加工成本
  - B. 质量上乘的材质
  - C. 丰富的设计理念
  - D. 精准的受众群体

2022 年 12 月 26 日早上 8 时 05 分，成昆铁路复线成都至西昌首趟动车从成都南站开出，这不仅标志着全长 915 公里的成昆铁路复线全线通车，也意味着刚全面脱贫的凉山州迈入动车时代。成都至西昌的时间由老线绿皮火车的十多个小时缩短为动车的 2 小时 55 分。动车开通后，老线上仍保留了一对沿途穿越大凉山腹地，大小站都要停靠，时速不到 40 公里，最低仅 2 元票价的慢火车。完成下面 4~5 小题。

4. 成昆铁路复线开通动车给凉山州带来的直接影响是 ( )

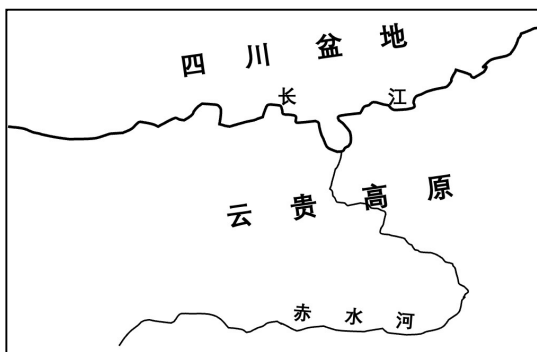
- A. 助推旅游产业提质增量
  - B. 助力农特产品快速出州
  - C. 促进第二产业高质发展
  - D. 打通南下出海直通出口
5. 动车开通后，成昆铁路老线依然保留了一对慢火车的主要目的是 ( )
- A. 吸纳沿线更多的客源
  - B. 让游客能体验慢火车
  - C. 维护列车低运营成本
  - D. 为沿线人民提供便利



赤水河发源于云南省乌蒙山，注入长江，史料记载：赤者，流卷泥沙，水色浑赤，河以之名也，但是河水也有清澈的时候，中国名酒茅台酒厂选址于此地，每年等待高粱成熟时取水酿酒，下图为赤水河流域简图。完成下面6~8题。

6. 赤水河呈赤色时期，影响该区域的大气环流是（ ）

- A. 准静止锋
- B. 暖湿季风
- C. 东北信风
- D. 副热带高压带



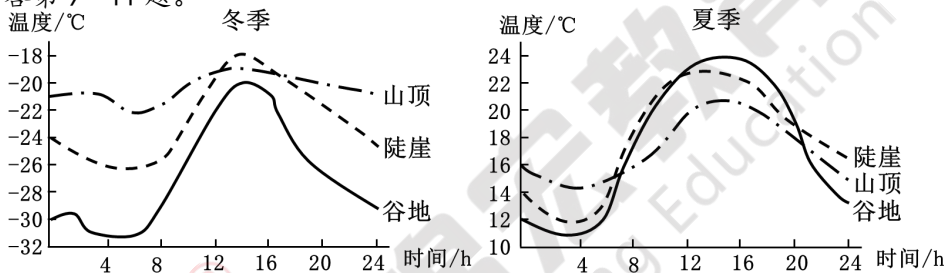
7. 与赤水河呈赤色时期比，清澈时期（ ）

- A. 流速快
- B. 流量大
- C. 流域面积小
- D. 地下水补给多

8. 茅台酒厂取水酿酒的月份最有可能是（ ）

- A. 1月
- B. 6月
- C. 10月
- D. 12月

气温日较差反映了一个地区气温的日变化，是一天中气温最高值与最低值之差。太阳辐射、地表性质和空气运动等对气温日较差大小有明显的影响。下图为我国某地三种中小地形（山顶、谷地和陡崖）的气温日变化曲线。据图文资料，回答第9~11题。



某地不同地形的气温日变化

9. 关于该地气温日变化描述正确的是（ ）

- A. 山顶冬季气温日较差小于夏季
- B. 冬、夏季一天中最高气温均出现在谷地
- C. 陡崖冬季气温日较差大于夏季
- D. 冬、夏季谷地气温日较差变化幅度最小

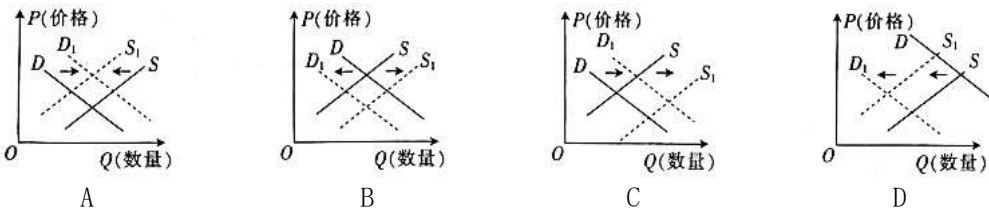
10. 关于山顶气温日较差较小的原因，下列分析不正确的是（ ）

- A. 山顶日间受地面增热影响小
- B. 山顶风速较大，热量交换较强
- C. 山顶夜间受地面冷却影响大
- D. 夜间冷空气下沉交换来暖空气

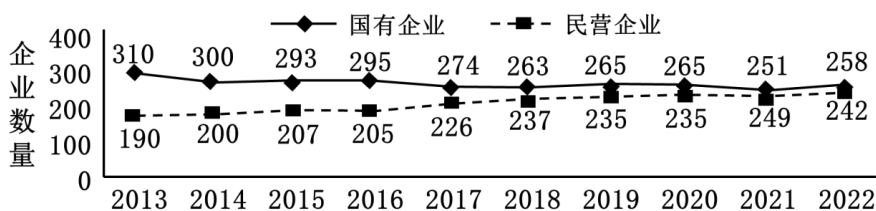
11. 该地最接近的区域是（ ）

- A. 四川
- B. 福建
- C. 新疆
- D. 黑龙江

12. 热带水果榴莲多产于东南亚。近年来，中国掀起榴莲消费热潮，在过去两年中，中国进口榴莲数量占全球的91%。随着《区域全面经济伙伴关系协定》(RCEP)生效，中国进口关税大幅下降，这进一步激发了东南亚国家积极开拓中国市场的热情，与此同时榴莲价格也出现了不同程度的下降。不考虑其他因素，下列能正确反映中国榴莲消费市场变化的图示（S、D分别表示变化前的供给曲线和需求曲线，S<sub>1</sub>、D<sub>1</sub>分别表示变化后的供给曲线和需求曲线）是（ ）



2013-2022年我国500强入围企业所有制结构变化趋势图



13. 上图的变化得益于 ( )

- ① 改革开放以来我国始终不渝坚持“两个毫不动摇”的方针政策
- ② 我国不同所有制经济发展的制度环境和市场环境等得到优化
- ③ 我国民营经济在社会主义市场经济中的地位和比重不断提高
- ④ 我国发挥各种所有制的长处并调动了不同经济主体的积极性

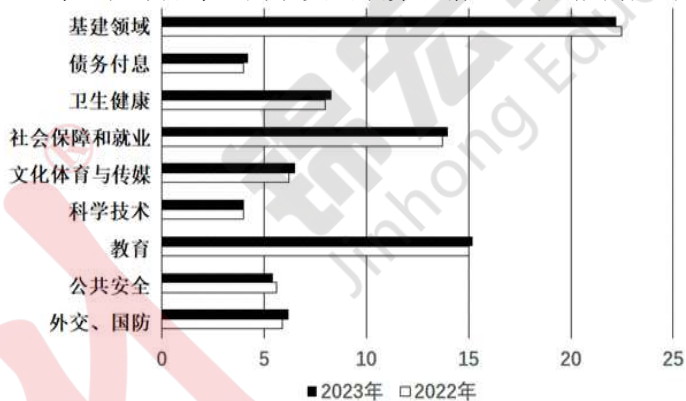
A. ①③                      B. ①④                      C. ②③                      D. ②④

14. 2023年10月13日,进出口银行在银行间债券市场成功发行推进“一带一路”国际合作和支持“一带一路”基础设施建设主题金融债券,发行金额共计110亿元,本次发行获得了市场投资者的广泛参与和踊跃认购。这一主题金融债券 ( )

- ① 在实现资本要素优化配置的同时,促进居民财产性收入增加
- ② 能够推动“一带一路”基础设施建设,助力国际合作和发展
- ③ 以中央政府的信誉为担保,投资风险低,投资收益较高
- ④ 通过间接融资的方式,缓解“一带一路”项目资金困难

A. ①②                      B. ①④                      C. ②③                      D. ③④

15. 下图是2023年“国家账本”财政支出预算,据此,下列判断正确的是



资料来源：2023年财政预算草案(单位：%)

注：2022年全国一般公共预算收入20.37万亿元,比2021年增长0.6%；2022年全国一般公共预算支出26.06万亿元,增长6.1%。

- ① 继续实施积极的财政政策,保障国家重大战略部署
- ② 保持适度的财政赤字规模,解决当前经济过热问题
- ③ 完善第三次分配,保障社会成员生活的“最后一道防线”
- ④ 财政支出更多向社保、就业、教育倾斜,促进经济社会相协调

A. ①②                      B. ①④                      C. ②③                      D. ③④

16. 2023年7月,成都市市场监督管理局面向全市各酒店住宿、餐饮、旅游景区、交通等相关行业经营者发出提醒告诫,相关经营者要对照要求,认真开展自查整改,规范自身价格行为。市场监管部门将加大市场价格执法力度,严肃查处不执行明码标价规定、价格欺诈、哄抬价格等违法行为,对情节严重、影响恶劣的价格违法行为,将从严从重查处并公开曝光。这表明 ( )

- ① 政府运用经济手段规范引导市场主体的行为
- ② 政府要坚持抑制餐饮等相关商品的价格上涨
- ③ 企业在追求自身利益过程中要遵守市场规则
- ④ 市场调节有弱点和缺陷需要政府引导和监管

A. ①②                      B. ①④                      C. ②③                      D. ③④

17. 2023年3月5日，习近平总书记在参加他所在的十四届全国人大一次会议江苏代表团审议时强调：“我常说‘两个必保’，一个是粮食饭碗中国必须端牢，再一个制造业必须筑牢。一个14亿多人口的大国，必须靠自己解决这两个问题”。下列围绕“这两个问题”的传导路径正确的是（ ）

① 完善农机购置补贴政策 → 加快先进农机推广 → 提高粮食产量质量 → 保证粮食自给

② 合理确定粮食最低收购价 → 保障农民种粮收益 → 激发农民种粮积极性 → 维护粮食安全

③ 强化重大技术装备攻关 → 保障装备供给 → 增加制造业门类 → 推动制造业迈向高端

④ 构建制造业创新体系 → 激发制造业创新活力 → 提升制造业竞争力 → 筑牢制造业根基

A. ①②

B. ①③

C. ②④

D. ③④

18. 以“链接世界，共创未来”为主题的首届中国国际供应链促进博览会于2023年11月28日在北京开幕。链博会立足高质量、高端化、高水平，努力发挥贸易促进、投资合作、创新集聚、学习交流四大平台的作用。举办链博会的国内经济意义在于（ ）

① 主动服务构建新发展格局，以高水平对外开放拓展中国式现代化发展空间

② 有利于中国企业更加深度参与全球产业分工，推动建设现代化产业体系

③ 促进各国加强合作、共享机遇，实现全球产业衔接更有序、畅通更高效

④ 注重国内外上中下游企业的交流合作，促进全球产业链供应链畅通融合

A. ①②

B. ①④

C. ②③

D. ③④

19. 城乡基层党组织结对共建，是推动城乡融合发展的有效措施。某乡党委立足甲社区、乙村群众居住集中、服务阵地的相邻优势，成立联合党委，实行“两套班子、一个空间”集中办公，对两个村(社区)党群服务中心各功能阵地进行重新布局，实现办公最少化、服务群众最大化，不断提升基层党组织建设水平。推行城乡党组织联建有（ ）

① 发挥基层党组织在基层自治中的战斗堡垒作用

② 转变政府职能，促进基层政权组织建设的发

③ 基层党员干部践行全心全意为人民服务的宗旨

④ 基层党组织履行经济建设和社会建设的职能

A. ①③

B. ①④

C. ②③

D. ②④

20. 政务数据开放是政府信息公开的全面升级：在内容上，开放的对象由“政府信息”转化成为“政务数据”，具有原始、完整、及时、可机读等更高的要求；在方式上，从以前的被动“公开”转化成为主动“开放”，简化了公民获取政府信息的流程。相较于政府信息公开，政务数据开放更加有利于解决政府工作过程中出现的（ ）

① 优化革新了政府治理流程和方式，旨在提升政府的公信力

② 有助于政府提供更加有价值的公共服务，让公众的知情权和质询权得以实现

③ 加强了政府和公众之间的互动和透明度，提升了政府服务效能

④ 为提升政府数字化履职能力、推进国家治理体系和治理能力现代化提供有力支撑

A. ①②

B. ①④

C. ②③

D. ③④

21. “党派有优势，群众有需要，社会有关注”，某地根据各民主党派和统战团体的特色和优势，形成“一党派一品牌”的工作机制，将该地统一战线力量广泛凝聚起来。各民主党派按照对口联系的原则，围绕经济社会发展大局和群众需求，深入开展各项社会服务活动，树新观、谋新路，着力在务实、持续上下功夫，倾力打造“同心相伴+”有辨识度的社会服务品牌。材料表明（ ）

- ① 各民主党派发挥了界别优势，积极探索社会服务的新形式、新路径  
 ② 更好地履行人民政协职能，反映人民政协成立的初衷和使命价值  
 ③ 各民主党派聚焦党和国家的中心任务履职尽责，展现参政党使命与担当  
 ④ 各民主党派加强组织建设，筑牢思想根基，强化政治责任

A. ①②                      B. ①③                      C. ②④                      D. ③④

22. 西藏和平解放 70 多年来，在这片高天厚土上，党和政府采取了一系列举措（如下表），创造了“短短几十年跨越上千年”的人间奇迹。（     ）

建设“稳定社会”：把维护祖国统一、加强民族团结作为一切民族工作的着力点。

打造“安康生活”：全面实施精准扶贫战略，各少数民族群众如期实现全面小康。

探索“发展路径”：持续做好区域协作和人才培养工作，在发展中改善保障民生。

提升“宗教修为”：坚持宗教中国化方向，促进藏传佛教与社会主义社会相适应。

据此我们可以推断，西藏的发展经验有（     ）

- ① 全面实施精准扶贫战略，坚持生态优先发展战略  
 ② 坚持用社会主义核心价值观引领西藏的宗教发展  
 ③ 保障西藏地区的立法权，把改善民生作为出发点  
 ④ 筑牢中华民族共同体意识，不断提升民族凝聚力

A. ①②                      B. ①③                      C. ②④                      D. ③④

23. 2023 年 10 月 25 日，国家主席习近平向美中关系全国委员会年度颁奖晚宴致贺信指出，作为两个世界大国，中美能否确立正确相处之道，攸关世界和平发展和人类前途命运。中方愿本着相互尊重、和平共处、合作共赢三原则，同美方推进互利合作，妥善管控分歧，合力应对全球性挑战。这意味着（     ）

- ① 我国奉行互利共赢的原则，践行人类命运共同体理念  
 ② 中美将超越意识形态鸿沟，携手推动世界和平与发展  
 ③ 如果中美双方推进互利合作，势将造福两国惠及世界  
 ④ 中美应以双方的共同利益作为发展对外关系的出发点

A. ①③                      B. ①④                      C. ②③                      D. ②④

24. 王家范在《中国历史通论》中指出：（西周分封制是）“共主”名义下的地方分权体制。但也有学者认为，（分封制）在地方分权的同时，也具有一定的集权色彩。他会运用以下哪一史料（     ）

- A. 《礼记》记载诸侯国君必须定期朝觐周王  
 B. 《诗经》记载周王派遣官员协助诸侯国君营建都城  
 C. 西周士山盘铭文记载周王命士山向诸侯国征收贡纳  
 D. 西周豆闭簋铭文记载周王命豆闭掌管某诸侯国军事

25. 汉初儒家代表人物陆贾的《新语》云：“昔舜治天下也，弹五弦之琴，歌南风之诗，寂若无治国之意，漠若无忧天下之心，然而天下大治……故无为者乃有为也。”对陆贾的上述思想，理解有误的一项是（     ）

- A. 吸取了秦朝灭亡的历史教训                      B. 符合了西汉初年的生产实际  
 C. 不利于加强中央的集权统治                      D. 契合了外儒内法的治国理念

26. 魏晋玄学认为纲常礼教、君臣上下、富贵贫贱多是“天理自然”，应该任其发展，不应干涉或强求，鼓吹“以小求大，理终不得。各安其分，则大小俱足。”由此可见，魏晋玄学（     ）

- A. 动摇了儒学的正统地位                      B. 反映了国家的四分五裂  
 C. 体现了儒道的融合成果                      D. 奠定了理学的思想基础

27. 白居易有诗云：“水市通闾闾（街市），烟村混舳舻。吏征渔户税，人纳火田租。亥日饶虾蟹，寅年足虎豕。……堤喧簇贩夫。夜船论铺赁，春酒断瓶酤。”诗作反映出（     ）

- A. 民间市场商品丰富，较为兴盛                      B. 市的设置突破时间空间的限制  
 C. 政府忽视民间商业活动的监管                      D. 俞大娘航船规模大，获利丰厚

28. 元朝是中国历史上首个由少数民族建立的大一统王朝，疆域广大、民族众多、推进了新的民族融合。下列关于元朝巩固统一多民族国家的举措，叙述正确的是

- A. 首次设立枢密院，主管军事机密及边防 ( )  
 B. 中央政权开始对西藏地区进行有效管辖  
 C. 通过行省，实现对全国版图的全面治理  
 D. 实施了严厉的民族分化和民族压迫政策

29. 明人张燮记载：“东洋吕宋，地无他产，夷人悉用银钱易货，故归船自银钱外，无他携来，即有货亦无几。”据统计，1571年至1644年的74年间，西班牙由菲律宾输入中国的白银约4240万两，同一时期西班牙输入中国的白银约为明朝白银开采量的3倍。上述现象对中国产生的影响，表述有误的是 ( )

- A. 促进了长途贩运和大额贸易的发展  
 B. 一个围绕白银输入中国的贸易网络逐渐形成  
 C. 推动了城市的进一步繁荣和坊市分区制度开始瓦解  
 D. 白银逐渐成为国家财政和民间交易的基本支付手段

30. 关于鸦片战争，有人认为，“自由贸易者背后的经济能力极其强大，无法遏制或阻挡”“如果在鸦片之外还有其他好的选择，比如说糖蜜或者大米，这场冲突就可能被称为糖蜜战争或者大米战争”。对于上述观点，认识准确的是 ( )

- A. 运用了自由贸易的原则正确分析  
 B. 混淆了毒品与一般商品的区别  
 C. 揭示出英国发动战争的根本原因  
 D. 论证了英国发动战争的偶然性

31. 1915年5月22日，《申报》刊登了一则上海中国明明眼镜公司的声明：“近有丧心病狂之徒，以自己之营业失败，侮蔑本公司货物，谓贩自日本，实为本公司意外之奇辱也……不独本公司无丝毫日货，即中国全国眼镜界上，吾亦敢断言绝无丝毫日货混杂其间。”该现象出现主要因为 ( )

- A. 中日两国外交关系恶化  
 B. 新文化运动深入发展  
 C. 民族企业内耗现象严重  
 D. 袁世凯对外卖国求荣

32. 在中央苏区，俱乐部是以政治动员为目标，进行政治文化学习与文娱体育活动的重要组织。1933年的统计显示，苏区乡村共有俱乐部1917个，经常参加体育运动者近10万人，城镇中俱乐部更加普遍。据此可知，该时期的俱乐部活动 ( )

- A. 冲破了苏联道路的束缚  
 B. 实现了工作重心的转移  
 C. 适应了革命形势的发展  
 D. 提升了人们的身体素质

33. 右图新年画（上联：合作社帮助买花买车买机子；下联：妇女们变工自纺自织自己穿；横批：合作社）表现了当时陕甘宁边区 ( )



- A. 男耕女织的小农经济特点  
 B. 对手工业进行所有制改造  
 C. 革命动员与妇女生活结合  
 D. 妇女走出家庭，走向社会

34. 从1992年初开始，国有企业逐步打破长期存在的“铁饭碗”，实行全员劳动合同制；逐步打破长期存在的企业干部终身制，实行企业管理人员的聘任制；逐步打破长期存在的“大锅饭”，形成个人收益与企业效益相互挂钩并相互约束的新机制。这反映了 ( )

- A. 国有企业改革面向市场  
 B. 经济体制改革全面展开  
 C. 现代企业制度得以确立  
 D. 市场经济体制初步建立

35. 近年来，随着信息技术不断发展，各种类型的历史资料数据库相继建立。有学者认为，“大数据使历史资料利用产生革命性变革”，历史研究进入“e-考据”时代。对此理解正确的是 ( )

- A. 大数据的应用改变了史料运用的原则  
 B. 数字化史料丰富了史学家的研究内容  
 C. 历史资料数字化提高了史料利用效率  
 D. “e-考据”指历史学与考古学的结合

二、非选择题：共 160 分。第 36~42 题为必考题，每个试题考生都必须作答。第 43~46 题为选考题，考生根据要求作答。

(一) 必考题：共 135 分

36. 阅读图文材料，完成下列问题。(22 分)

近期，位于内陆腹地，远离大海的新疆因“海鲜”迎来大丰收而火爆出圈。其中，位于塔里木沙漠西北边缘的新疆红旗农场，在地势低洼的盐碱地上建起了第一个智能生态海产养殖基地。该农场采用盐碱水质综合改良调控技术，利用盐碱地、河道滩涂建设鱼塘和温棚养殖基地，将当地的盐碱水调配成与天然海水水质接近的人工海水，实现“海鲜陆养”，成功试养了石斑鱼、南美白对虾、鲍鱼、龙虾等多种海鲜。目前，该农场的“海鲜”产品已上架各大商超和电商销售平台，同时出口俄罗斯、马来西亚等国。下图为盐碱地上的养殖基地。



(1) 试从水体的角度，说明红旗农场在当地发展海水养殖的有利条件。(6 分)

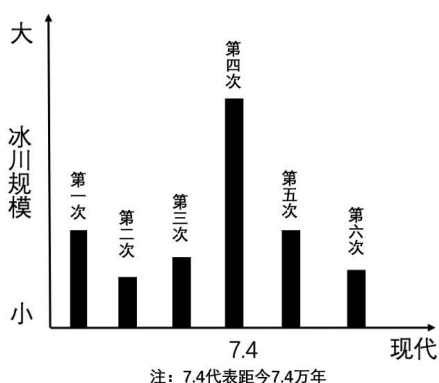
(2) 与我国东部沿海海水养殖相比，分析红旗农场“海鲜陆养”的优势。(6 分)

(3) 红旗农场海鲜要保证在内地市场的新鲜程度，需要哪些措施。(4 分)

(4) 请为红旗农场海鲜养殖产业的可持续发展提出可行性措施。(6 分)

37. 阅读图文资料，完成下列要求。(24 分)

漂砾是分布在平坦地区，由冰川搬运来的巨大石块。中国学者对我国西部地区一河谷出现的巨石研究中，发现岩性和两侧山地不同，此河谷周边地区现代冰川规模小，推测该处巨石是由于寒冷的第四纪冰期冰川作用。进一步研究发现第四纪冰期中该地发生过 6 次大的冰川活动，但该区域表面堆积的物质主要是其中距今约 7.4 万年那次的冰川遗物，左图是该地区在第四纪冰期中发生的 6 次冰期的冰川规模 and 对应时间示意图，右图是河谷冰川漂砾。



(1) 该河谷出现的巨石是第四纪冰期作用的结果，请分析学者推断的理由。(6分)

(2) 说明出露的岩层转变为河谷漂砾的地质作用过程(8分)

(3) 分析该河谷表面分布的冰川堆积物以距今7.4万的冰川遗物为主的原因(6分)

(4) 学者在我国东部的一些低山和丘陵带也发现了巨石，你认为是否是冰川搬运来的，并说明理由。(4分)

38. 面对经济复苏动力不足，经济结构性矛盾交织叠加等困难，2023年8月以来，党和政府积极谋划，主动出击，努力建设美好中国。阅读材料，完成下列要求。(24分)

材料一 【政策“组合拳”用起来】

政策	影响路径
8月31日，国务院印发《关于提高个人所得税有关专项附加扣除标准的通知》，提高3岁以下婴幼儿照护、子女教育、赡养老人这3项专项附加扣除标准，调整后的扣除标准自2023年1月1日起实施。	①
8月31日，央行、国家金融监督管理总局联合发布《关于降低存量首套住房贷款利率有关事项的通知》，明确自2023年9月25日起，银行将开始下调存量首套住房商业性个人住房贷款利率水平。	②
9月3日，财政部、税务总局发布《关于先进制造业企业增值税加计抵减政策的公告》，明确了针对先进制造业企业的增值税加计抵减政策、上调部分企业研发费用加计扣除比例。 (注：加计扣除是指按照税法规定，在实际发生数额的基础上，再加成一定比例，作为计算应纳税所得额时的扣除数额的一种税收优惠措施。简单的说，就是实际支出的金额，在计算企业所得税的时候，可以按高于实际支出的金额来计算。)	③
9月14日中国人民银行宣布，决定于2023年9月15日下调金融机构存款准备金率0.25个百分点。	④

(1) 分析上述“组合拳”对稳增长、提信心、防风险的预期的影响路径。(12分)





## 材料二

## 【政府行动“卷”起来】

◆ 淄博市仅仅是一个对人民的承诺，便打造了一个亮丽的“淄博烧烤节”，一个有烟火气的城市，把“便民、利民、惠民”的创城理念贯穿到文明创建的每一个细节。

◆ 北京市通过“减、放、并、转”，精减113个审批服务事项，推行并联审批、多审合一制度，以“多规合一”协同平台为支撑，让数据多跑路，群众少跑腿。

◆ 苏州市各部门协调分工各司其职，完善行政程序法律制度，界定“责任清单”，深化行政立法全过程质量监控体系，把责任横向压实到边，纵向推进到底。

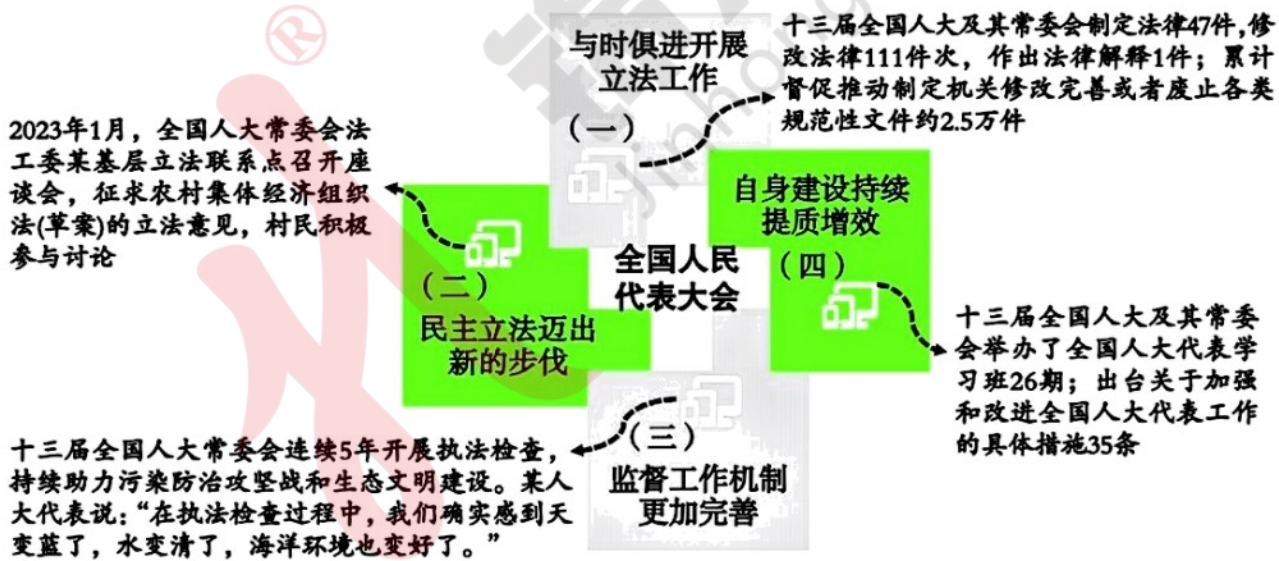
◆ 成都市适应网络时代要求，通过“网络问政”平台建设，走好网上群众路线的具体实践，更加便捷高效回应群众关切，并及时公开行政执法信息。

(2) 结合材料二，运用“为人民服务的政府”的知识，分析各地政府在美好中国建设中主动作为的亮点。(12分)

## 39. 阅读图文材料，完成下列要求。(12分)

党的十八大以来，以习近平同志为核心的党中央全面加强对人大工作的领导，不断健全人民当家作主制度体系，发展全过程人民民主，人民代表大会制度更加成熟、更加定型。

## 十三届全国人大及其常委会五年工作剪影



结合材料，运用政治生活知识，说明对“人民代表大会制度更加成熟、更加定型”的理解。(12分)

40. 2023年9月7日下午，习近平总书记在黑龙江省哈尔滨市主持召开新时代推动东北全面振兴座谈会上的重要讲话中强调：“积极培育新能源、新材料、先进制造、电子信息等战略性新兴产业，积极培育未来产业，加快形成新质生产力，增强发展新动能。”阅读图文材料，完成下列要求。（16分）

新质生产力，“新”在具有高技术水平的新型劳动者。高素质人才决定了新质生产力的发展，人力资本的发展推动科学技术突破，带动生产力质的飞跃，成为新质生产力中具有决定意义的能动主体；“新”在具有高技术特征的生产工具。新时代科技革命赋予生产工具高新科技化特征，新能源、新材料、人工智能、互联网、云计算等新型生产工具改变传统生产方式，是推动新质生产力发展的内在动力；“新”在具有高新特点的新产业。高素质的劳动者大量运用大数据、区块链、人工智能等新技术催生出具有竞争力的新兴产业和新业态，

（1）结合材料，运用经济生活的知识，阐明我国应如何通过培育新质生产力促进经济高质量发展。（12分）

（2）形成新质生产力，关键在培育形成新产业。“十四五”规划和2035年远景目标纲要提出，在类脑智能、量子信息、基因技术、未来网络、深海空天开发、氢能与储能等前沿科技和产业变革领域，组织实施未来产业孵化，谋划布局一批未来产业。任选两个方面，适当结合生产生活实际，请描绘你对前沿科技、未来产业发展的憧憬。（4分）

41. 中国不仅是一个陆地大国，还是一个海洋大国，海洋文明和大陆文明都让我们引以为豪。阅读材料，完成下列要求。

**材料一** 中国一个海洋大国，但在古代未形成清晰完整的海权意识。清朝前期，被誉为“认识海疆形势第一人”的将军施琅认为，“天下东南之形势，在海而不在陆。陆地之为患也有形，易于消弭；海外之藏奸也莫测，当思杜渐”。康熙帝囿于满汉大防，未有效关注。雍正帝一改明代弃守沿海岛屿政策，建立岛屿与海岸并重的全面防御体制。在此基础上，乾隆帝坚持海防重于通商的指导思想，将与西洋贸易由四口减为了一口。鸦片战争后，一些有识之士深感海防危机，萌发建立外海水军的近代国防思想。1907年，日本人侵入我国东沙岛，在中国方面据理抗争交涉下，最终收回了东沙岛，在收的同时，清政府“书立碑记，以保海权而重领土”，并拟定了开发和经营的办法。

——摘编自王秀英《近代中国海权意识的觉醒》

## 新质生产力是什么？

从经济学角度看，新质生产力代表一种生产力的跃迁。它是科技创新在其中发挥主导作用的生产力，**高效能、高质量**，区别于依靠大量资源投入、高度消耗资源能源的生产力发展方式，是**摆脱了传统增长路径、符合高质量发展要求**的生产力，是数字时代更具融合性、更体现新内涵的生产力。

**材料二** 相对于“海权”，海防一词更符合中国“和而不同”传统文化的特点。与传统海防观相比，现代海防的内涵也更丰富，海防职能、范围、难度，与政治、经济、外交、文化等领域的联系更密切。建国之初，无论是肃清沿海岛屿上的国民党残军，还是解放海南岛、收复台湾都需要加快海军建设，更新舰艇装备。对此，毛泽东等党和国家领导人给予了大力支持。朝鲜战争爆发后，美国第七舰队开进台湾海峡，我国战略中心转向朝鲜半岛，1953年，按中苏协定，中国从苏联购得舰艇共137艘，并迅速具备了自行装配制造海军舰艇的工业能力。1958年8月，毛泽东在北戴河召开会议，研究领海线的相关问题。在充分听取意见和综合考虑的基础上，最终决定我国领海宽度为12海里。1982年公布的《联合国海洋法公约》也规定“各国有权确定不超过12海里的领海”。

—— 改编自刘征鲁《毛泽东心系海军建设》

(1) 根据材料一并结合所学知识，概括清朝海防观念的变化并分析其原因。(12分)

(12分)

(2) 根据材料二并结合所学知识，简析中国现代海防观念形成的因素。(13分)

#### 42. 阅读材料，完成下列要求。(12分)



图1：1912年，被警察剪辫子的山西农民



图2：1947年，抢购黄金的上海市民



图3：50年代末，大庆石油工人王进喜



图4：1977年冬，参加高考的考生

照片是触摸历史脉搏、感受生命温度的媒介。围绕“历史中的人”，提取以上一到两幅照片信息，自拟论题，展开论述。(要求：主题明确，史论结合，表述清晰)

(二) 选考题：共25分。请考生从2道地理题、2道历史题中每科任选一题作答。并用2B铅笔在答题卡上将所选题目对应的题号方框涂黑。按所涂题号进行评分，不涂、多涂均按每科按答第一题评分；多答按每科所答第一题评分。

#### 43. 【地理——选修3：旅游地理】(10分)

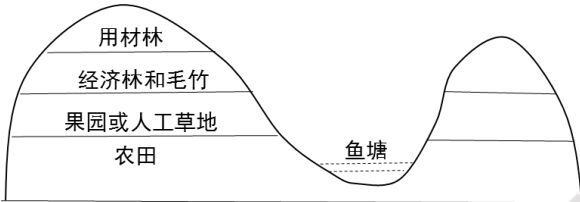
10月29日，2023成都马拉松鸣枪起跑。作为全国唯一的世界马拉松大满贯候选赛事，今年的成马吸引了来自全球的35000名选手参赛。和往年一样，今年的比赛路线同样将围绕城市标志性建筑和名胜古迹展开。从起点金沙遗址博物馆到终点新会展中心，选手们将穿过极具成都特色的大街小巷，途经杜甫草堂、青羊宫、锦里、武侯祠、宽窄巷子、人民公园、天府广场等著名景点和城市地标，其中半程马拉松的终点首次放在了四川大学博物馆，让参赛选手在奔跑中领略成都的风土人情，尽览成都城市的魅力。成都马拉松始于2017年，首届参赛人数约为2万人，迄今已经成功举办了7届。



说明成都马拉松比赛的举办对促进成都旅游业发展的积极作用。

#### 44. 【地理——选修6：环境保护】（10分）

江西省太和县千烟洲采用“丘上林草丘间塘，缓坡沟谷鱼果粮”的模式发展立体农业。



- (1) 指出该地区典型的生态环境问题并分析产生的自然原因。（6分）
- (2) 分析提高“丘上林草”植被覆盖率对缓解该生态环境问题的过程。（4分）

#### 45. 【历史——选修1：历史上重大改革回眸】（15分）

**材料** 1901年1月，慈禧太后以光绪皇帝的名义发布新政上谕，宣布新政变法开始。4月，清廷催促各省督抚大臣“迅速条议具奏，勿再延逾观望”。7月，两江总督刘坤一和湖广总督张之洞联衔会奏，连上三折，此即《江楚会奏变三折》。第一折关于教育改革，涉及建立近代学校教育体制、变革科举制度、奖劝游学等内容；第二折关于政治改革，大致包含改善用人行政政策、清除吏治腐败、改良司法、革除弊政等方面；第三折关于军事与经济改革，主张通过向西方学习，以实现国家富强，内容包括用西法练兵，学习西方近代农业技术，改良农业，发展工业等。江楚会奏的变方案对清末的改革拟订了详细规划，得到朝廷嘉许并予以采纳。清末新政正式进入具体实施阶段。

——据《张文襄公全集》等

- (1) 根据材料并结合所学知识，简析“江楚会奏”的历史背景。（7分）
- (2) 根据材料并结合所学知识，归纳“江楚会奏”变法方案的特点。（8分）

#### 46. 【历史——选修4：中外历史人物评说】（15分）

**材料** 1985年，江泽民出任上海市市长、中共上海市委副书记，1987年任中共上海市委书记。……全力促进上海的改革发展稳定。他领导制订上海经济发展和城市建设规划，提出在20世纪末把上海建设成为开放型、多功能、产业结构合理、科学技术先进，具有高度文明的社会主义现代化城市的发展方针。他积极支持开发开放浦东，强调要把浦东建设成为国际化、枢纽化、现代化的世界一流的新市区。为广泛听取各方面意见，充分调动各方面积极性，实现上海经济社会发展战略目标，他倡导建立了民主党派双月座谈会、新闻界理论界双月座谈会等制度。他注重以科技创新推动经济发展，建立了重大工程决策专家论证制度。为了扩大上海对外开放，他提出相互了解、相互信任、互惠互利、长远考虑的发展对外经济交流的四项原则。……1989年6月，在中共十三届四中全会上，江泽民当选为中共中央政治局常委、中央委员会总书记。

——摘编自《江泽民伟大光辉的一生》，新华社北京

- (1) 根据材料并结合所学，分析江泽民同志改革发展上海举措的历史背景。（8分）
- (2) 根据材料并结合所学，指出江泽民同志的举措中体现了哪些精神？（7分）

# 成都石室中学高 2024 届“一诊”模拟考试

## 文科综合能力测试参考答案

### 一、选择题。

1. B	2. D	3. C	4. A	5. D	6. B	7. D	8. C	9. A	10. C	11. D	
12. C	13. D	14. A	15. B	16. D	17. C	18. A	19. A	20. D	21. B	22. C	23. A
24. D	25. D	26. C	27. A	28. B	29. C	30. B	31. D	32. C	33. C	34. A	35. C

### 二、非选择题。

#### 36. (22分)

(1) 深居内陆，气候干旱，盐碱地面积大，地表水质和海水接近；地势低洼，周边高山冰雪融水、地下水、河流水汇集，水资源较充足；科技的进步，技术支持，可调配人工海水；地广人稀，土地面积广阔，养殖水域面积大。(答对3点得6分)

(2) 人烟稀少，远离城市和工业，水质受污染小；有高山冰雪融水，水温低，鱼类生长周期长；深居内陆，不受海上台风等海洋灾害影响，降低生产风险；距离内陆市场近，运输成本低。(答对3点得6分)

(3) 加强科学技术投入，提高养殖技术，提升海鲜的品质；由于距离销售市场较远，故要改进保鲜、冷藏技术，延长储藏时间，保障品质；加强电子商务和现代化物流(冷链)体系建立，加快流通环节，缩短运输时间。(答对2点得4分)

(4) 树立品牌意识，加大宣传力度，提高当地知名度；调整水产养殖结构，提高名优品种的养殖比例；加大科技投入，提高养殖水平；发展水产品加工，延长产业链，提高附加值；保护生态环境，发展绿色生态渔业，提升产品品质；利用互联网电子销售平台，拓宽销售渠道和销售范围。(答对3点得6分)

#### 37. (24分)

(1) 漂砾岩性和当地岩性不一致，说明是外来岩石(2分)；现代冰川规模小，难以搬运巨大漂砾(2分)；第四纪冰期气候寒冷，冰川规模大，可以搬运巨大岩石(2分)。

(2) 岩石受风化作用发生崩解破碎(2分)，冰川在流动过程中侵蚀破碎的风化产物(2分)，搬运岩石(2分)，在平坦地区流速减缓，且气候变暖，逐渐融化，最终巨大岩石堆积停留形成漂砾(2分)。

(3) 距今7.4万年冰川规模大，侵蚀搬运强，堆积的物质多(2分)，前三次冰川规模小，冰川遗物被7.4万年带来的物质推平、摧毁、掩埋(2分)。后面两次规模比7.4万年的规模小，冰川的遗物难以被推平、摧毁、掩埋(2分)。

(4) 是。我国大部分处于温带地区，北方冬季气候低(2分)，加上第四纪冰期及其寒冷，东部的一些低山丘陵区域可能发育冰川(2分)。

不是。东部没有高山(2分)，难以发育冰川；东部季风气候降水量大且集中，巨大石块可能是滑坡崩塌古泥石流等因素带来的(2分)。

#### 38. (12分)

(1) ① 提高个税专项附加扣除标准，可以进一步减轻家庭生育养育和赡养老人的支出负担，提高居民消费意愿和能力，扩大内需。(3分)

② 降低存量首套房贷款利率既可以降低购房负担，从而增加购房需求，还可以减少还款压力，使得消费者在日常消费中更加宽裕，从而促进消费市场的繁荣和发展。(3分)

③ 针对先进制造业企业的增值税加计抵减政策通过降低企业税负，鼓励企业研发创新，进而加快企业转型升级，促进我国经济高质量发展。(3分)

④ 央行降准，向市场释放更多流动性，缓解市场主体融资压力，助力稳增长、

提信心、防风险。（3分）

(2) ① 淄博市政府坚持求真务实，打造“淄博烧烤节”，真正做到了对人民负责、为人民服务；（3分）

② 北京市通过精简优化审批制度，并运用互联网、大数据、人工智能等技术手段，提高依法行政水平，优化了政府治理流程，提高了政府服务效能，打造了智能高效政府；（3分）

③ 苏州市通过完善行政程序法律制度，界定“责任清单”，做到了依法行政，打造了权责法定、执法严明的政府；（3分）

④ 成都市政府通过“网络问政”平台建设，走好网上群众路线的具体实践，充分体现政府科学民主依法决策，及时公开行政执法信息，自觉接受人民监督，让权力在阳光下运行，增强了政府的公信力，保障了人民的知情权、监督权，打造了人民满意、公开公正的政府。（3分）

### 39.（12分）

① 人大代表大会制度是坚持党的领导、人民当家作主、依法治国有机统一的根本政治制度安排。

党的十八大以来，人大工作取得历史性成就，充分体现了人民代表大会制度更加成熟更加完善。（3分）

② 坚持党的全面领导，经法定程序将党的主张上升为国家意志，为人民代表大会制度更加成熟更加定型提供了政治保证；（3分）

③ 基层立法联系点的设立，充分体现了全国人大及其常委会坚持民主立法，健全立法机关和社会公众沟通机制，提高公民参与立法的积极性，为人民代表大会制度更加成熟更加定型提供了群众基础；（3分）

④ 全国人大及其常委会与时俱进开展立法工作，科学立法并积极行使监督权，促进法制健全和执法规范，改进人大代表工作，为人民代表大会制度更加成熟更加定型提供了法治保障。（3分）

### 40.（16分）

(1) ① 深入实施科教兴国战略、人才强国战略，提高劳动者素质，从而不断提高劳动生产效率，提高我国经济发展的效益；（4分）

② 实施创新驱动发展战略，突破关键技术壁垒，提高自主创新能力，实现我国经济发展的动能转换；（4分）

③ 建设现代化产业体系，以科技创新为引领，加快传统产业升级改造，培育壮大战略性新兴产业，以传统优势产业转型升级和战略性新兴产业发展推进生产力跃升。（4分）

#### (2) 示例：

① 期盼将来的网络可以无死角全覆盖，不再支付流量费；

② 期盼基因技术更加成熟，更多通过基因干预治愈疾病、延缓衰老，提高人们的生活品质。（言之成理，均可得分）

### 41.（25分）

(1) **变化：**从传统陆防观念到初具海防观念；从不清晰、不关注到越来越重视；从弃守海岛到岛屿、海岸并重防御再到建立外海水军防御；从只重海防不重通商到重海防也重海洋开发。（每点2分，任意3点6分）

**原因：**近代侵略者主要从海上而来；鸦片战争的失败让国人认识到近代海军的重要性；由于赔款等原因，国家财政经济出现困难；西方近代海洋观念的影响。（每点2分，任意3点6分）

(2) **因素：政治：**新中国成立后，国际地位的提高；党和国家领导人的重视；祖国统一大业的需要；

**经济：**随着经济恢复和发展，国家综合国力迅速增强；发展海洋经济的需要；

**外交：**“一边倒”方针影响下，我们得到了苏联的支持和帮助；美国为首的资本主义阵营的敌视，给新中国带来巨大压力。文化：“和而不同”的中国传统文化影响；传统海洋观念的发展更新（每点2分，任意7点13分）

#### 42. (12分)

**【示例1】论题：**照片定格了人在历史中的瞬间，是历史研究的第一手史料。

**阐述：**1912年，中华民国的成立实现了近代中国的历史性巨变，南京临时政府颁布了一系列包括剪辫易服、移风易俗的措施，推动中国的近代化。图1照片定格在山西农民被剪去发辫的瞬间，正是民国初年社会习俗变化的表现。1946年，蒋介石挑起内战，1947年，国民政府滥发纸币，实施恶性通胀政策，致使物价飞涨，国统区人民生活受到严重影响。图3上海市民为维持生计，抢购黄金的情景，反映了国统区经济已陷入困境；50年代末，在外部形势逐渐紧张、党内“左”倾思想的影响下，国家发动了“大跃进”运动。虽然一定程度上脱离了经济建设的客观实际，但极大地激发了工人阶级建设国家的热情。图3石油工人“铁人”王进喜，正是在当时国家建设的浪潮中涌现的劳动模范；1977年，随着中国历史命运的转折（文革结束），国家恢复高考，中国的教育事业走向复兴，图4是1977年参加高考的考生，反映了中国恢复高考制度的教育改革。（任选2~3幅图作答）

**综上所述，**照片为我们研究历史事件、人物提供一手史料，具有极高的历史研究价值。

**【示例2】论题：**历史照片折射出，国运与人生息息相关。

**阐述：**照片属于珍贵的第一手史料，透过照片，可以了解历史，可以感悟国运与人生的休戚相关。

1912年，中华民国的成立实现了近代中国的历史性巨变，南京临时政府颁布了一系列包括剪辫易服、移风易俗的措施，推动中国的近代化。图1照片中的农民感受到是巨变带给自己的变化——从清朝的臣民变成了民国的公民；1946年，蒋介石挑起内战，1947年，国民政府滥发纸币，实施恶性通胀政策，致使物价飞涨，国统区人民生活受到严重影响。图2中的上海市民们正是受害者之一。他们不得不去银号去抢购黄金，以维持基本的生活水平；1977年，随着中国历史命运的转折（文革结束），国家恢复高考，中国的教育事业走向复兴，图4中参加高考的考生，在改变自身命运的同时也改变了国家命运，促进了中华民族的伟大复兴。（任选2-3幅图作答）

**综上所述，**照片是历史的视窗，凝结着厚重的历史岁月，折射出国运与人生的密切联系。

#### 43. (10分) 【旅游地理】

吸引大量游客来成都参赛和观赛，增加旅游收入；进一步提升成都城市形象及各旅游景点的知名度；促进对成都市旅游资源的保护和开发；完善成都市的旅游基础设施；促进旅游服务水平的提高；带动旅游周边产业发展；促进成都市体育旅游发展。（答对5点得10分）

#### 44. (10分) 【环境保护】

(1) 水土流失（2分）；江西省位于东南丘陵，地表起伏大，地表物质不稳（2分）；亚热带季风气候降水量大且多暴雨（2分）；红壤质地黏细雨天易流失（2分）。（答对2点得4分）

(2) 林草茂密利于截留，降低降水强度和减低降水对地表的冲刷力度（2分）；地表植被和枯枝落叶利于截留雨水和泥沙，增加雨水下渗，减缓水土流失（2分）；林草根系固定土壤，减少泥沙流失（2分）。（答对2点得4分）

#### 45. (15分)

(1) **背景：**戊戌政变后，慈禧为首的顽固派把持朝政；19世纪末20世纪初，民族危机空前严重；国内革命形势日益高涨；地方势力崛起、中央权力式微；（每点2分，4点7分）

(2) **特点：**中央和地方势力联合推动；以富国强兵为目的；措施较为系统及

详细；与戊戌变法的内容相似；指导思想未超越“中体西用”的范畴（或未涉及政体方面的变革）。（每点2分，任意4点8分）

46.（15分）

（1）**依据：**上海拥有地理优势、经济优势，但发展面临困难；国家正在由计划经济体制向新的经济体制转变（或经济体制改革全面展开，对外开放格局逐渐形成）；对党的建设（或建设一个什么样的党和怎样建设党）有了更深的认识；在西方和平演变影响下，国际社会主义出现严重曲折；第三次科技革命突显科技创新的作用。（每点2分，任意4点8分）

（2）**精神：**立党为公、执政为民的奉献精神；立足实际，发展上海的实事求是精神；敢闯敢试、勇于创新的改革精神；发动群众，依靠群众的团结精神；海纳百川、兼容并蓄的开放精神；（每点2分，任意4点7分）

