

达州市普通高中 2024 届第一次诊断性测试

文科综合试题

文科综合共 300 分，包括思想政治、历史和地理三部分，考试时间共 150 分钟。

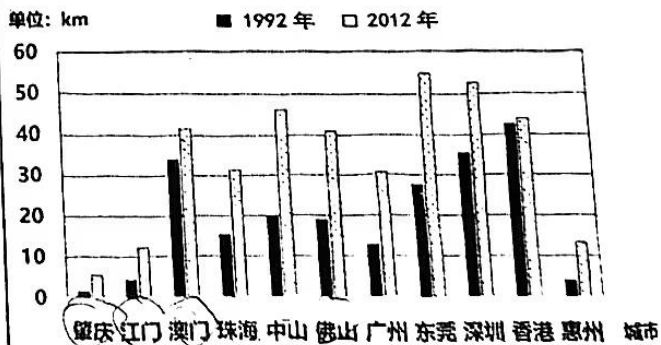
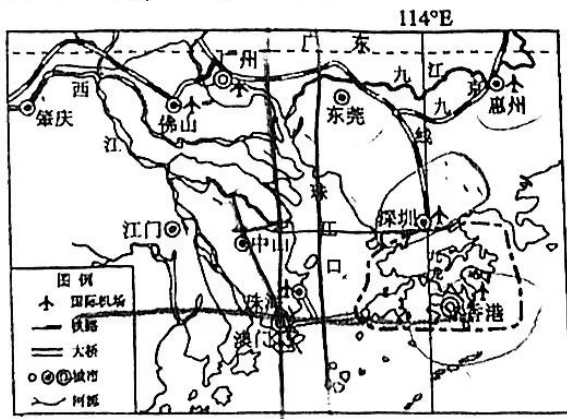
注意事项：

1. 本试卷分为第 I 卷(选择题)和第 II 卷(非选择题)两部分。答卷前，考生用直径 0.5mm 黑色签字笔将自己的姓名、班级、准考证号涂写在答题卡上，检查条形码粘贴是否正确。
2. 选择题使用 2B 铅笔填涂在答题卡对应题目标号的位置上，如需改动，用橡皮擦擦干净后再选涂答案括号；非选择题用直径 0.5mm 黑色签字笔书写在答题卡的对应框内，超出答题区域书写的答案无效，在试题卷上答题无效。
3. 考试结束，将答题卡交回。
4. 本试卷如遇缺页、漏页、字迹不清等，考生须及时报告监考老师。

第 I 卷 (选择题，共 140 分)

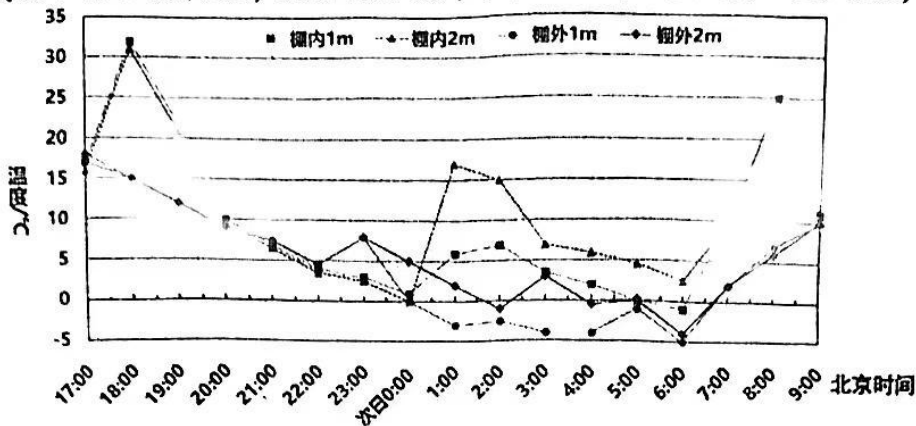
一、选择题：本大题共 35 小题，每小题 4 分，共 140 分，在每小题给出的四个选项中，只有一项是符合题目要求的。

城市夜光亮度是研究城市空间格局及其变化的重要指标，与城市化水平具有相关性。下图为粤港澳大湾区位置图(左图)和该区各城市 1992~2012 年平均夜光亮度变化图(右图)。据此，完成 1~2 题。



1. 与 1992 年相比，2012 年粤港澳大湾区各城市平均夜光亮度
①香港增长速度最慢
②珠江口西侧平均增速快
③各地均有大幅增长
④城市等级越高增长越快
A. ①②
B. ①③
C. ②③
D. ③④
2. 与珠江口西侧 7 市相比，东侧 4 市平均夜光亮度较高的主要原因是
A. 国际机场更多
B. 改革开放政策更优惠
C. 地形更加平坦
D. 大城市带动作用更强

宁夏属于我国霜冻多发地，农作物产量和品质受霜冻灾害影响很大，在众多的防霜措施中，防霜棚具有独特的优越性。某科研小组在宁夏固原市某试验区，测得某日该地防霜棚逐时温度变化数据(如下图)。该日日落时间 19:35，日出 06:09，覆帘时间 17:30，覆帘期间棚内处于相对封闭状态，次日 0:00 棚内均匀放置 2 个火盆进行加温。据此，完成 3~5 题。




- 该日北京时间 12 时，防霜棚影子朝向
 - 正南
 - 正北
 - 西北
 - 东南
- 覆帘后至日落期间，棚内外温差较大的主要原因是棚内
 - 获得太阳辐射更多
 - 大气散射作用更弱
 - 地面辐射散失更少
 - 大气保温作用更强
- 次日 1~2 时，棚内 2m 处气温高于棚内 1m 处的原因是
 - 2m 处吸收短波辐射更多
 - 2m 处热空气聚集更多
 - 1m 处吸收长波辐射更多
 - 1m 处热空气聚集更多

海洋性冰川是指发育于降水丰沛的海洋性气候地区的冰川，冰川补给多，消融量大，移动速度快，冰川作用较强。雅鲁藏布江流域是我国海洋性冰川分布的典型代表，在这里冰川与绿树并存，被称为“冰绿之地”，几乎所有山谷冰川的末端都深深扎进了森林之中。据此，完成 6~8 题。

- 冰川末端出现在森林之中，是因为
 - 冰川前进快于消融
 - 冰川补给量大
 - 坡度较小利于积雪
 - 冰川消融量大
- 冰川末端的森林最可能是
 - 热带雨林
 - 常绿阔叶林
 - 落叶阔叶林
 - 针叶林
- 我国还可能出现“冰绿之地”的地区是
 - 长白山区
 - 秦岭地区
 - 横断山区
 - 天山山脉

土林是一种由河湖相土状堆积物塑造的如塔如林的地貌。山西省大同盆地，这里有被誉为“东方古人类文化摇篮”的旧石器文化遗址，也有黄土高原上的奇迹——大同土林。下图为大同土林城堡景观图，据此，完成 9~11 题。



9. 根据材料, 推测大同土林地区的气候最可能发生的变化是
 A. 由湿变干 B. 由干变湿 C. 由冷变暖 D. 由暖变冷
10. 根据侵蚀程度, 推测图中甲、乙、丙地貌形成的先后顺序为
 A. 甲-乙-丙 B. 甲-丙-乙 C. 乙-甲-丙 D. 丙-乙-甲
11. 土林城堡上部平直边界形成的主要原因是
 A. 流水搬运 B. 裂隙纵横 C. 生物风化 D. 人为铲除
12. 第 19 届杭州亚运会期间, 在中国人民银行、国家外汇管理局等部门的指导下, 某集团与多方伙伴合作再度升级“服务亚运计划”, 通过 Alipay+ 新增支持亚洲境外钱包在华支付消费, 全球游客入境使用支付宝或 10 个境外钱包中的任意一个, 都可像本地人一样扫码消费。升级“服务亚运计划”是为了
 ①彰显我国科技创新优势, 加快人民币国际化进程
 ②优化境内涉外消费环境, 方便境外人士来华消费
 ③扩大数字人民币应用场景, 减少人民币的供应量
 ④提升金融服务水平, 充分释放“亚运经济”红利
 A. ①② B. ①③ C. ②④ D. ③④
13. 中央金融工作会议鲜明提出“加快建设金融强国”的目标, 强调推动我国金融高质量发展。为以中国式现代化全面推进强国建设、民族复兴伟业提供有力支撑。下列做法符合这一要求的是
 ①促进金融与房地产良性循环 ②增加财政支出以扩大社会总供给
 ③实现跨境投融资完全自由化 ④加快构建功能互补的多层次资本市场
 A. ①② B. ①④ C. ②③ D. ③④
14. 近年来, 某县在乡村振兴的路上大胆探索, 让“农房变客房、创意变生意、农品变商品”, “长藤结瓜”式发展乡村农舍, 走出了一条“政府主导、市场运营、企业参与、群众收益”的“农舍经济”。统计数据显示, 该项目带动农特产品年销售额超 1000 万元, 帮助村集体实现年均增收 2000 多万元。该地“农舍经济”发展的成功之处在于
 ①盘活了乡村闲置资源, 提高了农舍的使用价值
 ②探索城市反哺农村新机制, 实现了城乡一体化
 ③延长农村产业链, 推动了农村多产业融合发展
 ④多元主体协同参与, 汇聚了农村经济发展合力
 A. ①② B. ①④ C. ②③ D. ③④

今年是共建“一带一路”倡议提出 10 周年。2023 年 10 月 17 日至 18 日, 第三届“一带一路”国际合作高峰论坛在北京举行, 据此回答 15-16 题。

15. 下表是 2013-2022 年中国与“一带一路”共建国家之间相互申请的专利公开量情况。

年份	2013	2014	2015	2016	2017	2018	2019	2020	2021	2022
中国在共建国家专利申请公开量	1919	2926	3120	4231	5469	6027	7236	8622	12127	15170
共建国家在中国专利申请公开量	18315	19979	22767	24617	24151	26077	28658	29096	30227	29398

数据来源:《中国与共建“一带一路”国家十周年专利统计报告(2013-2022 年)》

据上表可以推断出

- ①中国绿色创新日趋活跃，朋友圈扩容增速 ②共建各国的专利输出量均大于专利输入量
③中国的知识产权保护 and 营商环境日益优化 ④中国与共建国家谋求技术联动、携手共进
- A. ①② B. ①④ C. ②③ D. ③④
16. 在开幕式上，国家主席习近平首次描绘了世界现代化美好图景，开创性地将中国式现代化进程中形成的资源要素、市场平台、实践经验和思想理念与全球发展场域对接，在中国式现代化与世界现代化进程的双向促进中实现共同繁荣。这表明
- ①我国的外交政策以维护世界和平、促进共同发展为宗旨
②世界各国顺应历史潮流，共同致力于推动世界和平发展
③我国以自身发展促进世界发展，做世界现代化的贡献者
④实现世界现代化成为我国一切对外活动的出发点和落脚点
- A. ①② B. ①③ C. ②④ D. ③④
17. 为贯彻落实党中央、国务院促进民营经济发展壮大的相关决策部署，2023年9月18日，市场监管总局正式发布《市场监管部门促进民营经济发展的若干举措》，回应了民营经济各类关切。市场监管总局出台举措意在
- ①持续优化民营经济发展环境，提振民营经济发展信心
②加强监管与服务，依法规范和引导民营经济健康发展
③加大民营经济政策支持力度，提升民营经济市场地位
④落实细化党中央决策部署，彰显党中央职能部门的作用
- A. ①② B. ①③ C. ②④ D. ③④
18. 人力资源和社会保障部推行15分钟就业服务圈，将就业服务站点嵌入党群服务中心、基层公共就业服务平台、社工站等各类公共服务平台中，依托公共就业服务队伍将就业服务工作关口前移基层、融入社区，通过就业需求摸排、就业岗位筹集、就业供需匹配、开展职业指导、就业能力提升、就业援助帮扶、创业指导服务等措施，直接对接就业链条的供需两端。推行15分钟就业服务圈有利于
- ①提升基层政务服务水平 ②扩大基层群众自治组织职能
③以政府有为促进社会有岗 ④发挥市场自发调节就业作用
- A. ①③ B. ①④ C. ②③ D. ②④
19. 网络绝非法外之地。用法治力量严惩网络暴力，既是广大网民的共同心声，也是法治社会的应有之义。2023年9月25日，最高人民法院、最高人民检察院、公安部联合发布了《关于依法惩治网络暴力违法犯罪的指导意见》，对网络暴力违法犯罪案件的法律适用和政策把握问题作了全面、系统的规定。发布该《指导意见》旨在
- A. 通过立法机关为惩治网络暴力违法犯罪提供法律遵循
B. 促进司法机关公正司法，不断规范司法行政机关行为
C. 更好地用法治力量严惩网络暴力，促进社会公平正义
D. 教育和引导广大网民提升网络道德观念，共享网络文明
20. 潮流浩荡，顺之者昌。尽管国际形势风云变幻，但开放发展的历史大势不会变，携手合作、共迎挑战的愿望也不会变。无论前途是晴是雨，携手合作、互利共赢是唯一正确选择。这告诉我们

- ①尊重和把握历史规律才能赢得未来 ②规律的存在和发生作用是无条件的
 ③世界因其物质性而不受意识的影响 ④要正确发挥主观能动性为人类造福
- A. ①② B. ①④ C. ②③ D. ③④

21. 习近平文化思想是习近平总书记在新时代文化建设方面的新思想新观点新论断，是新时代党领导文化建设实践经验的理论总结，既有文化理论观点上的创新和突破，又有文化工作布局上的部署要求，彰显了明体达用、体用贯通的鲜明特点。由此可见

- ①人类的实践活动具有社会历史性和直接现实性
 ②文化建设应该坚持理论创新和实践创新的良性互动
 ③与时俱进是马克思主义理论的首要的、基本的观点
 ④习近平文化思想立足实践，既有认识论又有方法论

- A. ①② B. ①③ C. ②④ D. ③④

22. 陕西的大荔冬枣，皮薄肉脆、甘甜清香，但受土壤因素制约，产量一直不高。近年来，西北农林科技大学红枣专家依托大荔枣的耐盐碱特性，带领团队在科技创新中不断寻找突破，在黄河滩区成功种植冬枣，年产值超过 60 亿元，使大荔成为了“中国冬枣第一县”。材料蕴含的哲学道理是

- ①辩证的否定是事物发展的环节和根本途径 ②辩证法的革命批判精神是事物发展的基础
 ③创新能促进生产技术进步，推动生产力发展 ④只要不断否定，事物就能保持旺盛的生命力

- A. ①③ B. ①④ C. ②③ D. ②④

23. 艰难困苦，玉汝于成，不吃苦无以成其志。种地、拉煤、打坝、挑粪……过跳蚤关、饮食关、生活关、劳动关、思想关，习近平总书记青年时代几乎什么活儿都干过、什么苦都吃过，是乡亲们眼中“吃苦耐劳的好后生”。凭着“自找苦吃、为老百姓做事”的信念，他与群众打成一片，为当地做成了不少好事实事，赢得了乡亲们的信赖。为此，总书记多次提倡年轻人要“自找苦吃”。之所以要‘自找苦吃’是因为

- ①自找苦吃是我们党的生命线和根本工作方法
 ②成功之路往往不会一帆风顺，必须积极应对
 ③敢吃苦、多吃苦是一个人应该有的价值追求
 ④不断砥砺自我是实现人生价值必不可少的条件

- A. ①③ B. ①④ C. ②③ D. ②④

24. 《韩非子》中有一故事：鲁人从君战，三战三北，仲尼问其故，对曰：“吾有老父，身死莫之养也”，仲尼以为孝，举而上之。百家争鸣中，引入其他学派的思想进入自己的叙事语境已是常态。这反映了

- A. 思想交流顺应统一的潮流 B. 儒家伦理成为选才的标准
 C. 孔子具有反对战争的思想 D. 法家认可儒家的伦常观念

25. 秦汉乡里组织拥有教化、征发赋役、维持治安、兼理听讼等职权；唐代以百户为里，五里为乡，城里设坊，田野设村，村坊邻里掌管核实户口、催征赋役等。据此推知

- A. 基层实行地方自治 B. 国家权力呈下移态势
 C. 政府重视基层管理 D. 乡里组织有行政职能

26. 下列文学艺术作品关于人物衣着服饰特点的叙述，反映了魏晋文人

人物衣着服饰特点	出处
画中几位文人的装束与神情桀骜不驯、藐视世俗。	在南京西善桥出土的砖印壁画《竹林七贤与荣启期》
文中叙述刘伶裸体坐于室内饮酒，客人来了不为所动，辩称：“我以天地为栋宇，屋室为裋衣，诸君何为入我裋中？”	晋朝陆机《晋记》篇
画中魏晋文人服饰清静高雅、超凡脱俗。	唐末画家孙位所作《高士图》

- A. 雅俗杂糅的审美取向
B. 对时代的回应
C. 自由洒脱的生活习性
D. 对儒学的背离
27. 陈寅恪在其《唐代政治史述论稿》中说：“北朝汉人、胡人之分别，不论其血统，只视其所受之教化为汉抑(或)为胡而定……”。此观点的提出主要是基于
- A. 胡汉分治的现实
B. 胡汉杂居通婚较多
C. 民族交融的增强
D. 唐代政治的包容性
28. 汉武帝时期桑弘羊建立了平准法，设平准官，按长安的物价，将各地运输到长安的物品，贵时抛售便宜时收买。王安石颁布市易法，规定粮食的市场价格下降时，平价收购囤积，待价格上涨过高时，以低于市场价出售。这些举措体现了政府
- A. 面临统治危机
B. 对经济的干预
C. 打击豪强势力
D. 旨在关注民生
29. 《弟子规》写道：“父母命，行勿懒；父母教，须敬听”“人有短，切莫揭；人有私，切莫说；道人善，即是善”，它被清朝誉为“开蒙养正最上乘”的读物。康熙《圣谕十六条》强调：“敦孝弟以重人伦，笃宗族以昭雍睦，和乡党以息争讼”。据此可知，清代
- A. 乡约教化功能弱化
B. 注重幼童的蒙养教育
C. 治国思想儒法结合
D. 倡导德孝的伦理教化
30. 晚清朝廷重用了一大批洋人为官，涉及多个领域，成为一道光怪陆离的“特殊风景”。赫德于1863年被委以海关总税务司要职，执掌海关大权近50年；传教士李提摩太被授予头品顶戴；戈登因镇压太平天国有功，被授予从一品提督。这些现象主要说明晚清政府
- A. 大量引进西方优秀人才
B. 努力适应外交近代化
C. 具有半殖民地化的特征
D. 已成为列强侵华工具
31. 1869年，苏伊士运河开通，与绕道非洲好望角相比，欧洲人到达亚洲的路程可以节省5000—12000公里。英国的工业品运往中国的成本随之大大降低，从而加强了其在中国市场的竞争力。受此影响
- A. 洋务民用工业创办加快
B. 通商口岸进一步地增多
C. 英国对华资本输出扩大
D. 民族资本主义初步发展
32. 中国内地第一支消防队是意大利人在天津租界组织的。1902年，清政府在天津成立南段巡警总局后，租界消防队移交清政府管理。其后，清政府在北京和各省会城市组建了消防警察队，均由当地警察厅、局直接管辖。由此可见，中国近代消防队
- A. 成为中国警察部队的源头
B. 推动了城市治理近代化
C. 适应了近代城乡发展需要
D. 主导了社会治安的管理

33. 从党的“六大”到“七大”，其间长达 17 年，是历次党的代表大会中间隔最长的。筹备召开“七大”，仅中央正式决定就有 8 次之多。出现这种现象的主要原因是
- A. 动荡的社会形势
B. 抗战还没有完全胜利
C. 共产国际的影响
D. 中国共产党尚未成熟
34. 1950 年 3 月，我国制定了《婚姻法》；1950 年 6 月通过了《土地改革法》；1954 年 9 月，第一届全国人民代表大会制定了《中华人民共和国宪法》、《中华人民共和国人民法院组织法》等法律。这些法律
- A. 形成了我国的法律法规体系
B. 配合了国家的工业化发展
C. 落实了“依法治国”的理念
D. 推动了我国民主法制建设
35. 20 世纪 80 年代以来，我国钢产量迅速增长，1980 年达到 3712 万吨，1983 年达到 4002 万吨，1986 年达到 5205 万吨，至 2002 年达到 18224 多万吨，钢产量已连续 7 年保持世界第一。这种变化主要得益于
- A. 科技水平的不断提高
B. 现代企业制度建立
C. 经济体制改革的推进
D. 成功加入世贸组织

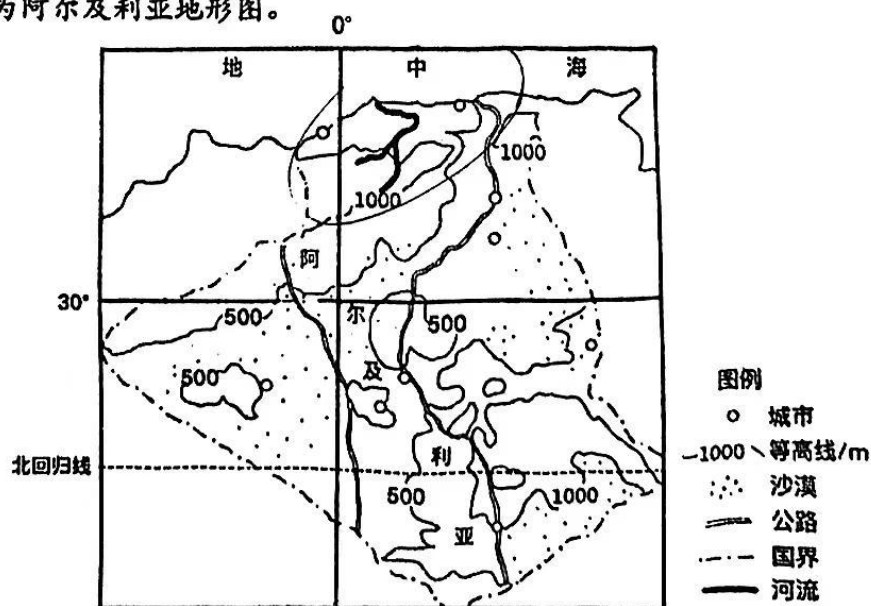
第 II 卷 (非选择题, 共 140 分)

二、非选择题：共 160 分，第 36-42 题为必考题，每个试题考生都必须作答。第 43-46 题为选考题，考生根据要求作答。

(一) 必考题：共 135 分

36. 阅读图文材料，完成下列要求。(24 分)

阿尔及利亚位于非洲西北部，总人口 4223 万(2019 年)，其中农村人口约 1150 万，以畜牧业为主，已耕地面积 846 万公顷，占国土面积的 3%。粮食生产受自然条件影响大，不稳定，生产效率低下，国内粮食供应严重短缺。我国湖南省作为国内农业大省，农业发展历史悠久，近年来，依托“一带一路”政策，“湘阿”双方通过农业产能合作，推动双方农业发展。下图为阿尔及利亚地形图。



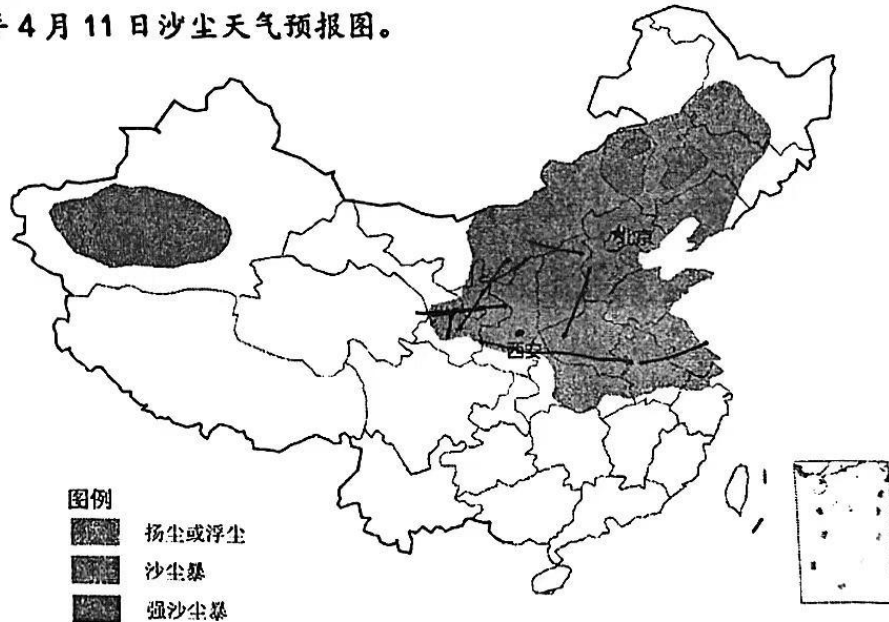
(1) 推测阿尔及利亚种植业分布最集中的区域，并说明判断理由。(8 分)

(3)与湖南省相比，分析阿尔及利亚南部发展种植业的气候优势。(4分)

(4)为促进阿尔及利亚农作物稳产增产提出合理化的“湘阿”合作建议。(6分)

37. 阅读图文材料，完成下列要求。(22分)

2023年早春，蒙古国大部与我国内蒙古西部都出现了异常的气温偏高现象，导致沙尘天气频发。据中国天气网消息，2023年4月11日，华北地区在北风推动下沙尘大举南下，沙尘天气随之结束。12日，随着近地面风向转变，出现沙尘回流的情况，网友戏称“回锅沙”。下图为2023年4月11日沙尘天气预报图。



(1)今年早春，蒙古国与我国内蒙古西部气温偏高，分析其在沙尘暴形成中的作用。(6分)

(2)与北部相比，陕西省南部受沙尘天气影响小，简析其原因。(6分)

(3)沙尘回流与冷高压的东移有关，据此说明华北地区此次沙尘回流的形成过程。(6分)

(4)华北地区春季沙尘暴频发，有人建议利用沙尘暴天气建立风力发电站，遭到专家的反对，试简述专家反对的理由。(4分)

38. 阅读材料，完成下列要求。(14分)

党的二十大报告指出“加快发展数字经济，促进数字经济和实体经济深度融合，打造具有国际竞争力的数字产业集群”。在全球互联网技术高速发展的时代潮流下，数实融合是高质量发展的重要途径。做好数实融合大文章，已成为推动高质量发展的迫切要求。

顺应技术演进方向，加速构建高速泛在、天地一体、云网融合、智能敏捷、绿色低碳、安全可控的智能化综合基础设施，加快5G、千兆光网、移动物联网、互联网协议第六版(IPv6)等规模部署，构建“云边端”协同、“算存运”融合的一体化算力基础设施体系。加大集成电路、新型显示、关键软件等重点领域核心技术创新力度，提升基础软硬件、核心电子元器件、关键基础材料和智能制造装备的供给水平，构建安全可控的技术体系。推动算力、模型、数据等关键要素创新突破，夯实通用人工智能技术底座。激发企业融合发展活力，构建具有国际竞争力的产业生态，提升数字治理现代化水平。围绕高质量发展这个首要任务，统筹发展和安全，加强战略谋划，完善思路举措，我国数实深度融合一定能不断取得新进展新成效。

结合材料，运用经济生活知识说明我国推动数实融合的原因！并分析如何推动数实融合取得新成效。(14分)

39. 阅读材料，完成下列要求。(12分)

治国必先治党，治党务必从严，从严必依法度。党内法规制度建设是中国共产党的传统和优势，早在1921年建党时就制定了具有党章性质的第一个纲领，1938年六届六中全会上正式开始提出“党内法规”概念。

一百多年来，党持续探索建立健全符合自身实际的党内法规制度。特别是党的十八大以来，以习近平同志为核心的党中央站在统筹中华民族伟大复兴战略全局和世界百年未有之大变局的高度，坚持全面从严治党、依规治党，坚持依法治国与制度治党、依规治党统筹推进、一体建设，紧紧围绕党和国家工作大局推进党内法规制度建设，形成了以“1+4”为基本框架，即在党章之下分为党的组织法规、党的领导法规、党的自身建设法规、党的监督保障法规四大板块，覆盖党的领导和党的建设各方面的比较完善的党内法规体系。截至2023年6月底，全党现行有效党内法规已有3802部。

结合材料，运用政治生活知识分析中国共产党加强党内法规制度建设的重要意义。(12分)

40. 阅读材料，完成下列要求。(26分)

中华文明作为农耕文明，经历数千年的农耕活动，逐渐形成了“顺天时，量地利，植五谷，养六畜，农桑并举，耕织结合”的农耕体系，具体表征为精耕细作和生态循环。

在挖掘中保护，在利用中传承，让农业文化遗产活起来，并加以合理利用，让其焕发出时代光芒，发挥其应有价值，具有极其重要的现实意义。我国西部的T县，稻谷成熟前半个多月，赶鸭下田、查看水稻、试捕田鱼……这是与中国其他一些省份稻谷丰收的场面不同而呈现的另外一番景象。“稻鱼鸭同收”在该地有着悠久的历史，它起源于中国先民“饭稻羹鱼”的传统，随后经过民族交往、文化融合逐渐发展成稻鱼鸭复合系统，是中华民族

长期在自然环境中不断探索的一种协同发展的农业系统。依托稻鱼鸭复合系统的当地人能更高效地利用山间有限的田地资源，既能“一水两用、一地多收”，缓解人多地少的发展矛盾，又能促进稻、鱼、鸭互利共生。鱼的排泄物为稻谷成长提供无机氮、磷养分，而散落稻田里的稻花或谷粒则成为鱼生长的天然饵料，田间的鸭子，既能吃掉害虫，客观上还能翻动田泥。近年来，该地依托稻鱼鸭复合系统推广种植的优质稻示范点，平均亩产达 651.58 公斤，相较传统水稻，增产 31.7%。当地还积极推进“设施辅助稻鱼综合养殖”“‘边沟式’稻鱼综合养殖”等新模式，增加了每亩田的鲤鱼饲养量，预计“稻花鱼”整体产量也比传统农田高不少。该县传承、发展古老农耕文明的这一丰收场景正是中国守护农耕文化助推农业现代化发展的缩影

(1) 结合材料，运用经济生活的知识，分析 T 县守护中国农耕文明是如何助推农业现代化发展的。(10 分)

(2) 复合农耕系统是中华民族长期在自然环境中不断探索的一种协同发展的农业系统，彰显着中国先民的农耕智慧。结合材料，运用联系观的知识对此加以说明。(12 分)

(3) 农耕文化是我国农业的宝贵财富。高三某班拟举办“挖掘农耕文化智慧，助力现代农业发展”为主题的综合实践活动，请你为此拟两条活动提纲。(4 分)

41. 阅读材料，完成下列要求。(25 分)

材料一 早在西周时代，中国和希腊之间散居的游牧部落就建立了最古老的的东西方贸易联系。亚历山大大帝东征和汉朝张骞凿空，从东西两头不自觉的合力，为“丝绸之路”的开辟创造了条件。古代中国出口产品绝大多数是丝织品，此外还有植桑育蚕缫丝技术、四大发明等，依稀还有传统文化；进口的则是玻璃、珊瑚等，欧洲的传统风俗、音乐、舞蹈、绘画、雕塑、天文、数学等也逐渐为中国所了解。直到新航路开辟前，中欧陆海贸易主要以中间商的间接方式进行。由于地理上的障碍和发展水平的限制，古代亚欧关系是稀疏的。古代亚欧文明的社会经济水平并无太大差距，双方关系是比较平等的。

——摘编自余建华《古代丝绸之路与亚欧文明交流》

材料二 1949—1969 年，多数西欧国家都将自己定位在美国领导的西方阵营里，为拓展外交空间，提升国际地位，中国对中欧关系的态度则更为积极。建国前夕，毛泽东就明确表示不以意识形态划界。在新中国前二十年，中法建交，中国与 7 个西欧国家建立大使级外交关系。中美关系解冻后，西欧国家普遍希望借与中国关系正常化来提高自己的国际地位，1970—1973 年，有 12 个西欧国家与中国建立了外交关系。当时中国把西欧定位在“第二世界”，对欧洲一体化进程也给予了积极的评价。1975 年中国与欧洲经济共同体建交，双方高层互访日益频繁，经贸关系发展很快。

——摘编自田德文《解析中欧关系中的观念因素》

(1)根据材料一并结合所学知识,概括白VT以文仕能特点,并力1 文仕的原因。(12分)

(2)根据材料二并结合所学知识,分析新中国前三十年中欧外交成果的意义。(8分)

(3)综合上述材料并结合所学知识,谈谈你对当前中欧关系的认识。(5分)

42.阅读材料,完成下列要求。(12分)

材料 近代以来,中国人的文化自信总体上呈现不断下滑的趋势,新中国的建立阻止了这一颓势,但改革开放后,文化自信又出现下滑的趋势,直到世纪之交才有所回升。由于文明史的书写掌握在西方人的手中,他们高举启蒙理性和现代性的大旗,把第三世界国家的历史描绘成野蛮或半开化的历史,即使像中国和印度这样历史悠久的文明,也被书写成缺少现代文明要素的落后传统。

-摘编自顾明栋《构建中国话语体系的一条可行路径》

根据材料并结合中国近现代史知识,围绕“文化自信”,自拟论题,展开论述。(要求:论题明确,史论结合,层次清晰)

(二)选考题:共25分,请考生从2道地理题,2道历史题中每科任选一题作答,如果多做,则每科按所做的第一题计分。

43.【地理——选修3:旅游地理】(10分)

贵州省台江县自20世纪40年代,每年都会农历“六月六”吃新节后举办篮球赛,奖品多为“村味”十足的当地特色农产品。2022年9月,该县台盘村一年一度的篮球赛事突然火爆,吸引了亿万网友围观,“村BA”一夜之间叫响全国。2023年3月27日,贵州省首届“美丽乡村”篮球总决赛在该村开赛,两万多人观众席座无虚席,数千万人在线观看,篮球场旁配套建有媒体采访接待间、宾客会客休息间、运动员更衣休息间等,赛场内外的活动组织井然有序。

(1)简述“村BA”火爆出圈的原因。(6分)

(2)分析“村BA”火爆出圈对台江县发挥旅游资源优势、促进经济发展的作用。(4分)

44.【地理——选修6:环境保护】(10分)

新能源汽车是推进我国碳中和目标实现的重要路径之一,我国新能源汽车以配备锂电池的纯电动汽车为主。随着电力的清洁化发展,新能源汽车也将实现更加显著的节能减排效果。近年来,国家积极制定实施新能源汽车发展规划。

评价我国大力推广新能源汽车对生态环境的影响。

45.【历史——选修1：中外历史改革回眸】(15分)

材料 780年，唐德宗采用宰相杨炎的建议，实行两税法。两税法以“量出以为入”为指导思想，先算好国家的财政用度，然后再向地方征税，按照两税三分原则，税收一部分上交中央财政，一部分节度使留用，一部分地方财政留用。这样将赋税权收归中央，改变了自安史之乱以来地方势力不断瓜分中央收入的现象。两税法规定税收一年缴纳两次，夏秋各一次，简化了税收名目，提高了工作效率；规定不再区分主户客户，也不以人头计税，而是按资产、田产划分户等，户等高者多负，低者少负，一定程度体现了公平的原则，改变了自战国以来以丁身为本的赋役制度；规定皇亲国戚、贵族官僚、地方豪强、不定居商户等都成为征税对象，扩大了纳税面；还规定征税形式用货币，但允许用实物折成钱。这是中国古代赋税史上一次具有开创性意义的重大变革。

——改编自《新唐书·杨炎传》等

(1)根据材料并结合所学知识，概括唐朝两税法改革的特点。(8分)

(2)根据材料并结合所学知识，分析实行两税法的意义。(7分)

46.【历史——选修4：中外历史人物评说】(15分)

材料 唐甄(1630—1704)，四川达州人，明末清初思想家，几与黄宗羲、顾炎武、王夫之齐名，被后来学者推为中国民主思想的先锋，代表作《潜书》。他在政治、经济、思想方面提出了一系列主张：认为至尊天子并非天地大神，而是人，君主只不过是“匹夫”“独夫”而已。认为官多害民，天下之官皆弃民之官，天下难治者，不是民而是官！认为人们应如兄弟，同处天地之间犹如同处一帐之内；在家庭伦理方面提出“男女，一也”。从人的自然生理角度论述欲望是人与生俱来的，追求生存和发展是人的天然权利。提出“天地之道故平”，治不平必富民，富在编户不在府库，若户空虚虽府库积财如山，实为贫国。反对儒者空谈误国，把能否教民视为儒者的标准。推崇王阳明良知之学，袭王阳明“知行合一”说，主张经世致用。

——改编自梁靖《唐甄的平等思想及其特色》

(1)根据材料并结合所学知识，概括唐甄思想的主要内容。(8分)

(2)根据材料并结合所学知识，分析唐甄思想形成的背景。(7分)