

高 2023 届高三一诊模拟考试文科综合试题

满分：300 分 时间：150 分钟

第 I 卷

本卷共有 35 小题，每小题 4 分，共 140 分。在每小题列的四个选项中，只有一项是符合题目要求

近 20 年来，四川省城乡人口大量流向东部沿海城市，城乡居民的收入较多来自于外出务工劳动力的收入返还。该省县域城镇化呈现出特殊发展模式：人口流出越多，城镇化速度越快（进城人群主要是农村留守的老人与儿童），县城就越繁荣。表 1 是 2000~2015 年四川省各层级城镇化水平变化情况。据此完成 1~3 题。

表 1

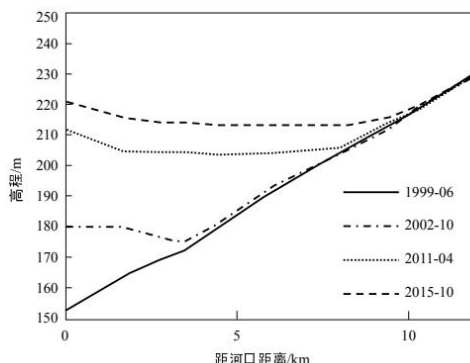
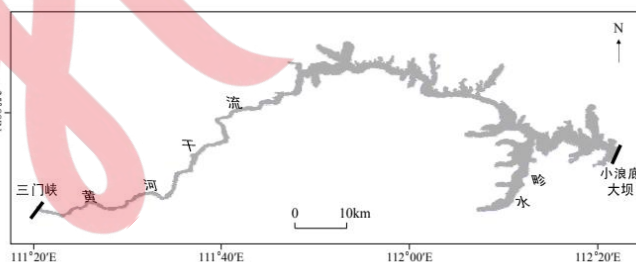
层级	2000 年 城镇化率 (%)	2015 年 城镇化率 (%)	2000~2015 年城镇人 口年均增长率 (%)
全省	27.1	48.1	3.9
成都市	53.7	71.6	3.8
地级市辖区	40.6	57.9	2.7
县域 (研究区内 76 个)	16.7	37.5	4.6

- 近 20 年来，四川省县域城镇化的主要驱动力是
 - 本地工业化
 - 异地工业化
 - 乡镇旅游业发展
 - 生活和教育需求

A. ①③ B. ②③ C. ②④ D. ①④
- 该省县域城镇化速度远超地级市，造成这种差异的主要原因是县域（与地级市辖区相比）
 - 工业化水平相对较高
 - 农村人口比例较高
 - 城镇住房价格相对较低
 - 常住人口老龄化程度较低

A. ①③ B. ②③ C. ②④ D. ①④
- 今后推动该省县域城镇化可持续发展的根本措施是
 - 增加城镇住房供给量
 - 降低城市入户门槛
 - 完善社会养老保障
 - 多元发展本地产业

小浪底水库建成于 1999 年 10 月，正常蓄水位 275 米，是黄河下游防洪、减淤问题的关键性控制工程。自建成以来，库区干流泥沙淤积呈（水下）三角洲形式向坝前推移，影响了水库的综合效益。研究发现，库区各支流流量很小甚至断流，干流水沙倒灌进入支流自下游向上游淤积，在支流与干流交汇处的河口形成了大规模水下拦门沙坎。下图为小浪底库区范围及其支流畛水河不同年份的纵剖面图。据此完成下面小题。

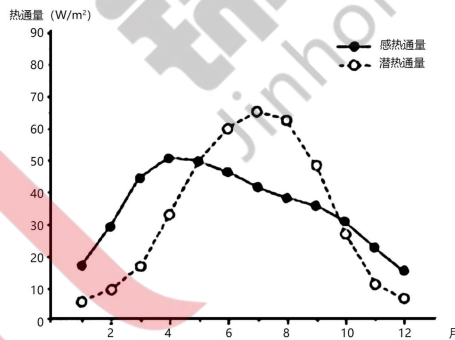


4. 2015 年，库区正常蓄水时，畛水河河口水深约
 A. 55 米 B. 70 米 C. 220 米 D. 275 米
5. 畛水河河口淤积的泥沙主要来源于
 A. 黄河上游 B. 黄河中游 C. 库区其它支流 D. 畛水河流域
6. 畛水河淤积的泥沙，自河口向上游
 A. 淤积变厚，颗粒变粗 B. 淤积变薄，颗粒变粗
 C. 淤积变厚，颗粒变细 D. 淤积变薄，颗粒变细

甘蔗适合栽种于土壤肥沃、阳光充足、冬夏温差大的地区。广西是我国甘蔗的重要产区，2017 年广西气象局与糖业部门联合成立了甘蔗气象服务中心，研发了甘蔗智慧气象 APP，蔗农可依据 App 提供的“土壤墒情实时监测、未来天气预报、长势、地块”等多维集成信息，实现甘蔗水、肥一体化智能精准控制。广西糖厂甘蔗开榨时间通常为每年 11 月中旬，但 2017 年利用智慧气象 APP 后，大多数糖厂将开榨时间推迟至 12 月上旬，缩短了榨季，却提高了产糖率。据此完成下面小题。

7. 在甘蔗生长期，蔗农对智慧气象 APP 的预报最关注的是
 A. 大风、强光 B. 暴雨、高温 C. 干旱、低温 D. 温差、肥力
8. 气象部门从传统服务模式向智能精准服务模式的转变为甘蔗生产带来的好处正确的是
 A. 提高水资源的利用率 B. 扩大甘蔗种植的面积
 C. 减少甘蔗灌溉的污染 D. 缩短甘蔗生长的周期
9. 利用智慧气象 APP 后，广西糖厂推迟甘蔗开榨的原因正确的是
 A. 前期气温日较差小，甘蔗含糖量低 B. 前期降水量多，甘蔗水分含量过大
 C. 后期市场需求减小，蔗糖存储过剩 D. 后期气温凉爽，利于提高生产效率

下垫面与大气之间通过对流（包括乱流）完成输送的热量被称之为“感热通量”。当地温高于气温，热量由地面传送给近地面较冷的空气并促其增热，感热通量为正值；反之，为负值。而下垫面由于水汽蒸发（蒸腾）而向大气传输的热量则被称为“潜热通量”。下图示意 1979—2014 年青藏高原平均地表感热、潜热通量的季节变化。据此完成下面小题。



10. 春季青藏高原感热通量值迅速增加，主要原因可能是
 A. 太阳辐射减弱 B. 积雪融化 C. 地表风速减小 D. 云量增加
11. 推测下列青藏高原的区域中夏季潜热通量最大的是
 A. 藏南灌丛草原区 B. 柴达木盆地荒漠区
 C. 羌塘高原高寒草原区 D. 昆仑高寒荒漠区
12. 2022 年以来，受到美国加码货币政策调整、地缘政治冲突等多重因素的影响。1 月至 8 月，欧元贬值 12%、英镑贬值 14%、日元贬值 17%、人民币贬值 6%。相较之下，人民币贬值幅度较小，人民币汇率继续在合理均衡水平上保持基本稳定。人民币汇率保持基本稳定的原因可能是
 ①我国的外贸和外资发展韧性较强，外汇市场供求基本平衡
 ②随着我国金融市场更加开放，外汇市场上外币流入量增加
 ③我国经济持续稳定发展，夯实了外汇市场平稳运行的基础

④美元汇率下跌，为保持人民币汇率持续稳定提供必要条件

A. ①③ B. ①④ C. ②③ D. ②④

13. 某企业是国内最大的电商平台，掌握着海量的消费数据。该企业专门组织团队将这些消费数据整理并归类分析，进行模型推演，并把相关的数据提供给平台上的商家。这对相关商家的重要意义在于

①强化品牌效应，塑造良好企业形象 ②降低营销成本，增强盈利能力
③把握市场需求，实现供需有效对接 ④改进生产技术，扩大生产规模

A. ①② B. ①④ C. ②③ D. ③④

14. 2022年11月25日，人力资源社会保障部宣布个人养老金制度在北京、上海、成都等36个先行城市或地区启动实施。个人养老金是政府政策支持、个人自愿参加、市场化运营的补充养老保险制度。缴费完全由参加人个人承担，自主选择购买符合规定的储蓄存款、理财产品等金融产品，按照国家有关规定享受税收优惠政策。建立个人养老金制度意在

①满足不同群体需求，提升老年群体生活水平 ②健全社会保险制度，促进个人养老事业发展
③进一步完善我国多层次多支柱养老保险体系 ④通过政府政策大力支持，有效提高投资收益

A. ①② B. ①③ C. ②④ D. ③④

15. 某市实行“阶梯式水价”，对未超过必需范围的居民生活用水实行低价，凡超过必需范围的居民生活用水、工业生产用水均按照市场价格收取水费。如今，该市的居民、企业节水意识大幅提升，节水设备被广泛应用，该市水资源紧张得到有效缓解。“阶梯式水价”

①说明政府定价是解决好水资源紧张的关键之策 ②体现市场与政府的有效结合实现资源合理配置
③表明经济杠杆能有效地控制市民的非理性用水 ④展现了调控从“点调控”向“区间调控”转变

A. ①② B. ①④ C. ②③ D. ③④

16. 2022年4月，中国人民银行印发的《关于做好2022年金融支持全面推进乡村振兴重点工作的意见》指出，要银行金融机构对新型农业经营主体的支持，强化对农业农村基础设施建设的金融支持，更好满足乡村振兴的金融需求。上述规定带来的积极影响传导过程是

①加大新型农业主体信贷支持→培育新兴产业→激活农村创新活力→优化农村经济结构
②扩大农村基础设施信贷规模→提高生产效率→助力传统农业转型→巩固农业基础地位
③实施科学宏观调控→完善金融支农机制→满足农村金融需求→增强乡村发展的持续性
④调整消费信贷政策→创新金融服务方式→释放农民的消费潜力→提高农民的生活水平

A. ①④ B. ①③ C. ②③ D. ②④

17. 截至2022年8月底，四川省港航投资集团下属各级混合所有制子企业由6户增加至57户，累计引入非公有制资本2.03亿元。2022年前9个月集团业绩大幅增长，纳入清单的9户重点亏损子企业成功扭亏。由此可见，该集团成绩单背后的原因有

①国有企业混合所有制改革，增强了国有资本运营的活力和能力
②国有企业实行股份制改革，提高了公司运行效率和管理科学性
③混合所有制经济丰富了公有制形式，为企业发展注入新鲜血液
④混合所有制经济的市场控制力增强，发展到国民经济各个领域

A. ①② B. ①③ C. ②④ D. ③④

18. “嫦娥”奔月、“天问”登火、“羲和”探日、“天官”迎客、“奋斗者号”万米深潜、“雪龙2号”

首航南极、C919 大飞机准备运营、5G 技术位居世界领先水平……近年来，中国科技创新突破性成就“井喷式”爆发，引发世人持续关注。中国科技创新突破性成就“井喷式”爆发表明

- ①我国不断提升自主创新能力，已经进入创新型国家行列
- ②我国把科技创新作为当前国家发展中心工作和主要任务
- ③我国顺应生产全球化、以国际协作作为科技创新的基础
- ④中国特色社会主义制度具有集中力量办大事的显著优势

A. ①② B. ①④ C. ②③ D. ③④

19. 截至 2022 年 6 月底，全国县乡两级人大换届选举全面完成，共选出县级人大代表 670563 名、乡级人大代表 195884 名。其中，一线工人、农民、专业技术人员等基层代表比例比上届分别上升 1.47 和 0.21 个百分点；妇女代表比例比上届分别上升 3.23 和 4.34 个百分点；少数民族代表比例分别为 15.42% 和 17.18%；归侨代表依照法律规定得以保证。这表明

- ①我国在实践中切实保障人民民主权利 ②人大代表的综合素养和履职能力提高
- ③我国人民平等地享有当家作主的权利 ④我国公民的民主权利的范围不断扩大

A. ①② B. ①③ C. ②④ D. ③④

20. 广东省一体化政务服务能力全国“四连冠”，“数字政府 2.0”建设向纵深推进。作为广东数字政府改革向基层延伸的重要成果“粤智助”，打通了政府服务“最后 100 米”，实现群众办事“小事不出村、大事不出镇”。广东数字政府建设，体现了

- ①政府遵循严格法律界定，推进责任的法定化 ②优化革新政府治理方式，提高政务服务效能
- ③政府不断提升执法水平，打造人民满意政府 ④积极履行政府基本职能，实现便民“零距离”

A. ①② B. ①③ C. ②④ D. ③④

21. 2022 年 11 月，《人民法院在线诉讼规则》正式施行，首次从司法解释层面构建形成系统完备、指向清晰、务实管用的在线诉讼规则体系。近年来，我国从推动裁判文书全面上网，到电子卷宗同步生成、移动微法院一网通办，再到设立互联网法院、人民法院在线诉讼规则施行等领域全方位升级。法院的上述举措意在

- ①加强司法监督，彰显司法权威 ②推进司法公开，提高司法公信力
- ③缩减办案环节，节约办案成本 ④提升审判质效，提升服务的水平

A. ①② B. ①③ C. ②④ D. ③④

22. 2022 年 8 月 24 日至 26 日，瑞安市佛教协会及市佛教慈善基金会开展一年一度的暑期慈善助学慰问活动。此次“爱满人间”暑期慈善助学慰问活动涉及 6 个乡镇街道，共为贫困学生送去爱心助学善款 10.4 万元，受益人数达 103 人次。这说明

- ①宗教对促进社会和谐稳定有一定的积极作用 ②扶贫济困、崇德向善是我国宗教的优良传统
- ③宗教教义与当代中国发展进步要求总是一致 ④宗教团体和信教群众依法开展正当宗教活动

A. ①② B. ①③ C. ②④ D. ③④

23. 2022 年 7 月 8 日，二十国集团(国际经济合作主要论坛)外长会在印尼召开。二十国集团成员和嘉宾国外长参会。在会议中，中方表示，当前世界和平与发展面临重大挑战。各方应加强宏观经济政策协调，共同维护全球产业链供应链稳定；加强多边贸易体制，继续把发展作为优先领域，加强减贫、抗疫等

领域合作。二十国集团

- ①旨在推倒西方国家主导的旧的国际机制，形成共同发展的多边贸易体制
- ②在解决事关世界和平与安全的重大全球和地区问题上起着不可替代作用
- ③已经成为中国参与全球治理的重要平台，为世界经济发展贡献中国智慧
- ④成员涵盖面广、代表性强，体现了不同发展程度国家及不同地域的利益

- A. ①② B. ①③ C. ②④ D. ③④

24. 据学者考证，春秋末年，陈国司徒辕颇向封疆内所有的田地征取赋纳。辕颇遭到拥有一定数量田地的国人驱逐，逃亡到郑国。这一考证可以说明

- A. 官僚政治的腐朽 B. 贵族与农民阶级矛盾尖锐
C. 土地制度的变动 D. 诸侯权威遭到卿大夫挑战

25. 公元前 220 年后，秦始皇先后五次“亲巡天下，周览远方”，并在泰山、会稽等地立碑刻石。下图是秦始皇巡游路线及部分刻石铭文简图。根据图，可推知秦始皇巡游及刻石，目的在于



- A. 巩固大一统国家的统治 B. 表彰皇帝功德
C. 配合灭六国的军事行动 D. 维护边疆安全

26. 下表为北魏孝文帝改革的部分内容。孝文帝的下述举动

孝文帝从前方回到洛阳后，见妇女服装仍为夹领小袖，就责备留守京都的官员，认为他们禁止胡服不彻底。
在废除西郊祀天前数年，孝文帝已开始采用中原地区的祭祀天地仪式，圆丘祭天，方泽祭地，以祖宗配天。

- A. 旨在表明北魏是华夏正统的继承者 B. 为北魏顺利迁都扫除了障碍
C. 有利于北方社会经济持续稳定发展 D. 赢得了北方大族的坚定支持

27. 下图是唐开元十年由岭南道广州怀集县所缴纳的庸调在上缴朝廷时由地方官折纳的银饼，出土于陕西西安何家村。这件文物可以说明



- A. 我国的白银货币化正式开始于唐代 B. 经济重心南移导致唐南北税制不同
C. 广州在唐代朝贡体系中的特殊地位 D. 唐代财政已利用贵金属的储值功能
28. 北宋元丰二年（1079年），时御史何正臣等上表弹劾苏轼，奏苏轼移知湖州到任后谢恩的上表及其他一些诗文中，用语暗藏讽刺朝政、针砭新法内容。此案中，苏轼险丧命牢狱，最后被贬黄州团练副使，这就是历史上的“乌台诗案”。材料体现了
- A. “乌台诗案”开“文字狱”先河 B. 北宋王安石提倡的变法斗争激烈
C. 宋代“重文轻武”治国方略调整 D. 北宋专制主义中央集权不断强化
29. 王阳明认为在断案时，“不可因其应对无状起个怒心；不可因他言语圆转生个喜心；不可恶其嘱托，加意治之；不可因其请求，屈意从之……这许多意思皆私，只尔自知。须精细省察克治。倘若以此行事，是非真相自然显明。”王阳明这主张意在
- A. 否定传统伦理道德标准 B. 坚持以教化协同律法以治吏
C. 践行礼法合治治理策略 D. 强调致良知以维护司法公正
30. 《瀛寰志略》于道光二十八年出版，最初所得评价不高，甚至遭到了守旧派的激烈攻击。直到同治五年，总理衙门重新印制发行，才使之得到广泛传播。《瀛寰志略》的两次发行
- A. 表达了政府自救的愿景 B. 体现了对传统政治的反思
C. 折射出时局的发展变化 D. 说明学习西方重心的转变
31. 陈旭麓在《近代中国社会的新陈代谢》中说：“立宪派和革命派是一对矛盾……二者的并峙表现了它们的不同-性，也有对抗性，但这种矛盾反映的是同一个阶级的不同阶层在改革方式和道路上的分歧，对立着的双方都在为沉沦中的中国寻求新的出路……因而又具有同一性。”对两派理解正确的是
- A. 两派都主张推翻君主制度 B. 两派所依赖的经济基础不同
C. 两派代表不同阶级的利益 D. 爱国是两者共同的历史起点
32. 毛泽东在某一时期的文章中有这样的论述：“在帝国主义间接统治的经济落后的半殖民地的中国。……必定伴着一件奇怪现象，那就是白色政权之间的战争，帝国主义和国内买办豪绅阶级支持着的各派新旧军阀，从民国元年以来，相互间进行着继续不断的战争，这是半殖民地中国的特征之一。”这一论

述

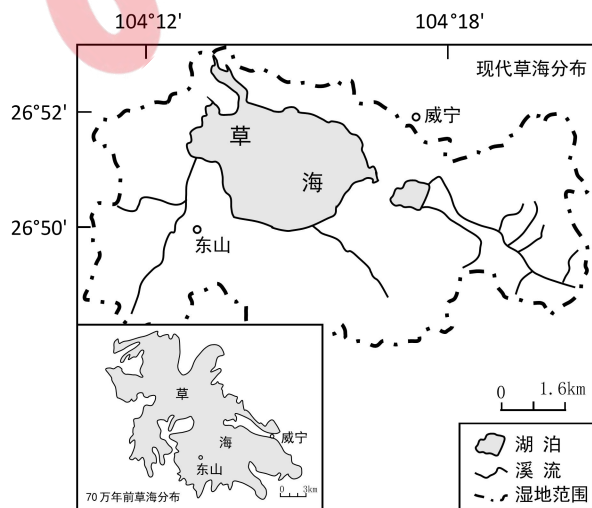
- A. 指出了“工农武装割据”形成的条件
 - B. 说明了近代中国命途多舛的原因
 - C. 论证了中共开展土地革命的必要性
 - D. 交代了中共领导民主革命的障碍
33. 1949年9月，中共中央华南分局财经接管委员会作出了一系列决定：肃清国民党政府发行的金圆券、银元券；严禁港币及其他境外货币在市场上流通；禁止金银计价、使用和私相买卖；收回华南解放区和革命根据地的裕民券、新陆券和南方券。这些举措
- A. 有利于积累资金推进工业化
 - B. 建立了社会主义公有制经济
 - C. 促进建立统一的人民币市场
 - D. 清除了国民党反动残余势力
34. 1980年12月，为解决国民经济发展中存在的比例失衡、物价上涨、财政压力加大等一系列问题，中共中央在北京召开会议，着重讨论了经济形势和经济调整问题。会议中邓小平指出“基本建设要退够，其他方面，主要是农业、轻工业和有关人民生活的日常用品生产、能源、交通建设，以及科教文卫事业要继续发展”，由此可知这次会议
- A. 明确了对内改革的主导方向
 - B. 彰显了实事求是的工作作风
 - C. 发挥了人民群众的主体作用
 - D. 突出了经济管理体制新思维
35. 21世纪以来中国外交在不断转型，进一步从“被动应对”向“争取主动”转变，中国对国际体系的参与由融入向塑造转变，即角色从“接受者”、“应对者”向“建设者”、“塑造者”转变。这一转型
- A. 表明中国积极参与全球治理
 - B. 缓和了亚太地区的紧张局势
 - C. 开启了中国融入全球的进程
 - D. 解决了经济的逆全球化问题

第II卷

本卷包括必考题和选考题两部分。第36题—第42题为必考题，每个试题考生都必须作答。第43题—第46题为选考题，考生根据要求作答。

36. 阅读图文材料，完成下列要求。（22分）

贵州省西部的草海（下图所示）属封闭型的岩溶湖泊，是国家级自然保护区，湿地内仅有几条季节性溪流发育。70万年来，在青藏高原整体抬升的背景下，草海湿地西部地形抬升，湖泊面积及中心位置不断变化。近5000年，草海流域气候经历温湿期和干凉区的交替变化，现在正处于干凉气候末期。



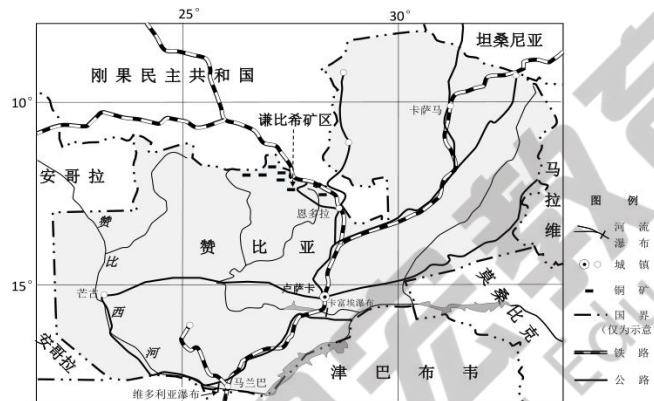
- (1) 描述草海湿地的地势特征，并说出判断依据。（6分）
- (2) 指出 70 万年来西部地形抬升对草海湖泊面积及中心位置的影响。（4分）
- (3) 研究显示，与温湿期相比现代草海湖中动物数量及种类较少，请分析原因。（6分）
- (4) 请在以下两观点中选择一个，并解释该观点的理由。（6分）

观点①：草海湖泊未来终将消失。

观点②：草海湖泊仍将长期存在，并有扩大的可能。

37. 阅读图文资料，完成下列要求。（24分）

2019 年是中国与赞比亚建交 55 周年。赞比亚国土大部分属于高原，林业和矿产资源丰富。赞比亚经济结构单一，是世界第四大产铜国，铜产业是其重要的经济支柱，铜矿石品位平均为 2.5%，还伴生有钴、铅、镉、镍等矿物；赞比亚采矿、选矿和冶炼技术水平不高。我国是世界第一大铜消费国，铜矿石品位平均仅为 0.87%。中国有色矿业集团有限公司（以下简称中色集团）投资赞比亚 20 余年，先后在赞比亚设立了 14 家企业，将谦比希铜矿建成非洲第一座数字化矿山，实现生产自动化、机械化、无人化、智能化和信息化。下图是赞比亚略图。



- (1) 分析赞比亚铜矿石外运出海运输成本高的原因。（6分）
- (2) 分析中色集团早期在赞比亚收购废矿石就近建冶炼厂的原因。（6分）
- (3) 简述中色集团打造数字化矿山项目对促进赞比亚矿业升级的意义。（6分）
- (4) 请为中色集团在赞比亚的企业实现生产经营“本土化”提出建议。（6分）

38. (28分) 党的二十大报告提出，高质量发展是全面建设社会主义现代化国家的首要任务。阅读材料，回答下列问题。

材料一 2022 年以来，我国实施新组合式税费支持政策。坚持阶段性措施和制度性安排相结合，减税与退税并举。一方面，延续实施扶持制造业、小微企业和个体工商户的减税降费政策，并提高减免幅度、扩大适用范围；加大研发费用加计扣除政策实施力度，将科技型中小企业加计扣除比例从 75% 提高到 100%，对企业投入基础研究实行税收优惠，完善设备器具加速折旧、高新技术企业所得税优惠等政策。另一方面，综合考虑为企业提供现金流支持、促进就业消费投资，大力改进因增值税税制设计类似于先缴后退的留抵退税制度，今年对留抵税额提前实行大规模退税。重点支持制造业，全面解决制造业、科研和技术服务、生态环保、电力燃气、交通运输等行业留抵退税问题。

- (1) 结合材料一，运用经济生活的知识，分析“减税退税”是如何增强市场活力的。（12分）

材料二 中国式现代化是人口规模巨大的现代化，是全体人民共同富裕的现代化，是物质文明和精神文明相协调的现代化，是人与自然和谐共生的现代化，是走和平发展道路的现代化。中国式现代化最艰巨的任务在农村。

过去十年，作为高质量推进乡村振兴、争创农业农村现代化先行省的浙江，先行先试取得实效：淳安县创新探索乡村联合体共富模式；常山县“两山银行”改革激活农村低效闲置资源；嘉兴市创新打造“种

粮宝”为实现粮食安全插上“数字化”翅膀；永康市“田保姆十田长制”助力粮食稳产保供；宁波市奉化区实行渔船“编组生产”打好渔业安全保卫战；衢州市柯城区余东村农民画以文兴业打造未来乡村；青田县传承发展“稻鱼文化”赋能乡村振兴。如今，“农业强、农村美、农民富”的梦想正在该省变成现实。

(2) 结合材料二，并运用经济生活知识，说明浙江经验对推进中国式农业农村现代化建设的借鉴意义。(12分)

(3) “治国之道，富民为始。”2022年8月，习近平总书记在辽宁考察时指出：“中国式现代化是全体人民共同富裕的现代化”。共同富裕，人人有份，也要人人参与、人人尽力、多献良策、多作贡献。学校团委发起“强国有我请党放心”主题志愿活动，请你设计两个具体志愿服务项目助力共同富裕。(4分)

39. (12分) 阅读材料，回答下列问题。

行政裁量权是指行政机关作出行政处罚时，可在法定处罚幅度内自由选择，包括处罚种类的自由选择和处罚幅度的自由选择。当前，在行政执法中存在该严不严、该宽不宽、畸轻畸重、类案不同罚等问题。

2022年7月21日召开的国务院常务会议审议通过了《关于进一步规范行政裁量权基准制定和管理工作的意见》《关于取消和调整一批罚款事项的决定》，将行政裁量权基准内容嵌入行政执法信息系统；将行政裁量权基准制定和管理工作的纳入法治政府建设考评指标体系和法治政府建设督察内容；对修改行政法规、部门规章提出了明确的时间要求；对取消的罚款事项，提出了信息化查验及“双随机、一公开”等替代监管措施。

结合材料，运用政治生活知识，说明我国进一步规范行政裁量权的意义。(12分)

40. (12分) 阅读材料，回答下列问题。

党的二十大报告指出：全面从严治党是党永葆生机活力、走好新的赶考之路的必由之路。回顾党的历史，不管是处于顺境还是逆境，中国共产党始终牢记“赶考”使命，体现了马克思主义执政党特有的精神品格，把“为中国人民谋幸福，为中华民族谋复兴”写在自己的旗帜上，团结带领全国各族人民，战胜各种艰难险阻，迎来了从站起来、富起来到强起来的伟大飞跃；在带领全国人民把方向、谋大局、定政策、促改革过程中，中国共产党始终走在时代前列，高度重视政治建设和思想建设；勇于自我革命，不断对党员干部进行马克思主义理论教育和共产主义理想信念教育；激发起党员干部干事热情，要充分依靠人民群众，为了人民群众，赢得全国人民的衷心拥护，凝聚起创业的磅礴力量。推动党和国家事业取得历史性成就、发生历史性变革，创造了让世界惊叹的“中国奇迹”。

结合材料和所学的政治生活知识，说明“赶考”路上中国共产党为什么能领导中国人民创造“中国奇迹”。(12分)

41. (25分) 阅读下列材料，回答问题。

材料一

西汉末年的公元11年，黄河在河北省磁县南决口，成灾漫流多年，直到公元70年，东汉明帝任用著名水利专家王景主持河床疏导。王景采取修堤、分洪、滞洪、放淤的综合措施，修、补堤坝千余里。黄河在之后的800多年间没出大的事故，被学界称为“长期安流”。东汉末以来，少数民族的内迁使耕地减缩、牧场扩展。畜牧相较农耕，对土壤植被的破坏要轻一些，黄河中游土地利用情况的这一变化，使下游的洪水量和泥沙量大为减少。黄河下游的人口在两汉时达到1600余万，西晋时锐减为208万，北魏全盛时也不超过250万。因人烟稀少，黄河决溢以至改道不会造成多大的损失。现存魏、晋及隋末史籍中，有关黄

河水患的记载多语焉不详，如北魏统一北方后，468年河决，27个州镇皆饥，全国四分之一地区受灾，对这样的大事，史籍中仅寥寥数语。

——据谭其骧《何以黄河在东汉以后会出现一个长期安流的局面》等

材料二

三门峡工程是“一五”计划中苏联援华的156个工程之一，于1957年4月动工，后因中苏关系恶化，在苏联专家带走大量技术资料以及断供核心设备的情况下，仍于1960年9月建成。三门峡水库的淹没面积这样大，是否必要、合理？三门峡水库是否会很快淤死？是否会危及西安工业基地？为了充分地控制洪水和泥沙，合理利用黄河水力资源，支持下游五省的灌溉事业和有关地区的工业，必须在中游干流上兴建大型水库。水土保持是治黄的基础，中游地区向下输沙占总量的90%。三门峡工程设计方案假定：到1967年减少入库泥沙20%，到1977年减少50%。陕西省估计，到1962年减少39%，到1967年减少75%。预计七八十年或者百年之后，随着三门峡库容的渐淤积，它的防洪和综合利用效用将逐渐转移到千支流其他水库，它将转化成一个个梯级电站。实际上到1964年三门峡淤沙问题就迫在眉睫了，后经过多次大大小小的改建，与小浪底等其它工程联合采取“蓄清排浑”的调控方式才有所缓解。每年调水调沙都会排放出大量的含沙量水体，导致下游河水严重缺氧，黄河藻类、鱼类大量死亡。

——据1958年《水电部党组关于黄河规划和三门峡工程问题的报告》等

- (1) 根据材料一并结合所学知识，分析影响学界认为东汉后黄河“长期安流”的因素。（9分）
- (2) 根据上述材料并结合所学知识，概括三门峡工程建设的背景。（10分）
- (3) 根据上述材料并结合所学知识，指出政府在提升国家治理能力时需要注意的原则。（6分）

42. 阅读材料，完成下列要求。（12分）

材料

良好的国家治理，制度是决定性的。“少一些统治，多一些治理”，这是从历史中得到的启迪。下面表格信息反映的是中国古代政治制度和治国思想的演变历程。

朝代	中央行政制度	地方行政制度	治国思想
夏	王位世袭制		君权神授，替天行命（即受天命而王，听命于神）
商	较完善的官僚系统；内外服制		
西周	分封制、宗法制、礼乐制度、原始民主传统		
秦	皇帝制；三公九卿制	郡县制	法家思想“以法治国”

汉	内外朝制	汉初郡国并行制；汉武帝“推恩令”；刺史制	汉初黄老思想“无为而治”；汉武帝以后“独尊儒术”
唐	三省六部制	道州县制；唐中期以后“藩镇制度”	文武并重，兼容并包
北宋	“二府三司”	路州县制；设“通判”	崇文抑武，守内虚外
元	中书省	行省制；设宣慰司管理边疆事务	附会汉法，实施民族歧视和压迫政策
明	废宰相；设内阁	废除行省，设三司	(明初)重典治国
清	设军机处	省府(州)县三级制；督抚制	敬天、法祖、勤政、亲贤

——摘编自朱绍侯、齐涛、王育济主编《中国古代史》

从上表中任选一个朝代，围绕该时期的国家治理体系提出自己的观点，并根据材料和所学知识进行论证分析。（要求：明确列出所选朝代，观点正确，史实准确，论证充分，表述清晰。）

43. 【旅游地理】阅读图文材料回答问题。（10分）

从2019年起，圆明园、莫高窟、兵马俑等各地知名景区，陆续推出复刻有景区标志元素的文创雪糕。（下图）文创雪糕一般价格较高，但由于其著名景观的造型和承载的文化内涵，依然受到众多游客的青睐。手持文创雪糕拍照“打卡”，已成为不少人游玩时的“标配”。据悉，文创雪糕的部分收益将被用于文物修缮与景区的设施建设。

简析文创雪糕的热销对当地旅游业的意义。



44. 【环境保护】阅读材料，回答问题。（10分）

红嘴鸥生活在水网地带，主要以捕猎幼鱼、虾、昆虫等高蛋白食物为食，具有迁徙习性的野生动物，可能携带有环境中病菌。近年每年11月，红嘴鸥长途迁徙来到泸州，引来众多市民观赏。专业人士提醒市民不要向红嘴鸥近距离抛洒投喂低蛋白的馒头或者面包，如必需则尽可能保持一定距离，采用一粒一粒抛喂专用鸥粮为主。

简述反对近距离向红嘴鸥抛洒投食馒头或者面包的原因。

45. 【历史——选修1：历史上重大改革回眸】（15分）

材料

方面	内容
政治改革	除旧方面，裁撤归并如河东河道总督、詹事府、通政使司等旧衙门，裁汰冗员，裁、革陋规。 布新方面，1902年将总理衙门改为外务部。在1903年设立商部；设立练兵处，财政处。1905年设立巡警部、学部。后来工部并入商部，改称农工商部。
军事改革	1901年，清政府宣布废武科，在各省建立武备学堂。1903年，清政府设立练兵处，各省设立督练处，负责练兵事宜。与此相适应，清政府建立了一套近代军事人才培养体制，并委派留学生到英、法、德、日等国学习军事。
经济改革	积极鼓励、支持发展工业、农业与商业贸易，改变传统的重农抑商政策。
文教改革	1905年废科举并正式设立学部。奖励学堂出身。派遣留学生。面向社会的宣讲所、新闻馆、图书馆等也有所发展。
法制改革	1902年，对《大清律例》进行修改。1906年至1910年，陆续颁布新的法律，包括《刑事民事诉讼法》《新刑律草案》《大清新刑律》《大清刑事诉讼律草案》《大清民事诉讼律草案》，还有其他民法、商法与行政法等。
社会改良	建立警察制度，劝戒缠足，禁吸鸦片等。1902年废除满汉通婚的禁令。1904年，将以前只有满人可以担任的都统等职位开始向汉人开放。1907年，废旗人不从事生产的特权，授旗丁以田地，责令耕种。

- (1) 根据材料并结合所学知识，分析清末新政的背景和特点。（9分）
- (2) 根据材料并结合所学知识，简要评价清末新政。（6分）

46. 【历史——选修2：中外历史人物评说】（15分）

材料一

毛泽东义利观主要是在新民主主义革命时期形成的，这就决定了义利观具有自身的一些特征。比如，在物质和精神的关系，它更多地强调精神，以便于战胜在物质上强于我们的敌人；在国家或集体利益与个人利益的关系上，它更多地强调个人利益服从于国家或集体的利益，以便于在国破家亡中救亡图存；等等。

——2005年第2期《郑州大学学报》

材料二

“将更多地承认个人利益，满足个人的需要……我们提倡按劳分配，承认物质利益，是要为全体人民的物质利益而奋斗。每个人都应该有他一定的物质利益，但是这决不是提倡各人抛开国家、集体和别人，专门为自己的物质利益而奋斗，绝不是提倡各人都向‘钱’看。”

——1980年8月，邓小平回答意大利记者奥琳埃娜·法拉奇的讲话

- (1) 根据材料一和材料二，分别概括毛泽东和邓小平的义利观。（5分）
- (2) 根据以上材料和所学知识，简要分析造成以上两种不同义利观的原因。（10分）